

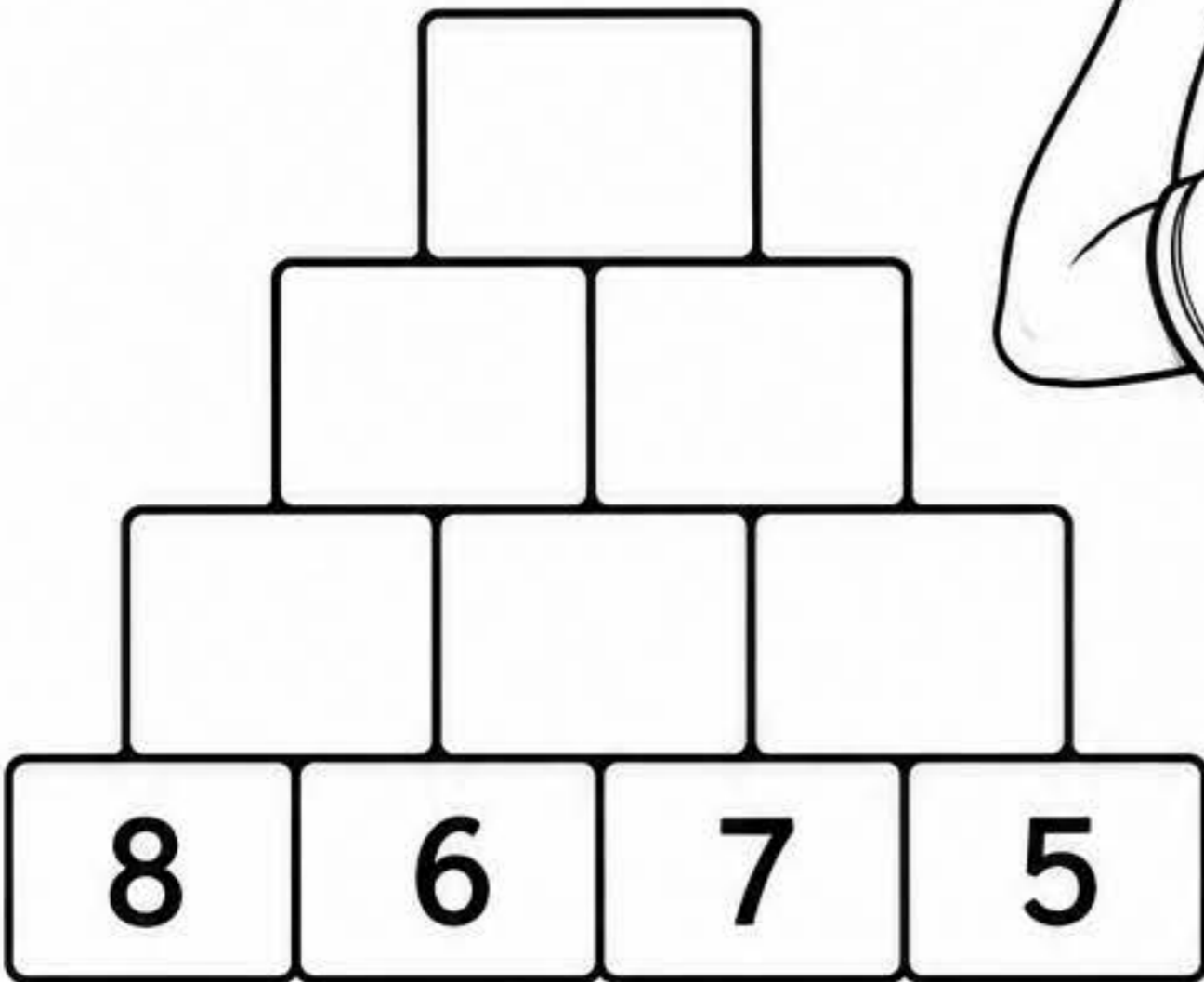
RETO
1

★ PIRÁMIDES MATEMÁTICAS ★

RETO MATEMÁTICO DEL MUNDIAL



★ **INSTRUCCIONES:**
Comienza a sumar de abajo para arriba, la suma de cada par de casillas da el resultado de la casilla superior.



★ ¡Resuelve la pirámide y demuestra que eres un crack de las matemáticas!



💡 **PISTA**
Suma los números que están juntos y escribe el resultado en la casilla de arriba.



NOMBRE: _____



FECHA: _____

RETO
2

★ **EL MARCADOR MISTERIOSO** ★



RETO MATEMÁTICO DEL MUNDIAL

 **INSTRUCCIONES:**

Falta un número en el marcador.
Usa la operación para descubrir
el número que falta.

MARCADOR



PORTUGAL

27




FRANCIA

?

$$27 + \boxed{?} = 50$$

¿QUÉ NÚMERO FALTA EN EL MARCADOR?



 **PISTA:**

Piensa en qué número
sumado a 27 te da
como resultado 50.



NOMBRE: _____



FECHA: _____

RETO
3



★ BALONES MATEMÁTICOS ★



RETO MATEMÁTICO DEL MUNDIAL

INSTRUCCIONES:

Resuelve cada operación y colorea el balón que tiene el resultado correcto.

1. $27 + 15 =$



2. $56 - 18 =$



3. $34 + 29 =$



4. $72 - 27 =$



5. $18 + 67 =$



PISTA:

Haz la operación en tu cuaderno antes de elegir el balón correcto.



NOMBRE: _____



FECHA: _____

RETO
4


★ PENALTIS MATEMÁTICOS ★



RETO MATEMÁTICO DEL MUNDIAL

INSTRUCCIONES:

Cada balón tiene una operación.
Resuelve y marca el balón con el
resultado correcto para marcar el gol.
¡No falles el penalti!



¡A MARCAR!

1 $48 + 27 =$

74

75

76

2 $63 - 18 =$

44

45

46

3 $32 + 39 =$

70

71

72

4 $81 - 27 =$

53

54

55

5 $25 \times 3 =$

74

75

76

6 $96 \div 4 =$

22

23

24

PISTA:

Haz la operación en tu cuaderno
antes de elegir el balón correcto.



¡Usa tu mente,
apunta bien y
marca el gol!

NOMBRE: _____



FECHA: _____

RETO
5



★ EL PORTERO CALCULADOR ★



EMILIANO "DIBU" MARTÍNEZ

RETO MATEMÁTICO DEL MUNDIAL



INSTRUCCIONES:

El Dibu quiere parar todos los balones. Resuelve cada operación y marca el balón con el resultado correcto. ¡Ayúdalo a ser el héroe!

¡CÁLCULA BIEN Y MARCA EL GOL!



1 $35 + 27 =$



2 $78 - 29 =$



3 $45 + 36 =$



4 $90 - 47 =$



5 $23 \times 3 =$



6 $84 \div 4 =$



★ PISTA DEL DIBU

Antes de elegir tu respuesta, haz la operación en tu cuaderno. ¡La práctica te convierte en campeón!



¡TÚ PUEDES SER EL CAMPEÓN!



NOMBRE: _____



FECHA: _____

RETO

6



EL VESTUARIO SECRETO



HAALAND

RETO MATEMÁTICO DEL MUNDIAL

INSTRUCCIONES:

Para abrir el vestuario secreto de Haaland, resuelve cada operación y encuentra el número que abre cada candado. Escribe los números en el código y descubre lo que hay dentro.

RESUELVE Y DESCUBRE EL CÓDIGO

1 $48 + 27$ →

2 $92 - 35$ →

3 6×7 →

4 $81 \div 9$ →

5 $23 + 38$ →

6 $100 - 64$ →

7 5×8 →

8 $72 \div 8$ →

ESCRIBE EL CÓDIGO SECRETO

| | | | | | | | |
|---|---|---|---|---|---|---|---|
| 1 | 2 | 3 | 4 | 5 | 6 | 7 | 8 |
| | | | | | | | |

¿QUÉ HAY DENTRO DEL VESTUARIO?

Descifra el mensaje usando la clave numérica.

| | | | | | | | | |
|----|----|----|----|----|----|----|----|----|
| 10 | 14 | 16 | 24 | 28 | 32 | 35 | 40 | 45 |
| A | E | H | L | M | N | O | R | S |

_____ !

Solo los cracks de las mates pueden abrir mi vestuario.



VESTUARIO SECRETO



PISTA CAMPEÓN

Revisa bien tus cálculos y no te rindas.

¡La práctica te hace imparable!



NOMBRE: _____



FECHA: _____

RETO
7

★ **EL CÓDIGO DEL MUNDIAL** ★



VINÍCIUS JR.

RETO MATEMÁTICO DEL MUNDIAL

INSTRUCCIONES:

Resuelve cada operación y usa el código para descubrir el mensaje secreto del Mundial. ¡Solo los cracks lo conseguirán!

CÓDIGO SECRETO

| | | | | | | | | | | | |
|----|----|----|----|----|----|----|----|----|----|----|----|
| 10 | 12 | 15 | 18 | 20 | 24 | 28 | 30 | 32 | 36 | 40 | 45 |
| A | E | I | L | M | N | O | R | S | T | V | Y |

1 $18 + 12 =$

2 $45 - 25 =$

3 $7 \times 4 =$

4 $36 \div 4 =$

5 $15 + 5 =$

6 $24 - 6 =$

7 $8 \times 5 =$

8 $72 \div 2 =$

La mente gana partidos, pero los números también. ☆



DESCIFRA EL MENSAJE

| | | | | | | | |
|---|---|---|---|---|---|---|---|
| 1 | 2 | 3 | 4 | 5 | 6 | 7 | 8 |
| | | | | | | | |

MENSAJE SECRETO:

“ _____ ”

☆ **PISTA CAMPEÓN**

Cada número correcto te acerca al mensaje. ¡Confía en ti!



★ ★ **¡VAMOS!** ★ ★
TÚ PUEDES SER EL CAMPEÓN

NOMBRE: _____



FECHA: _____

RETO

8



★ SALAH TIRO A PUERTA ★



RETO MATEMÁTICO DEL MUNDIAL

🎯 INSTRUCCIONES:

Salah va a lanzar a puerta.
Resuelve cada operación y marca el balón con el resultado correcto para anotar el gol.
¡Concentración, precisión y... gol!

La práctica y la mente enfocada convierten cada tiro en una oportunidad.

¡TÚ PUEDES!



1 $36 + 28 =$



2 $72 - 19 =$



3 $45 + 37 =$



4 $81 - 46 =$




5 $23 \times 3 =$



6 $96 \div 4 =$



7 $58 + 24 =$



🎯 ¡APUNTA AL MARCADOR!

Escribe aquí los resultados correctos en orden de 1 a 8 para ver cuántos goles mete Salah.



| | | | | | | | |
|---|---|---|---|---|---|---|---|
| 1 | 2 | 3 | 4 | 5 | 6 | 7 | 8 |
|---|---|---|---|---|---|---|---|

🏆 Si aciertas los 8... ¡ERES UN CAMPEÓN! ☆

💡 PISTA GANADORA

Haz primero la operación en tu cuaderno y luego elige el balón correcto.
¡Mente fría, puntería caliente!



NOMBRE: _____



FECHA: _____

RETO
9



OPERACIÓN RELÁMPAGO



★ PEDRI ★

RETO MATEMÁTICO DEL MUNDIAL

⚡ INSTRUCCIONES:




Resuelve cada operación lo más rápido que puedas y marca la respuesta correcta. Solo tienes unos segundos... ¡Precisión y velocidad para ganar!

La rapidez en el cálculo es mi mejor jugada. ¡Usa tu mente al máximo y marca el gol!




TIEMPO MÁXIMO POR OPERACIÓN:
15 SEGUNDOS




1 $34 + 27 =$   


2 $78 - 35 =$   




3 $6 \times 7 =$   

4 $96 \div 8 =$   

5 $23 + 58 =$   

6 $64 - 29 =$   

7 $9 \times 6 =$   

8 $100 - 47 =$   



⚡ TÁCTICA GANADORA

- ★ Lee bien la operación.
- ★ Calcula con rapidez.
- ★ Elige la respuesta correcta.
- ★ ¡No te rindas!



¡SUPERA EL RETO!

| OPERACIÓN | 1 | 2 | 3 | 4 | 5 | 6 | 7 | 8 |
|--------------|---|---|---|---|---|---|---|---|
| CORRECTA | | | | | | | | |
| TIEMPO (SEG) | | | | | | | | |

CUENTA TUS ACIERTOS Y SUPERA TU MEJOR MARCA



⚡ ¡CADA CÁLCULO TE ACERCA A LA VICTORIA!
¡TÚ PUEDES, CAMPEÓN! ☆



NOMBRE: _____



FECHA: _____

RETO
10

★ HARRY KANE ★ SUDOKU DE FÚTBOL



RETO MATEMÁTICO DEL MUNDIAL

INSTRUCCIONES:

Completa el sudoku de fútbol. Cada fila, cada columna y cada cuadro 2x2 debe contener los 4 símbolos diferentes.

¡Usa la lógica como Harry Kane usa su puntería!



La concentración y la estrategia también marcan la diferencia.



PISTA CAMPEÓN

Empieza por las filas, columnas o cuadros que tengan menos símbolos.

| | | | |
|--|--|--|--|
| | | | |
| | | | |
| | | | |
| | | | |

SÍMBOLOS A USAR:



¡ANOTA TUS MEJORES TIEMPOS!

| INTENTO | 1º | 2º | 3º |
|------------------|----|----|----|
| TIEMPO (min:seg) | | | |

¡TÚ PUEDES MARCAR LA DIFERENCIA!

Lógica, estrategia y concentración te llevan a la victoria.



DESAFÍO EXTRA

¿Puedes resolverlo en menos de 2 minutos?
¡Eres un crack!



NOMBRE: _____



FECHA: _____