





MANTEL DE REPASO · 1º DE PRIMARIA

MATEMÁTICAS Y LENGUA

¡Listo para seguir aprendiendo!

1. Cuenta y escribe

Cuenta los elementos y escribe cuántos hay.

2. Sumas

Calcula las sumas.

$3 + 2 =$
 $4 + 3 =$
 $6 + 1 =$
 $2 + 5 =$
 $7 + 2 =$

3. Restas

Calcula las restas.

$5 - 2 =$
 $7 - 3 =$
 $6 - 4 =$
 $8 - 1 =$
 $9 - 3 =$

4. Número anterior y posterior

Escribe el número anterior y posterior.

8
 15
 20
 13
 18

5. Ordena de menor a mayor

Ordena los números.






$9 - 4 - 12 - 7 - 2$
 ↓

 $15 - 3 - 18 - 6 - 11$
 ↓

 $8 - 1 - 14 - 5 - 10$

6. Sílabas inicial

Escribe la sílaba por la que empieza cada dibujo.

7. Completa palabras

Escribe la sílaba que falta.

 ___NGREJO
 ___RACOLA
 ___FAS
 ___LDE
 ___NDALIAS

8. Forma palabras

Ordena las sílabas y escribe la palabra.

pa lo pe _____
 sol cho som bre _____
 hel do a _____
 mar ti po _____
 ta are ca _____

9. Lee y une

Une cada oración con el dibujo que corresponde.

El sol brilla. • 
 Los niños juegan. • 
 El perro corre. • 
 El helado está rico. • 

10. Escribe una oración

Observa el dibujo y escribe una oración.






MANTEL DE REPASO · 1º DE PRIMARIA

NATURALES Y SOCIALES

¡Exploro, aprendo
y cuido mi mundo!

1. Mi cuerpo

Escribe el nombre de cada parte del cuerpo.




2. Los sentidos

Une cada sentido con lo que nos permite hacer.

-  • Escuchar sonidos
-  • Ver los colores
-  • Oler las cosas
-  • Saborear los alimentos
-  • Tocar y sentir

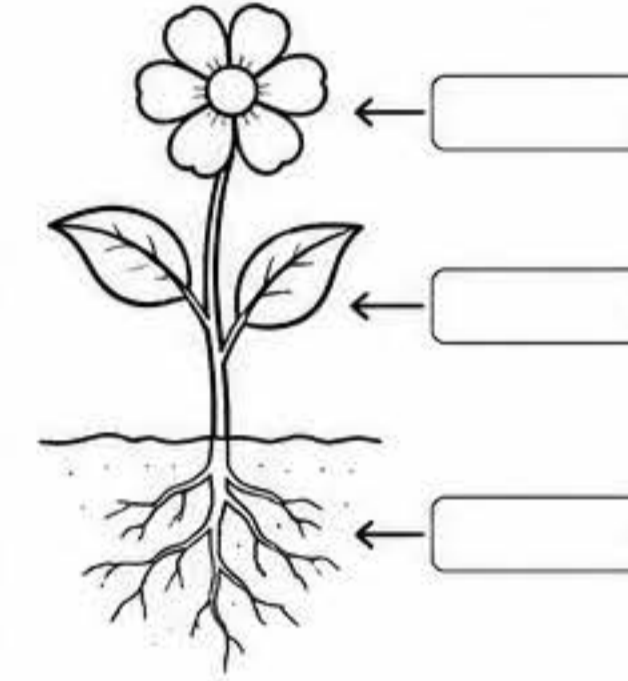
3. Animales: ¿vertebrados o invertebrados?

Escribe V si es vertebrado o I si es invertebrado.




4. Plantas

Escribe las partes de la planta.




5. Los paisajes

Observa y escribe el tipo de paisaje.








6. El tiempo atmosférico

Escribe el nombre de cada símbolo del tiempo.



7. Los materiales

Une cada objeto con el material del que está hecho.

-  • madera
-  • plástico
-  • metal
-  • cerámica
-  • tela


8. Reciclamos

Colorea cada residuo del color del contenedor al que pertenece.



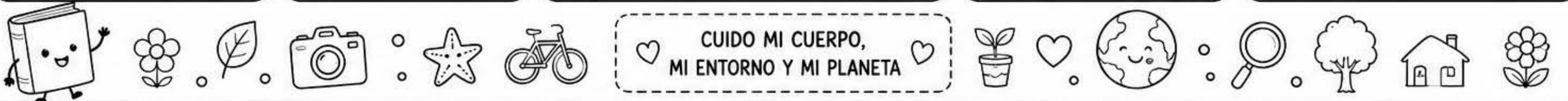

9. Profesiones

¿Qué profesión es?
Escribe el nombre.




10. Mi localidad

Dibuja tu calle o tu barrio y escribe tres lugares que hay en él.



CUIDO MI CUERPO,
MI ENTORNO Y MI PLANETA



MANTEL DE REPASO • 2º DE PRIMARIA



MATEMÁTICAS Y LENGUA

1. Números hasta el 999
Escribe cómo se leen estos números.

243 _____

507 _____

689 _____

921 _____

2. Descompón
Descompón cada número.

	C	D	U
356			
472			
809			
614			

3. Sumas y restas
Calcula estas operaciones.

234 + 125 = _____ 532 - 218 = _____

367 + 192 = _____ 745 - 326 = _____

458 + 321 = _____ 963 - 541 = _____

4. Multiplicaciones
Calcula estas multiplicaciones.

3 × 4 = _____

6 × 7 = _____

4 × 8 = _____

7 × 9 = _____

5. Problemas
Resuelve estos problemas.

1. En una biblioteca hay 236 libros de aventuras, 148 de animales y 215 de misterio. ¿Cuántos libros hay en total?

.....

2. María tiene 457 pegatinas y regala 136 a su amiga Lucía. ¿Cuántas pegatinas le quedan?

.....

6. Figuras geométricas
Escribe el nombre de cada figura.

7. Medidas
Convierte estas medidas.

- 3 m = _____ cm
- 5 km = _____ m
- 2 l = _____ ml
- 4 kg = _____ g
- 1 h = _____ min
- 180 s = _____ min

8. Gramática: clases de palabras
Clasifica las palabras en el grupo correcto.

perro corre azul casa rápidamente
feliz saltar lápiz grande escribir

SUSTANTIVOS	ADJETIVOS	VERBOS
_____	_____	_____
_____	_____	_____
_____	_____	_____
_____	_____	_____

9. Ortografía: uso de la G y la J
Escribe G o J según corresponda.

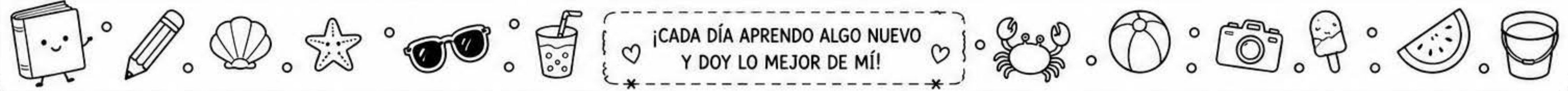
- ___ irasol
- ___ ardín
- ___ ente
- ___ ira
- ___ abón
- ___ inete
- ___ ugar
- ___ alea

★ Recuerda: G delante de a, o, u.
J delante de a, o, u y en -aje, -eje.

10. Comprensión lectora
Lee el texto y responde.

Ana tiene un perro llamado Max. A Max le encanta jugar en el parque y correr detrás de la pelota. Cada día, Ana y Max pasean juntos al atardecer.

1. ¿Cómo se llama el perro de Ana?
2. ¿Qué le gusta hacer a Max?
3. ¿Cuándo pasean Ana y Max?



¡CADA DÍA APRENDO ALGO NUEVO Y DOY LO MEJOR DE MÍ!


MANTEL DE REPASO · 2º DE PRIMARIA

¡Conozco, cuido y respeto mi mundo!

NATURALES Y SOCIALES

1. El cuerpo humano

Escribe el nombre de cada parte.




2. Hábitos saludables

Marca ✓ los hábitos saludables.

- Dormir 9 horas.
- Comer frutas y verduras.
- Lavarse las manos.
- Ver mucha televisión.
- Hacer ejercicio.
- Cepillarse los dientes.

3. Los animales

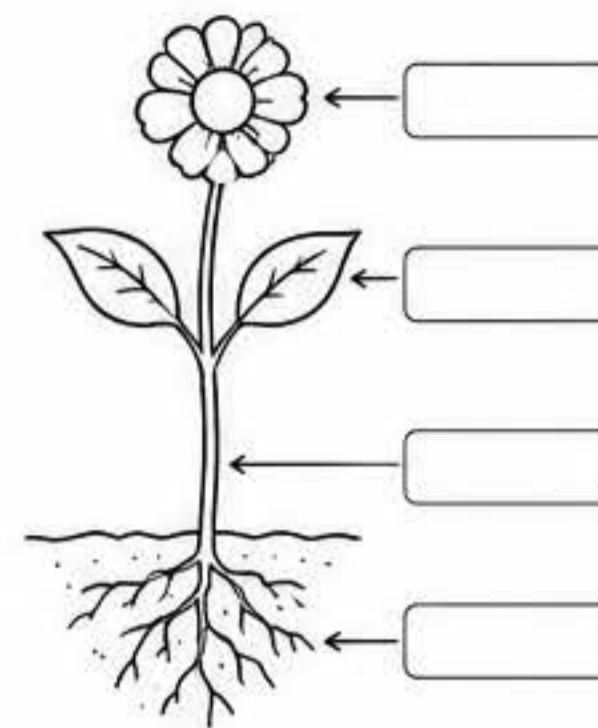
Clasifica los animales según sean vertebrados o invertebrados.



VERTEBRADOS	INVERTEBRADOS
_____	_____
_____	_____
_____	_____


4. Las plantas

Completa las partes de la planta.



5. Los ecosistemas


Une cada ecosistema con las características que le correspondan.



- Hace mucho calor y casi no llueve.
- Hay muchos árboles y animales.
- Tiene playas, peces y algas.
- El clima es frío y hay altas montañas.


6. El tiempo atmosférico

Escribe el nombre de cada símbolo.



7. Los materiales

Escribe de qué material están hechos estos objetos.




8. Reciclamos y cuidamos el planeta

Une cada residuo con el contenedor correcto.



9. Los trabajos

Escribe a qué trabajo corresponde cada herramienta.



10. Mi comunidad

Observa y responde.



1. ¿Qué servicios hay en tu comunidad?

2. ¿Para qué sirve cada uno de ellos?

3. ¿Qué puedes hacer para mejorar tu comunidad?



CONOZCO MI ENTORNO,
LO CUIDO Y LO DISFRUTO



MANTEL DE REPASO • 3º DE PRIMARIA



MATEMÁTICAS Y LENGUA

1. Números hasta el 9.999

Escribe cómo se leen estos números.

- 1.245 _____
- 3.678 _____
- 5.009 _____
- 8.356 _____
- 9.872 _____

2. Descomposición

Descompón cada número según el valor posicional.

	UM	C	D	U
2.357				
4.806				
6.420				
9.075				

(UM: unidades de millar)

3. Sumas y restas

Calcula estas operaciones.

- 2.345 + 1.276 = _____
- 3.456 + 2.178 = _____
- 4.578 + 2.309 = _____
- 6.789 + 1.234 = _____
- 7.123 - 2.456 = _____
- 8.000 - 2.987 = _____
- 9.000 - 3.275 = _____
- 5.432 - 1.268 = _____

4. Multiplicación y división

Calcula estas operaciones.

- 23 × 4 = _____
- 47 × 6 = _____
- 84 : 7 = _____
- 96 : 8 = _____
- 123 × 3 = _____
- 648 : 6 = _____

5. Problemas

Resuelve estos problemas.

- En un teatro hay 8 filas con 24 asientos en cada fila. ¿Cuántas personas caben en total?
.....
- Un tren viaja a 75 km/h. ¿Cuántos kilómetros recorrerá en 6 horas?
.....
- Lucía tiene 345 lápices y su hermano tiene el doble. ¿Cuántos lápices tienen entre los dos?
.....

6. Figuras geométricas

Escribe el nombre y el número de lados de cada figura.

- _____, _____ lados
- _____, _____ lados
- _____, _____ lados
- _____, _____ lados
- _____, _____ lados
- _____, _____ lados

7. Medidas

Convierte estas medidas.

- 2 km = _____ m
- 5.000 g = _____ kg
- 3 l = _____ ml
- 250 cm = _____ m
- 2 h = _____ min
- 1 t = _____ kg

8. Gramática: clases de palabras

Clasifica las palabras en la tabla.

perro feliz corre grande bailábamos lápiz rápidamente escuela cantar azul cariño mesa

SUSTANTIVOS	ADJETIVOS	VERBOS	ADVERBIOS

9. Ortografía

Completa con g o j.

- _irafa
- _ente
- _imnasio
- _abón
- _inete
- _irar
- co_er
- _ardín
- _uego
- imá_en
- _oven
- _eografía

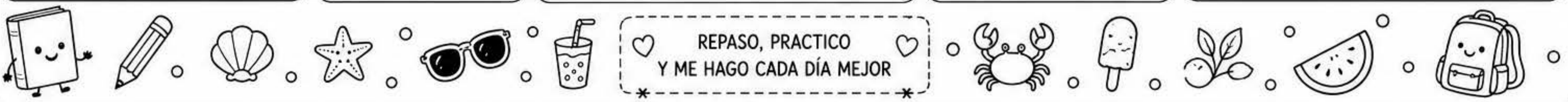
Recuerda:
g delante de a, o, u. Ej.: gato
j delante de a, o, u y en -aje, -eje. Ej.: jamón

10. Comprensión lectora


Lee el texto y responde.

Ayer fuimos de excursión al parque natural. Salimos temprano y llevamos comida y agua. Vimos muchos árboles, un río y varios animales. Aprendimos cosas interesantes sobre la naturaleza y cuidamos el entorno. Fue un día maravilloso.

- ¿A dónde fueron de excursión? _____
- ¿Qué vieron en el parque? _____
- ¿Qué aprendieron? _____
- ¿Cómo fue el día para ellos? _____



REPASO, PRACTICO Y ME HAGO CADA DÍA MEJOR



MANTEL DE REPASO • 3º DE PRIMARIA

NATURALES Y SOCIALES



1. El cuerpo humano

Escribe el nombre de cada aparato.




2. Hábitos saludables

Marca ✓ los hábitos saludables.

- Dormir 9 horas al día.
- Comer frutas y verduras.
- Lavarse las manos siempre.
- Pasar muchas horas jugando a videojuegos.
- Hacer ejercicio a diario.
- Cepillarse los dientes.

3. Los animales

Escribe V si es vertebrado o I si es invertebrado.

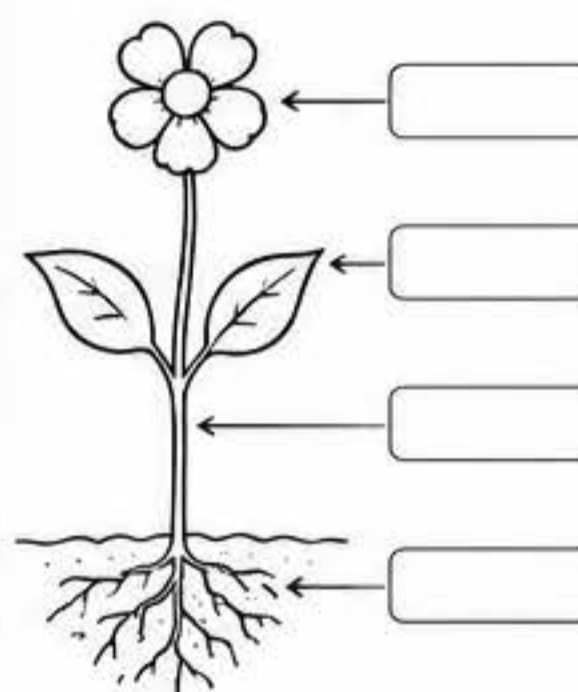


Escribe el grupo al que pertenece cada animal.

MAMÍFEROS	AVES	PECES	ANFIBIOS	REPTILES	INSECTOS

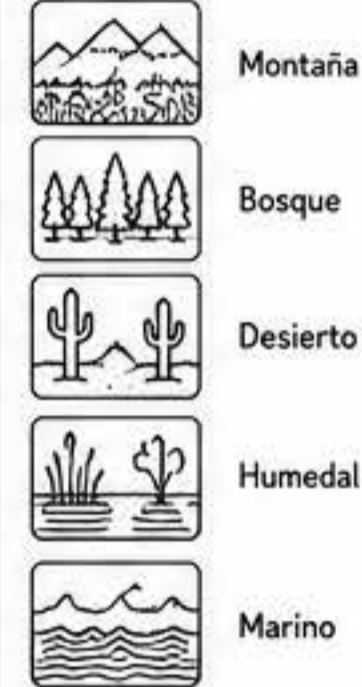
4. Las plantas

Completa las partes de la planta.



5. Los ecosistemas


Une con flechas.



- Hay poca agua y muchas plantas adaptadas a la sequía.
- Tiene árboles y mucha vegetación.
- Hay mucha agua dulce y viven muchas aves.
- Viven en él muchos peces y otros animales marinos.
- Hace frío, hay rocas y pendientes.

6. El tiempo atmosférico y el clima

Escribe el nombre de cada símbolo.



¿Qué diferencia hay entre tiempo atmosférico y clima? _____

7. Los materiales

Clasifica estos materiales.

vidrio - madera - plástico - algodón - metal - papel - cerámica - cuero


Naturales: _____

Artificiales: _____

Sintéticos: _____

8. Reciclamos y reducimos

Une cada residuo con el contenedor correcto.



9. Los trabajos

Escribe a qué sector pertenecen.

- Médico _____
- Agricultor _____
- Trabajador de fábrica _____
- Maestra _____
- Comerciante _____

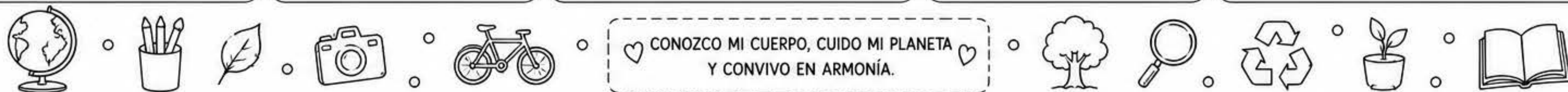
PRIMARIO SECUNDARIO TERCIARIO

10. Mi comunidad

Observa la imagen y responde.



1. ¿Qué servicios públicos ves? _____
2. ¿Qué normas de convivencia conoces? _____
3. ¿Qué puedes hacer tú para mejorar tu comunidad? _____



CONOZCO MI CUERPO, CUIDO MI PLANETA Y CONVIVO EN ARMONÍA.

MANTEL DE REPASO • 4º DE PRIMARIA

MATEMÁTICAS Y LENGUA

¡Cada día aprendo algo nuevo!

1. Números hasta el 99.999

Escribe cómo se leen estos números.

12.345 _____

38.076 _____

50.909 _____

67.890 _____

91.234 _____

2. Descomposición

Descompón cada número según el valor posicional.

	DM	UM	C	D	U
23.456					
47.809					
65.032					
80.101					
94.567					

(DM: decenas de millar)

3. Operaciones

Calcula estas operaciones.

$3.245 + 2.678 = \underline{\quad}$

$305 \times 24 = \underline{\quad}$

$4.567 - 1.389 = \underline{\quad}$

$178 \times 36 = \underline{\quad}$

$6.789 + 4.321 = \underline{\quad}$

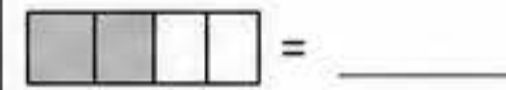
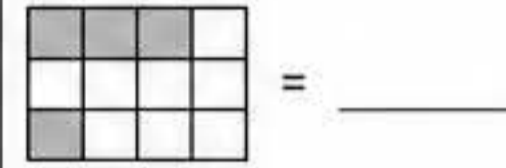
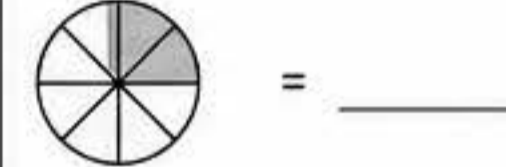
$924 : 12 = \underline{\quad}$

$9.876 - 2.345 = \underline{\quad}$

$1.836 : 18 = \underline{\quad}$

4. Fracciones

Escribe la fracción que representa la parte coloreada y simplifícala.



5. Problemas

Resuelve estos problemas.

1. Un librero tiene 4 estantes con 28 libros cada uno. Si en total tiene 136 libros de aventuras, ¿cuántos libros más necesita para completar un quinto estante?

.....

2. Una fábrica produce 3.648 botellas de agua al día. Si las envasa en cajas de 12 botellas, ¿cuántas cajas completas podrá llenar y cuántas botellas le sobrarán?

.....

6. Figuras geométricas

Escribe el nombre y las propiedades de cada figura.

Nombre: _____
Lados: _____ Vértices: _____

Nombre: _____
Lados: _____ Vértices: _____

Nombre: _____
Lados: _____ Vértices: _____

Nombre: _____
Lados: _____ Vértices: _____

Nombre: _____
Lados: _____ Vértices: _____

Nombre: _____
Lados: _____ Vértices: _____

7. Medidas

Convierte estas medidas.

• 3,5 km = _____ m

• 2 t 450 kg = _____ kg

• 4 l 250 ml = _____ ml

• 3 h 15 min = _____ min

• 2,75 m = _____ cm

• 6 kg 80 g = _____ g

8. Gramática: clases de palabras

Clasifica las palabras en la tabla.

corriendo rápido perro casa cantar feliz amablemente
lápiz bueno saltar mesa escribiendo azul alegría

SUSTANTIVOS	ADJETIVOS	VERBOS	ADVERBIOS
_____	_____	_____	_____
_____	_____	_____	_____
_____	_____	_____	_____
_____	_____	_____	_____

9. Ortografía

Completa con b o v.

- _aca
- _erde
- _otar
- _uelo
- _isagra
- _erdura
- _otar
- _arco
- _uelo
- _osque
- _iviente
- _olver
- _aldosa
- _aliente

Recuerda:

b delante de a, o, u.

v delante de e, i.

10. Comprensión lectora

Lee el texto y responde.

El sábado fuimos de excursión a la sierra. Salimos temprano por la mañana y, después de un largo camino, llegamos a un pequeño pueblo rodeado de montañas. Allí dimos un paseo por el bosque, observamos muchos árboles y escuchamos el sonido del río. Por la tarde, descansamos, merendamos y jugamos todos juntos. Fue un día genial que recordaremos siempre.

- ¿A dónde fueron de excursión? _____
- ¿Qué hicieron en el bosque? _____
- ¿Qué hicieron por la tarde? _____
- ¿Cómo fue el día para ellos? _____



REPASO HOY,
ÉXITO MAÑANA

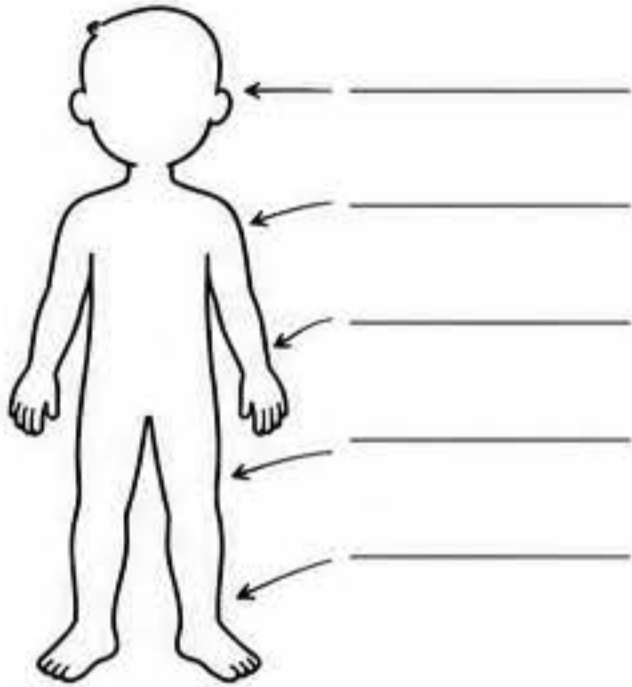
MANTEL DE REPASO · 4º DE PRIMARIA

NATURALES Y SOCIALES

¡Conozco, entiendo y cuido mi mundo!

1. El cuerpo humano

Escribe el nombre de cada sistema.



2. Hábitos saludables

Clasifica estas acciones.

- Dormir 8 horas • Comer verduras
Hacer ejercicio • Pasar muchas horas frente a la pantalla • Lavarse los dientes • Beber agua • Comer dulces en exceso • Fumar

✓ Saludables ✗ No saludables

_____	_____
_____	_____
_____	_____

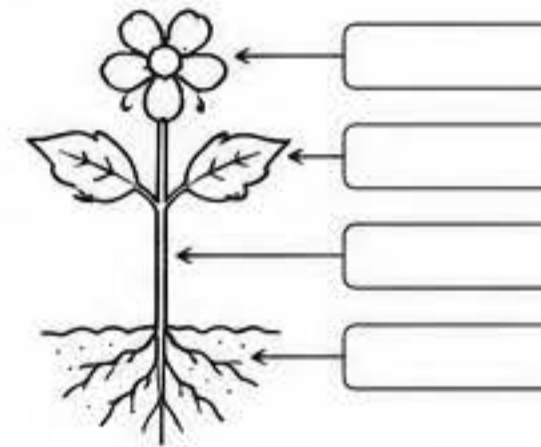
3. Los seres vivos

Completa el esquema.



4. Las plantas

Completa las partes de la planta y sus funciones.



Funciones:

- Absorben agua y sales minerales: _____
- Sostienen la planta: _____
- Realizan la fotosíntesis: _____
- Forman las flores y frutos: _____


5. Los ecosistemas

Relaciona cada ecosistema con sus características.

- | | |
|----------|--|
| Bosque | • Aguas saladas, gran variedad de peces y algas. |
| Desierto | • Pocas lluvias, temperaturas extremas y cactus. |
| Pradera | • Muchos árboles, humedad y gran diversidad de animales. |
| Marino | • Grandes extensiones de hierba, pocos árboles y herbívoros. |
| Río | • Agua dulce en movimiento, plantas de ribera y peces. |

6. El tiempo atmosférico y el clima

Escribe el nombre de cada símbolo.



¿Qué diferencia hay entre tiempo atmosférico y clima? _____

7. Los materiales

Clasifica estos materiales según su origen.

madera - vidrio - algodón - plástico
oro - piedra - papel - arcilla - lana

Naturales	_____
Artificiales	_____
Sintéticos	_____

8. La materia y la energía

Completa.



9. Los paisajes de España

Une cada paisaje con su descripción.

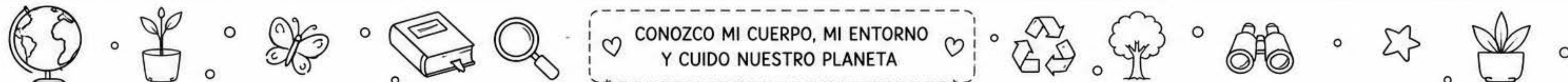
- | | |
|---------------------|---|
| Paisaje de montaña | • Terreno llano o con suaves ondulaciones, ideal para cultivos. |
| Paisaje de llanura | • Cerca del mar, con playas, acantilados o calas. |
| Paisaje de costa | • Montañas altas y valles, con ríos que nacen allí. |
| Paisaje de interior | • Alejado del mar, con grandes extensiones y clima más seco. |

10. La organización del espacio


Observa el plano y responde.



- ¿Qué edificio está al norte de la plaza? _____
- ¿Qué lugar está al oeste del colegio? _____
- ¿Qué edificio está al sur de la biblioteca? _____
- Si sales del ayuntamiento y vas al parque, ¿hacia dónde debes ir? _____



CONOZCO MI CUERPO, MI ENTORNO Y CUIDO NUESTRO PLANETA



MANTEL DE REPASO • 5º DE PRIMARIA



MATEMÁTICAS Y LENGUA

1. Números naturales y decimales

Escribe cómo se leen estos números.

23.456 _____

108.903 _____

7.250.618 _____

45.078,36 _____

3,1416 _____

2. Operaciones combinadas

Resuelve aplicando el orden de las operaciones.

$36 + 5 \times (12 - 4) =$ _____

$(72 : 8 + 15) \times 3 =$ _____

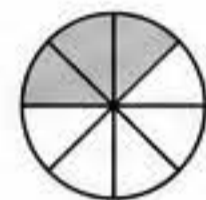

$84 - 6 \times (9 + 7) =$ _____

$120 : (5 \times 4) + 28 =$ _____

$(7^2 + 3 \times 6) - 18 =$ _____

3. Fracciones y decimales

Escribe la fracción que representa la parte coloreada.



Pasa a decimal.

$\frac{3}{4} =$ _____

$\frac{7}{10} =$ _____

$\frac{2}{5} =$ _____

$\frac{9}{8} =$ _____

4. Múltiplos y divisores

Completa.

• Múltiplos de 6: _____

• Múltiplos de 9: _____

• Divisores de 36: _____

• ¿Es 84 múltiplo de 7? _____

• ¿Es 91 múltiplo de 5? _____

• Máximo común divisor de 24 y 36: _____

• Mínimo común múltiplo de 6 y 8: _____

5. Problemas

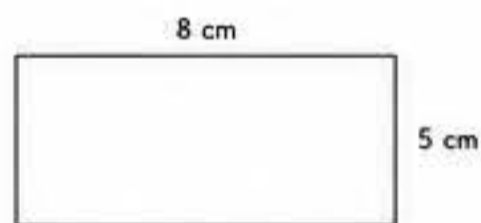
Resuelve estos problemas.

1. Un tren sale de Madrid a las 9:15 h y llega a Valencia a las 13:47 h. Si el viaje de regreso tarda 4 h 8 min más, ¿a qué hora llegará de nuevo a Madrid?

2. En un colegio hay 540 alumnos. Los $\frac{3}{5}$ practican algún deporte y el resto no. ¿Cuántos alumnos practican deporte y cuántos no?

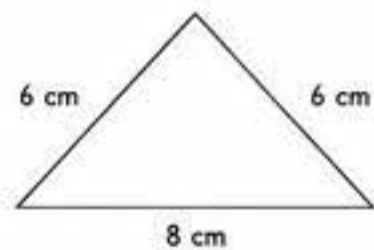
6. Figuras geométricas

Calcula el área y el perímetro.



Área = _____

Perímetro = _____



Área = _____

Perímetro = _____

7. Medidas

Convierte las siguientes unidades.

• 3,5 km = _____ m

• 7,25 kg = _____ g

• 2 h 45 min = _____ min

• 4,3 L = _____ ml

• 360 cm = _____ m

• 2 t 250 kg = _____ kg

• 0,75 km² = _____ m²

8. Gramática: clases de palabras

Clasifica las palabras en la tabla.

feliz corre bosque rápidamente cantar mesa
azul jugador pero aunque alto debajo

SUSTANTIVOS	ADJETIVOS	VERBOS	ADVERBIOS	CONJUNCIÓNES (PERO, AUNQUE...)
_____	_____	_____	_____	_____
_____	_____	_____	_____	_____
_____	_____	_____	_____	_____
_____	_____	_____	_____	_____

9. Ortografía

Completa con g o j.

• pa____ina • re____a

• co____er • bu____ía

• lo____ro • tra____e

• ima____en • verda____e

• di____erir • cora____e

★ Recuerda:

• g delante de a, o, u: gato

• j delante de a, o, u y en -aje, -aje: jamón, reloj

10. Comprensión lectora

Lee el texto y responde.

El fin de semana pasado fuimos de excursión a un parque natural. Salimos temprano en autobús y, al llegar, hicimos una ruta por el bosque. Vimos muchos árboles, animales y un río cristalino. Después, comimos todos juntos en un área recreativa y jugamos a juegos tradicionales. Fue un día divertido y aprendimos muchas cosas sobre la naturaleza.

1. ¿A dónde fueron de excursión? _____

2. ¿Qué hicieron al llegar? _____


3. ¿Qué vieron durante la ruta? _____

4. ¿Qué hicieron después de comer? _____

5. ¿Cómo fue el día? _____



♥ REPASA HOY,
DISFRUTA MAÑANA,
¡TÚ PUEDES!



MANTEL DE REPASO • 5º DE PRIMARIA

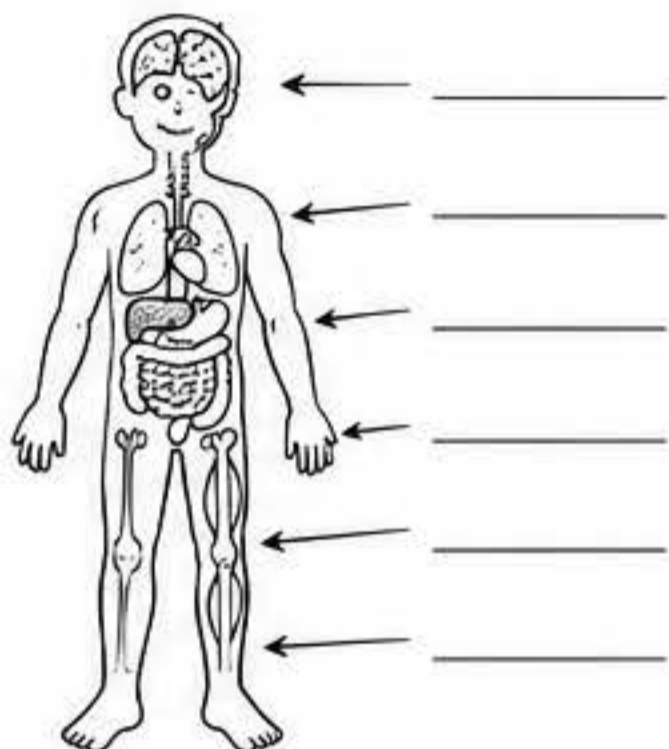
NATURALES Y SOCIALES

¡Conozco, entiendo y cuido mi mundo!



1. El cuerpo humano

Escribe el nombre de cada sistema.



2. Hábitos saludables

Marca con una X las acciones que son hábitos saludables.

- Dormir 8 horas cada noche.
- Pasar muchas horas frente a la televisión.
- Lavar las manos antes de comer.
- Comer frutas y verduras.
- Beber refrescos en exceso.
- Hacer ejercicio físico a diario.
- No asearse todos los días.

3. Los seres vivos

Completa el esquema.

SERES VIVOS

Se caracterizan por:

- _____
- _____
- _____
- _____

Se clasifican en:

Animales



Plantas



Hongos

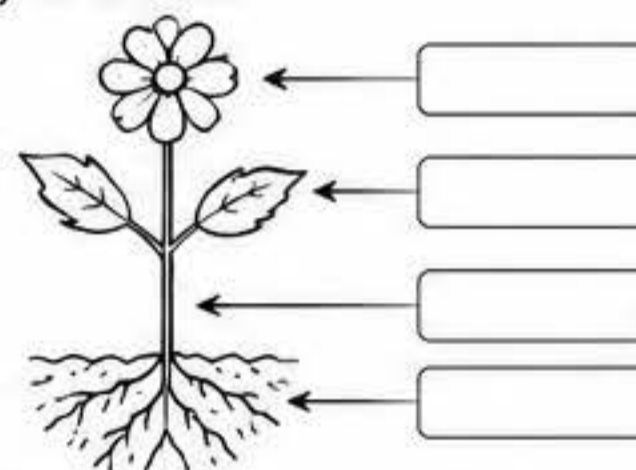


Microorganismos



4. Las plantas

Completa las partes de la planta y sus funciones.



Funciones de las plantas:

- Fabrican su propio alimento mediante _____.
- Liberan _____ al aire.
- Son alimento y refugio para muchos seres vivos.

5. Los ecosistemas

Relaciona cada ecosistema con sus características.

Bosque

- Agua dulce en movimiento, plantas de ribera y peces.

Desierto

- Árboles altos, mucha vegetación y gran diversidad de animales.

Marino

- Grandes extensiones de hierba, pocos árboles.

Río


- Agua salada, variedad de peces, algas y corales.

Pradera

- Pocas lluvias, temperaturas extremas y plantas como cactus.

6. El tiempo atmosférico y el clima

Escribe el nombre de cada símbolo.



¿Qué diferencia hay entre tiempo atmosférico y clima?

7. La materia y la energía

Completa.

Estados de la materia

Sólido



Líquido



Gaseoso




Fuentes de energía

Renovables



No renovables



8. Los materiales

Clasifica estos materiales según su origen.

vidrio - madera - plástico - algodón - oro - papel - piedra - lana - hierro - cerámica

Naturales: _____



Artificiales: _____

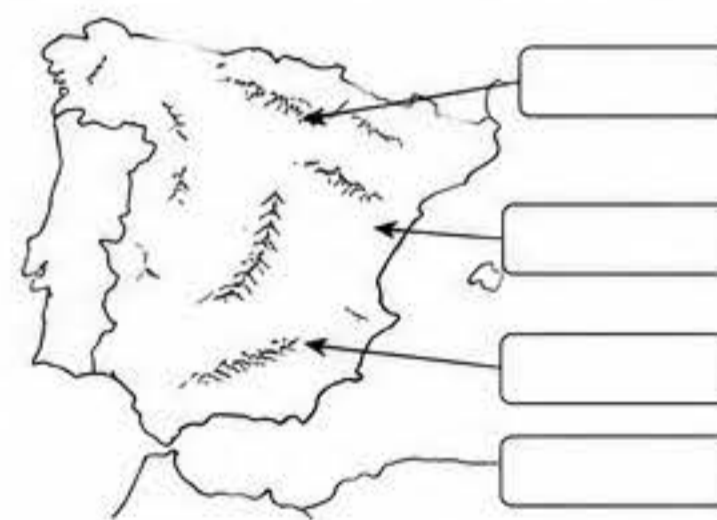


Sintéticos: _____



9. El relieve de España

Escribe el nombre de cada unidad de relieve.



Rodea la opción correcta.

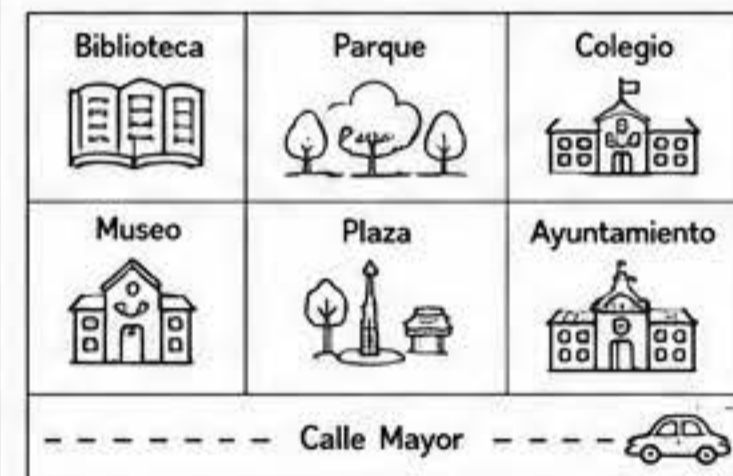
La Meseta Central está en el (centro / norte / sur).

Los Pirineos están en el (oeste / norte / este).

La Meseta Central ocupa la parte (central / costera).

10. La organización del espacio

Observa el plano y responde.




1. ¿Qué lugar está al norte del parque? _____
2. ¿Qué edificio está al sur del colegio? _____
3. ¿Qué lugar está al oeste de la plaza? _____
4. Si sales del ayuntamiento y vas al museo, ¿hacia dónde debes ir? _____



CUIDO MI CUERPO, MI ENTORNO Y CONSTRUYO UN MUNDO MEJOR.






MANTEL DE REPASO • 6º DE PRIMARIA

MATEMÁTICAS Y LENGUA

¡Cada día me esfuerzo y aprendo más!



1. Números y operaciones

Escribe cómo se leen estos números.

45.678.912 _____

7.080.304 _____

309.045.670 _____

6.007.090 _____

Ordena de menor a mayor:

5,6 - 5,06 - 5,606 - 5,066 - 5,6

2. Operaciones combinadas

Resuelve aplicando el orden de las operaciones.

$(48 - 12) \times 3 + 24 =$ _____

$72 \div 8 + 5 \times (9 - 4) =$ _____

$150 - (3 \times 12 + 6) =$ _____

$(5^2 + 3^2) \div 2 + 10 =$ _____

$3 \times (20 - 4) \div 2 + 7 =$ _____

3. Fracciones, decimales y porcentajes

1. Escribe la fracción, el decimal y el porcentaje equivalente.

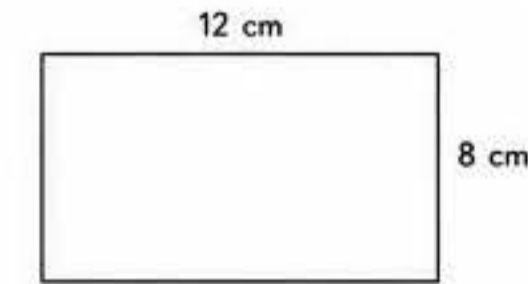
FRACCIÓN	DECIMAL	PORCENTAJE
$\frac{1}{2}$		
	0,25	
		75%

2. Calcula:

$\frac{3}{4} + \frac{2}{5} =$ _____ $\frac{5}{6} - \frac{1}{3} =$ _____

4. Geometría

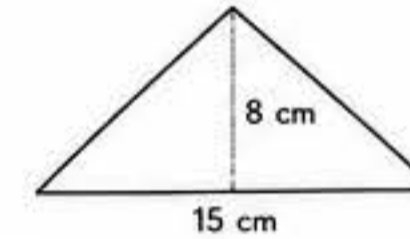
1. Calcula el área y el perímetro.



Área = _____

Perímetro = _____

2. Calcula el área del triángulo.



Área = _____

5. Problemas

Resuelve estos problemas.

1. Un tren sale de Madrid a las 9:15 y llega a Barcelona a las 13:45. Si el tren de regreso sale a las 16:20 y llega a Madrid a las 20:50, ¿cuánto tiempo dura cada viaje?

.....

2. En una tienda, una mochila cuesta 45,90 €, un estuche cuesta 12,75 € y un libro cuesta 8,60 €. Si pago con un billete de 100 €, ¿cuánto dinero me devuelven?

.....

6. Medidas

Convierte las siguientes unidades.

• 3,5 km = _____ m

• 7,2 L = _____ ml

• 4,5 t = _____ kg

• 2 h 45 min = _____ min

• 360 cm² = _____ m²

• 2,75 km² = _____ m²

7. Estadística y probabilidad

1. Observa la tabla y responde.

Deporte	Fútbol	Baloncesto	Natación	Atletismo	Total
Nº de alumnos	18	12	8	6	44

• ¿Qué deporte es el más practicado? _____

• ¿Qué porcentaje de alumnos prefiere natación? _____

• ¿Cuántos alumnos más practican fútbol que atletismo? _____

2. En una bolsa hay 3 bolas rojas, 2 azules y 5 verdes. Si sacas una bola al azar, ¿qué probabilidad hay de que sea...

• roja? _____ • azul? _____ • verde? _____

8. Gramática: clases de palabras

Clasifica las palabras destacadas.

- Ayer, los niños jugaron al fútbol en el parque.
- María encontró un libro interesante en la biblioteca.
- ¡Qué rápido corre este coche nuevo!
- Ellos viajarán a Italia el próximo verano.

SUSTANTIVOS	ADJETIVOS	VERBOS	DETERMINANTES	PRONOMBRES
_____	_____	_____	_____	_____
_____	_____	_____	_____	_____
_____	_____	_____	_____	_____

9. Ortografía

Completa con h, b o v.

- __ermano • __uelo
- __uscar • __erdad
- __erbívoro • __illete
- __uella • __atalla
- __ervir • __acaciones
- __istoria • __olver

Recuerda:

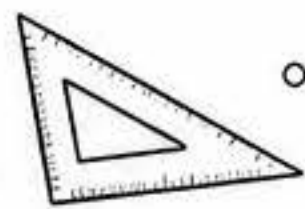
- Se escribe con h: _____
- Se escribe con b: _____
- Se escribe con v: _____

10. Comprensión lectora

Lee el texto y responde.


La energía solar es una fuente de energía limpia y renovable que se obtiene del sol. A través de paneles solares, se capta la luz solar y se transforma en electricidad o calor. Su uso ayuda a reducir la contaminación y a cuidar el planeta. Cada vez más casas, escuelas y empresas utilizan esta energía como una alternativa sostenible.

1. ¿Qué es la energía solar? _____
2. ¿Cómo se obtiene? _____
3. ¿Qué beneficios tiene? _____
4. ¿Dónde se utiliza cada vez más? _____
5. ¿Por qué es importante usarla? _____



REPASA HOY
PARA LOGRAR MAÑANA





MANTEL DE REPASO • 6º DE PRIMARIA

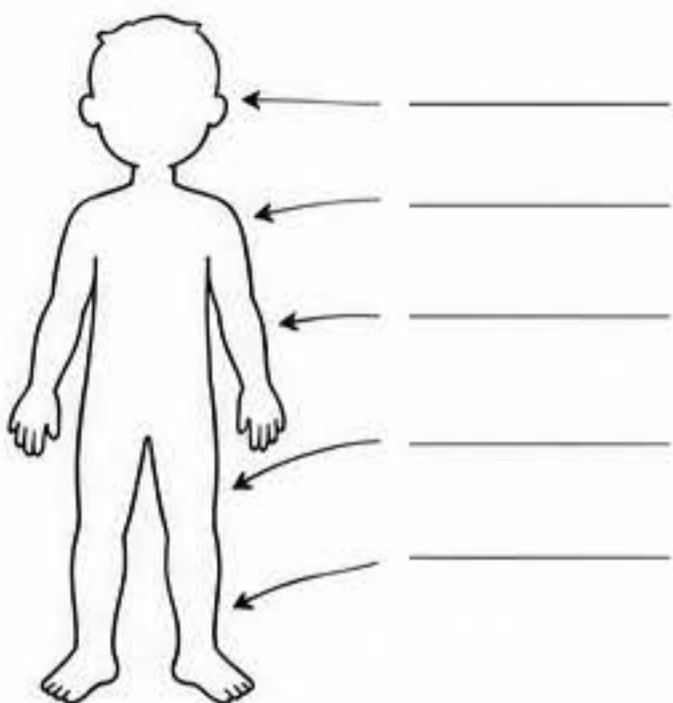
¡Conozco, entiendo y cuido mi mundo!



NATURALES Y SOCIALES

1. El cuerpo humano

Escribe el nombre de cada sistema.



2. Hábitos saludables

Ordena estas acciones del 1 al 6 según su importancia para la salud.

- Dormir 8 horas cada noche.
- Lavarse las manos antes de comer.
- Hacer ejercicio físico.
- Comer frutas y verduras.
- Pasar muchas horas frente a pantallas.
- Beber suficiente agua.

3. Los seres vivos

Completa el esquema.

SERES VIVOS

Se caracterizan por:

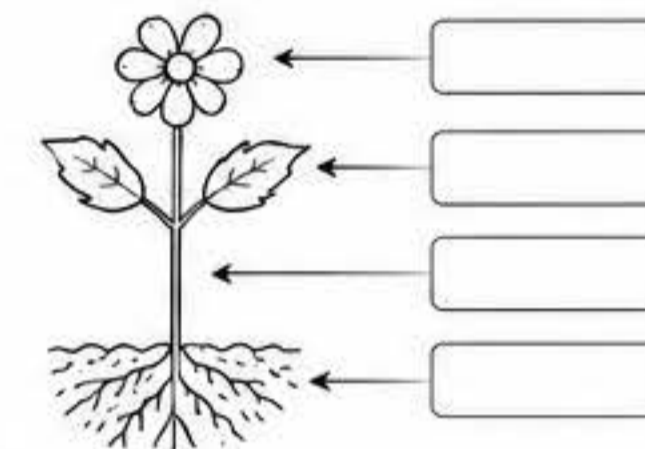
- _____
- _____
- _____
- _____

Se clasifican en:

Animales 	Plantas 	Hongos 	Microorganismos
_____	_____	_____	_____

4. Las plantas

Completa las partes de la planta y escribe la función de cada una.



Funciones:

- Raíz: _____
- Tallo: _____
- Hoja: _____
- Flor: _____


5. Los ecosistemas

Relaciona cada ecosistema con sus características.

Bosque	• Aguas saladas, gran variedad de peces y algas.
Desierto	• Pocas lluvias, temperaturas extremas y vegetación escasa.
Marino	• Agua dulce en movimiento, plantas de ribera y peces.
Río	• Muchos árboles, gran diversidad de plantas y animales.
Pradera	• Grandes extensiones de hierba, con pocos árboles.

6. El tiempo atmosférico y el clima

Escribe el nombre de cada símbolo.



¿Qué diferencia hay entre tiempo atmosférico y clima?

7. La materia y la energía

Completa.

Estados de la materia

Sólido	Líquido	Gaseoso
_____	_____	_____

Fuentes de energía

Renovables	No renovables
_____	_____
_____	_____

8. Los materiales

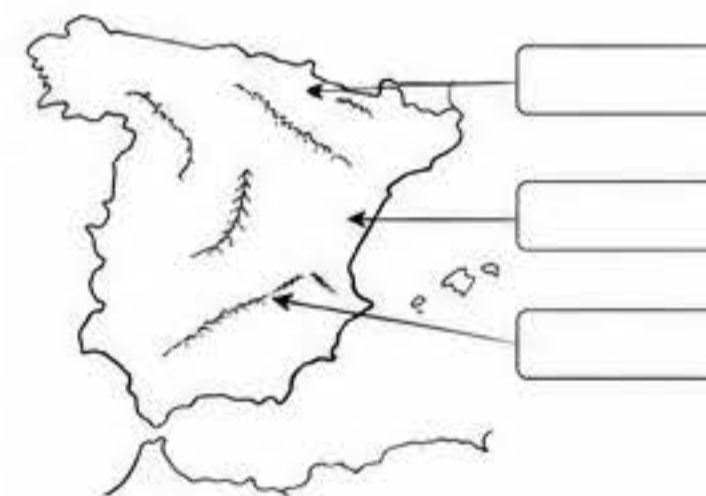
Clasifica estos materiales según su origen.

madera - plástico - algodón - vidrio - oro - piedra - papel - lana - hierro - cerámica

- Naturales: _____
- Artificiales: _____
- Sintéticos: _____

9. El relieve de España

Escribe el nombre de cada unidad de relieve.



Rodea la opción correcta.

- La Meseta Central está en el (centro / norte / sur).
- Los Pirineos están en el (oeste / norte / este).
- La Depresión del Ebro está en el (norte / este / sur).
- Los Sistemas Béticos están en el (norte / sur / este).

10. La organización del espacio

Observa el plano y responde.

Biblioteca 	Parque 	Colegio
Museo 	Plaza 	Ayuntamiento
----- Calle Mayor -----		



1. ¿Qué lugar está al norte del parque? _____
2. ¿Qué edificio está al oeste de la plaza? _____
3. ¿Qué lugar está al sur de la biblioteca? _____
4. ¿Si sales del ayuntamiento y vas al museo, ¿hacia dónde debes ir? _____



♡ CUIDO MI CUERPO, MI ENTORNO Y CONSTRUYO UN MUNDO MEJOR. ♡

