

# MANTELES

## DE REPASO

# FINAL DE CURSO



**MANTEL DE REPASO - FINAL DE CURSO**  
**1º DE PRIMARIA**

**1 MATEMÁTICAS**

1. Cálculo

$345 + 278 =$

$612 - 389 =$

$235 \times 3 =$

**2 LENGUA**

LABRA	SONIDO	ESCRIBIENDO	COMPLETO

**6 CÁLCULO**

**6 COLORES Y DEL MENSAJE**

**MANTEL DE REPASO - FINAL DE CURSO**  
**2º DE PRIMARIA**

**1 MATEMÁTICAS**

1. Cálculo

$456 + 378 =$

$829 - 457 =$

$236 \times 4 =$

$800 \div 8 =$

**2 LENGUA**

2. Copia y pega en el espacio correspondiente las palabras que se indican.

**6 CÁLCULO**

**5 ESCRIBIENDO Y ORTOGRAFÍA**

**MANTEL DE REPASO - FINAL DE CURSO**  
**3º DE PRIMARIA**

**1 MATEMÁTICAS**

1. Cálculo

$345 + 278 =$

$612 - 389 =$

$235 \div 5 =$

$725 \div 5 =$

**2 LENGUA**

2. Copia y pega en el espacio correspondiente las palabras que se indican.

**6 CÁLCULO**

**3 CONOCIMIENTO DEL MEDIO**

**MANTEL DE REPASO - FINAL DE CURSO**  
**4º DE PRIMARIA**

**1 MATEMÁTICAS**

1. Cálculo

$7.654 + 3.289 =$

$9.876 - 4.562 =$

$456 \times 38 =$

**2 LENGUA**

2. Copia y pega en el espacio correspondiente las palabras que se indican.

**4 CÁLCULO**

**5 ESCRITURA Y ORTOGRAFÍA**

**MANTEL DE REPASO - FINAL DE CURSO**  
**5º DE PRIMARIA**

**1 MATEMÁTICAS**

1. Cálculo

$12.345 + 8.765 =$

$23.456 - 9.876 =$

$345 \times 67 =$

**2 LENGUA**

2. Copia y pega en el espacio correspondiente las palabras que se indican.

**6 CÁLCULO**

**5 ESCRITURA Y ORTOGRAFÍA**

**MANTEL DE REPASO - FINAL DE CURSO**  
**6º DE PRIMARIA**

**1 MATEMÁTICAS**

1. Cálculo

$7.248 + 3.695 =$

$12.306 - 4.789 =$

$8.547 \times 36 =$

**2 LENGUA**

2. Copia y pega en el espacio correspondiente las palabras que se indican.

**4 CÁLCULO**

**6 VALORES Y CONVIVENCIA**





# MANTEL DE REPASO FINAL DE CURSO

## 1º DE PRIMARIA



### 1 MATEMÁTICAS

1. Suma.

$3 + 2 =$

$5 + 1 =$

$2 + 4 =$

$6 + 3 =$

2. Cuenta y escribe.



3. Completa la serie.

1 2 3



### 2 LENGUA

1. Completa.

LA \_\_\_\_\_

EL \_\_\_\_\_

UNA \_\_\_\_\_

3. Rodea la palabra correcta.



casa cazo taza



sol sal silla



gato gota galo

2. Escribe tu nombre.

\_\_\_\_\_



### 4 CÁLCULO

1. Resta.

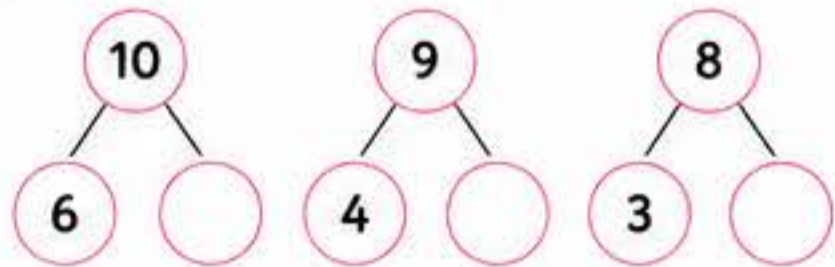
$5 - 2 =$

$7 - 3 =$

$6 - 1 =$

$8 - 4 =$


2. Completa.



3. Ordena de menor a mayor.

7 2 5 1 8

\_\_\_ < \_\_\_ < \_\_\_ < \_\_\_ < \_\_\_



### 5 ESCRITURA Y ORTOGRAFÍA

1. Copia la frase.

El perro juega en el parque.

\_\_\_\_\_  
\_\_\_\_\_  
\_\_\_\_\_



2. Completa con: b - p - m - t - d



\_\_\_lota



\_\_\_esa



\_\_\_ano



\_\_\_asa



\_\_\_ado

### 6 VALORES Y CONVIVENCIA


1. ¿Qué haces tú? Marca.

Comparto mis cosas.

Escucho a los demás.

Cuido el material.

2. Dibuja algo que te haya gustado este curso.



# MANTEL DE REPASO – FINAL DE CURSO

## 2º DE PRIMARIA

1

### MATEMÁTICAS

1. Calcula.

$24 + 15 =$    
 $36 + 27 =$    
 $48 + 16 =$    
 $57 + 28 =$    
 $63 + 19 =$

2. Completa la tabla.

Número	Anterior	Posterior
34	—	—
57	—	—
68	—	—
79	—	—

3. Descompón.

$45 =$    $+$    
 $78 =$    $+$



2

### LENGUA

1. Ordena las sílabas y forma palabras.


pa - lo - ne \_\_\_\_\_  
 ta - ma - ri \_\_\_\_\_  
 ca - sa \_\_\_\_\_  
 li - bro \_\_\_\_\_

2. Escribe una oración con cada palabra.

- casa \_\_\_\_\_
- libro \_\_\_\_\_

3. Completa con b o v.

\_\_\_ arco    \_\_\_ aca  
 \_\_\_ icicleta    \_\_\_ otar  
 \_\_\_ ueno    \_\_\_ erano



3

### CONOCIMIENTO DEL MEDIO

1. ¿Qué parte de la planta es? Une con flechas.

- Raíz •
- Tallo •
- Hoja •
- Flor •
- Fruto •



2. ¿De qué material está hecho? Escribe.



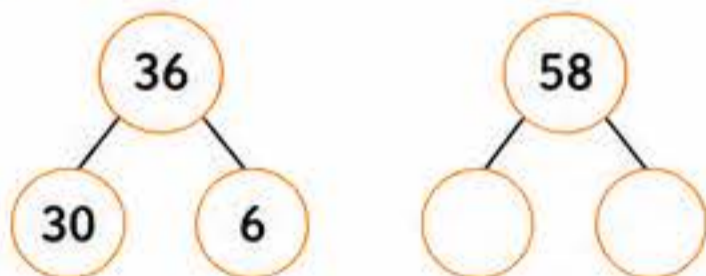
4

### CÁLCULO

1. Resta.

$72 - 28 =$    
 $53 - 17 =$    
 $64 - 36 =$    
 $81 - 45 =$    
 $90 - 29 =$

2. Completa.



3. Ordena de menor a mayor.

67    23    89    45    12



5

### ESCRITURA Y ORTOGRAFÍA

1. Copia la frase correctamente.

el perro juega en el parque todos los días.

2. Completa con ll o y.



\_\_\_ ave



\_\_\_ uvia



\_\_\_ estrella



\_\_\_ ogur




6

### VALORES Y CONVIVENCIA

1. Lee y marca ✓ lo que está bien.

- Interrumpo cuando alguien habla.
- Comparto mis cosas.
- Escucho a los demás.
- Cuido el material.

2. Dibuja algo que te haya gustado de este curso.



# MANTEL DE REPASO - FINAL DE CURSO

## 3º DE PRIMARIA

1

### MATEMÁTICAS

1. Calcula.

$345 + 278 =$

$612 - 389 =$

$235 \times 3 =$

$648 \div 6 =$

$725 \div 5 =$

2. Completa la tabla.

NÚMERO	ANTERIOR	POSTERIOR
399	—	—
520	—	—
715	—	—
908	—	—
1.256	—	—

3. Problemas.

En una librería hay 248 cuentos y 157 libros de aventuras. ¿Cuántos libros hay en total? Si vendieron 125, ¿cuántos quedan?



2

### LENGUA

1. Clasifica las palabras según su sílaba tónica.

lápiz	canción	fácil
árbol	sofá	reloj
camión	móvil	música

AGUDAS	LLANAS	ESDRÚJULAS
_____	_____	_____
_____	_____	_____
_____	_____	_____

3. Completa con g o j.

- La \_\_\_\_ irafa come hojas.
- El pa \_\_\_\_ aro vuela alto.
- Juan tiene un \_\_\_\_ uquete nuevo.
- La naran \_\_\_\_ a está rica.
- La auto \_\_\_\_ ira es cómoda.

2. Escribe una oración con cada palabra.

perro \_\_\_\_\_

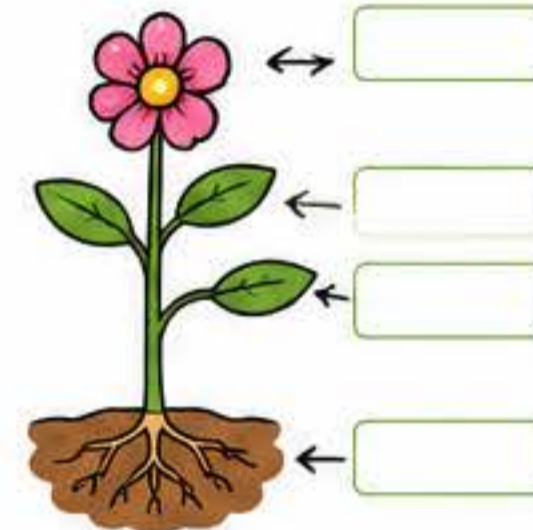
escuela \_\_\_\_\_



3

### CONOCIMIENTO DEL MEDIO

1. Escribe los nombres de las partes de la planta.



2. Une cada recurso natural con su uso.

Agua	•	Electricidad
Madera	•	Muebles
Petróleo	•	Gasolina
Sol	•	Beber
Viento	•	Energía eólica

3. ¿Por qué debemos cuidar el medio ambiente? Escribe dos ideas.

1. \_\_\_\_\_
2. \_\_\_\_\_



4

### CÁLCULO

1. Calcula.

$456 + 378 =$

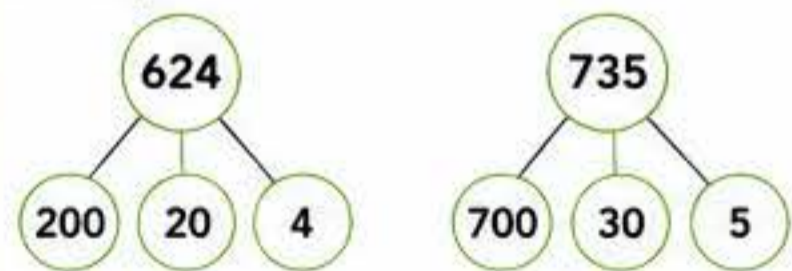
$829 - 457 =$

$236 \times 4 =$

$945 \div 5 =$

$684 \div 6 =$

2. Completa.



3. Ordena de menor a mayor.

3.245    2.543    4.123    2.354    4.321

\_\_\_\_\_ < \_\_\_\_\_ < \_\_\_\_\_ < \_\_\_\_\_ < \_\_\_\_\_



5

### ESCRITURA Y ORTOGRAFÍA

1. Copia el texto poniendo las mayúsculas y los puntos donde corresponda.

el sábado fuimos al zoo vimos leones jirafas y elefantes luego comimos en el parque y jugamos todos juntos

\_\_\_\_\_

\_\_\_\_\_

\_\_\_\_\_



2. Completa con b o v.

- La \_\_\_\_ aca da leche.
- El \_\_\_\_ arco está en el río.
- Juan \_\_\_\_ ive en un piso.
- \_\_\_\_ amos a la playa mañana.


6

### VALORES Y CONVIVENCIA

1. Lee y marca ✓ lo que está bien.

- Respetar las opiniones de los demás.
- Gritar cuando estoy enfadado/a.
- Ayudar a quien lo necesita.
- Escuchar cuando alguien habla.
- Cuidar los materiales comunes.

2. Dibuja algo que te haya gustado de este curso.



# MANTEL DE REPASO – FINAL DE CURSO

## 4º DE PRIMARIA

1

### MATEMÁTICAS

1. Calcula.

$4.325 + 2.678 =$

$7.891 - 3.456 =$

$356 \times 27 =$

$8.748 \div 6 =$

$5.967 \div 9 =$



2. Completa la tabla.

NÚMERO	ANTERIOR	POSTERIOR	CENTENAS	UNIDADES
2.563	—	—	—	—
4.809	—	—	—	—
7.197	—	—	—	—
9.450	—	—	—	—
6.382	—	—	—	—

3. Problemas.

Un tren sale de Madrid a las 9:15 h y llega a Barcelona a las 12:45 h.

¿Cuánto tiempo dura el viaje?

Si el billete cuesta 38 €, ¿cuánto costarán 4 billetes?

2

### LENGUA

1. Clasifica las palabras según su acentuación.

lápiz    música    compás  
sofá    difícil    césped  
camión    reloj    túnel

AGUDAS

LLANAS

ESDRÚJULAS

\_\_\_\_\_

\_\_\_\_\_

\_\_\_\_\_

2. Escribe una oración con cada palabra.

- amigo \_\_\_\_\_
- aventura \_\_\_\_\_
- libertad \_\_\_\_\_

3. Completa con g o j.

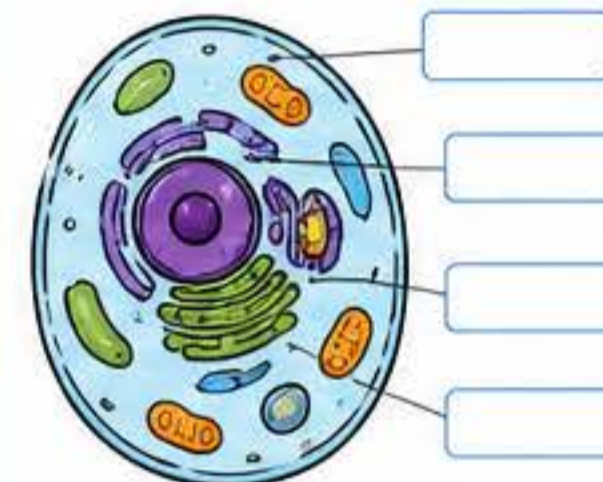
- La \_\_\_\_ irafa come hojas.
- El pa \_\_\_\_ aro vuela alto.
- La reló \_\_\_\_ funciona bien.
- El co \_\_\_\_ e está lleno.
- Ma \_\_\_\_ ia fue al teatro.



3

### CONOCIMIENTO DEL MEDIO

1. Completa las partes de la célula.



2. Une cada recurso con su tipo.

- |                   |   |            |
|-------------------|---|------------|
| Río               | • | Energético |
| Petróleo          | • | Forestal   |
| Bosque            | • | Minero     |
| Sol               | • | Hídrico    |
| Viento            | • | Energético |
| Mineral de hierro | • | Energético |

3. ¿Qué acciones ayudan a cuidar el planeta? Escribe dos ejemplos.

1. \_\_\_\_\_
2. \_\_\_\_\_



4

### CÁLCULO

1. Calcula.

$7.654 + 3.289 =$

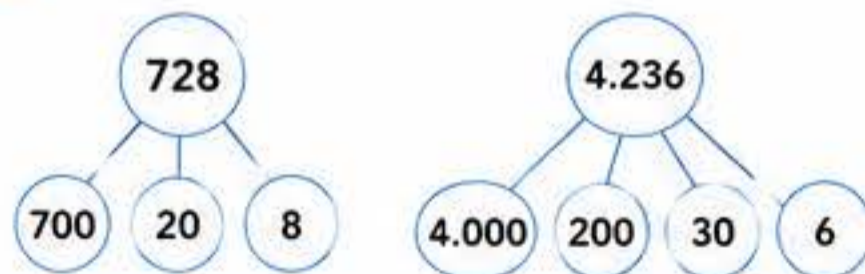
$9.876 - 4.562 =$

$456 \times 38 =$

$7.128 \div 7 =$

$5.832 \div 8 =$

2. Completa.



3. Ordena de menor a mayor.

4.321    3.214    4.132    3.412    4.231

\_\_\_\_\_ < \_\_\_\_\_ < \_\_\_\_\_ < \_\_\_\_\_ < \_\_\_\_\_



5

### ESCRITURA Y ORTOGRAFÍA

1. Copia el texto poniendo las mayúsculas y los puntos donde corresponda.

el verano es mi estación favorita me gusta ir a la playa jugar con mis amigos y comer helados el año pasado fuimos a cantabria y vimos unas vistas increíbles

\_\_\_\_\_

\_\_\_\_\_

\_\_\_\_\_

2. Completa con h, b o v.

- Ayer fue a la playa a nadar.
- El \_\_\_\_ arco estaba en el puerto.
- No \_\_\_\_ ay que olvidar el cuaderno.
- La \_\_\_\_ erdura está muy fresca.



6

### VALORES Y CONVIVENCIA

1. Lee y marca ✓ lo que está bien.

- Interrumpir cuando alguien habla.
- Ayudar a quien lo necesita.
- Respetar las opiniones de los demás.
- Burlarse de los errores ajenos.
- Cuidar los materiales comunes.

2. Dibuja algo que te haya gustado de este curso.





# MANTEL DE REPASO - FINAL DE CURSO

## 5º DE PRIMARIA

### 1 MATEMÁTICAS

1. Calcula.
- 6.249 + 3.851 =
- 9.876 - 2.345 =
- 7.364 × 23 =
- 8.568 ÷ 12 =
- 9.675 ÷ 15 =



2. Completa la tabla.

NÚMERO	CM	DM	UM	C	D	U
8.527						
24.306						
67.859						
120.045						
502.718						

3. Problemas.

Una caja tiene 48 lápices. ¿Cuántos lápices habrá en 25 cajas?

Si se reparten entre 30 alumnos, ¿Cuántos lápices recibe cada uno?

### 2 LENGUA

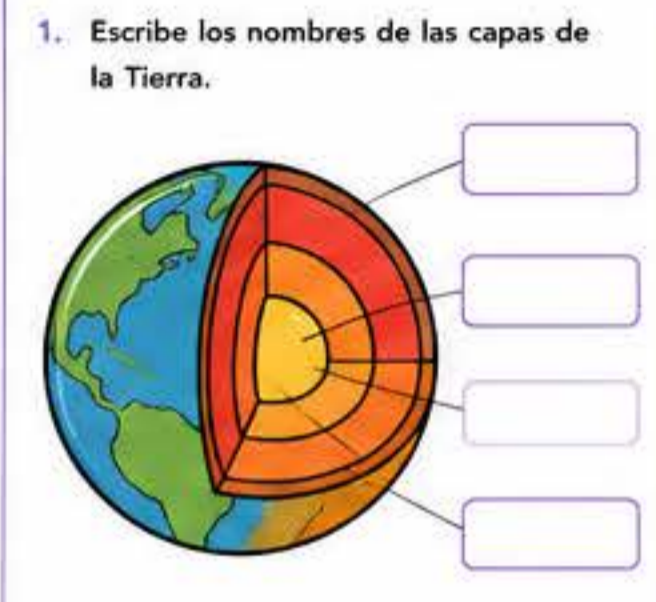
1. Clasifica las palabras según su acentuación.
- árbol rápido lápiz jardín  
 canción difícil carácter café  
 camión brújula examen túnel
- | AGUDAS | LLANAS | ESDRÚJULAS |
|--------|--------|------------|
| _____  | _____  | _____      |
| _____  | _____  | _____      |
| _____  | _____  | _____      |

3. Completa con g o j.
- La \_\_\_irafa es muy alta.
  - El pa\_\_\_aro canta en la rama.
  - El co\_\_\_e estaba lleno.
  - No me gusta la \_\_\_alea.
  - Lleva un \_\_\_ersey verde.

2. Escribe una oración con cada palabra.
- amistad \_\_\_\_\_
  - naturaleza \_\_\_\_\_
  - imaginación \_\_\_\_\_



### 3 CONOCIMIENTO DEL MEDIO



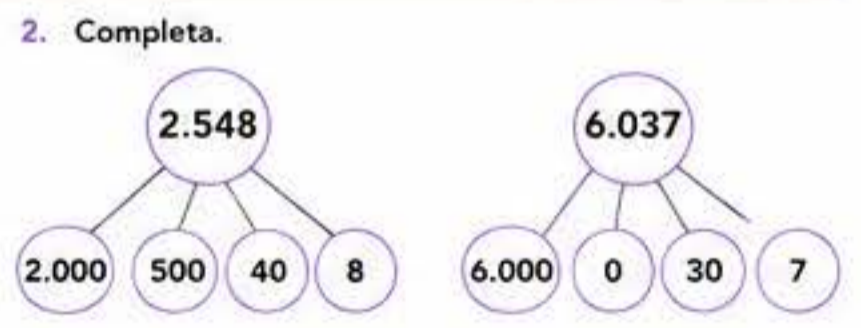
2. Une cada recurso natural con su uso.
- |                   |   |                              |
|-------------------|---|------------------------------|
| Agua              | • | • Generar electricidad       |
| Bosque            | • | • Fabricar objetos de metal  |
| Petróleo          | • | • Combustible para vehículos |
| Mineral de hierro | • | • Papel y madera             |
| Viento            | • | • Beber y regar              |
| Sol               | • | • Energía eólica             |

3. ¿Qué podemos hacer para cuidar el medio ambiente? Escribe tres acciones.
1. \_\_\_\_\_
  2. \_\_\_\_\_
  3. \_\_\_\_\_




### 4 CÁLCULO

1. Calcula.
- 12.345 + 8.765 =
- 23.456 - 9.876 =
- 345 × 67 =
- 7.896 ÷ 18 =
- 9.240 ÷ 24 =



3. Ordena de menor a mayor.
- 7.654   6.547   7.465   6.754   7.456
- \_\_\_\_\_ < \_\_\_\_\_ < \_\_\_\_\_ < \_\_\_\_\_ < \_\_\_\_\_



### 5 ESCRITURA Y ORTOGRAFÍA

1. Copia el texto poniendo las mayúsculas y los signos de puntuación donde corresponda.

el sábado fuimos de excursión al parque natural llevamos la comida en la mochila mi amiga lucía se olvidó la gorra hizo mucho calor pero lo pasamos muy bien vimos ciervos y también muchas aves

\_\_\_\_\_

\_\_\_\_\_

2. Completa con h, b o v.
- Ayer \_\_\_icimos una tarta deliciosa.
  - No \_\_\_oy clase de música.
  - El \_\_\_arco está en el puerto.
  - \_\_\_amos al cine por la tarde.
  - La \_\_\_erdura está muy fresca.
  - No tengo \_\_\_alones azules.



### 6 VALORES Y CONVIVENCIA

1. Lee y marca ✓ lo que está bien.
- Respetar las normas del colegio.
  - Escuchar a los demás.
  - Interrumpir cuando alguien habla.
  - Ayudar a quien lo necesita.
  - Cuidar los materiales comunes.
  - Burlarse de los errores de otros.

2. Dibuja algo que te haya gustado de este curso.



# MANTEL DE REPASO - FINAL DE CURSO

## 6º DE PRIMARIA

1

### MATEMÁTICAS

1. Calcula.
- $7.248 + 3.695 =$
- $12.306 - 4.789 =$
- $8.547 \times 36 =$
- $18.672 \div 24 =$
- $9.856 \div 32 =$
- $15.804 \div 15 =$



2. Completa la tabla.

UNIDADES DE MILLAR	CENTENAS	DECENAS	UNIDADES
25.417			
63.802			
107.265			
245.381			
502.763			

3. Problemas.

En un teatro hay 15 filas con 24 asientos cada una y en cada fila hay 3 asientos reservados. ¿Cuántos asientos hay en total? ¿Cuántos asientos no están reservados?

2

### LENGUA

1. Clasifica las palabras según su categoría gramatical.

aventura rápido porque jardín  
libros amable correr pero  
cantamos mañana feliz árbol

NOMBRES	ADJETIVOS	VERBOS	OTROS
_____	_____	_____	_____
_____	_____	_____	_____
_____	_____	_____	_____

2. Escribe una oración con cada palabra.
- amistad \_\_\_\_\_
  - responsabilidad \_\_\_\_\_
  - esfuerzo \_\_\_\_\_

3. Completa con g o j.
- La \_\_\_irafa tiene el cuello largo.
  - El pa\_\_\_aro construye su nido.
  - No me gusta la \_\_\_alea.
  - El co\_\_\_e está abierto.
  - Lleva un traje a\_\_\_eado.



3

### CONOCIMIENTO DEL MEDIO

1. Escribe el nombre de cada sistema del cuerpo humano.

2. Relaciona cada recurso natural con su uso.
- |          |   |                                     |
|----------|---|-------------------------------------|
| Agua     | • | • Obtener energía eléctrica         |
| Bosque   | • | • Fabricar plásticos y combustibles |
| Petróleo | • | • Cultivar alimentos                |
| Viento   | • | • Fabricar muebles y papel          |
| Sol      | • | • Producir energía renovable        |
| Suelo    | • | • Beber y regar plantas             |

3. ¿Qué acciones podemos hacer para cuidar el planeta? Escribe tres ideas.
- \_\_\_\_\_
  - \_\_\_\_\_
  - \_\_\_\_\_



4

### CÁLCULO

1. Calcula.
- $9.876 + 6.543 =$
- $15.327 - 8.964 =$
- $456 \times 78 =$
- $7.832 \div 16 =$
- $12.096 \div 24 =$

2. Completa.

3. Ordena de menor a mayor.
- 5.432    4.987    5.234    4.932    5.423
- \_\_\_\_\_ < \_\_\_\_\_ < \_\_\_\_\_ < \_\_\_\_\_ < \_\_\_\_\_



5

### ESCRITURA Y ORTOGRAFÍA

1. Copia el texto poniendo las mayúsculas y los signos de puntuación donde corresponda.

el pasado verano visitamos el parque nacional de ordesa y monte perdido hicimos varias rutas de montaña vimos cascadas impresionantes y muchas especies de animales al atardecer nos sentamos a descansar y contemplar el paisaje fue una experiencia inolvidable

\_\_\_\_\_

\_\_\_\_\_

2. Completa con h, o v.
- Ayer \_\_\_\_\_imos al cine.
  - El \_\_\_\_\_arco estaba en el puerto.
  - No \_\_\_\_\_oy clase de música.
  - La comi\_\_\_\_\_da estaba riquísima.
  - \_\_\_\_\_an a llegar mis amigos.
  - El coche está a \_\_\_\_\_riado.



6

### VALORES Y CONVIVENCIA

1. Lee y marca ✓ lo que está bien.
- Respetar las opiniones de los demás.
  - Hablar sin levantar la voz.
  - Ayudar a quien lo necesita.
  - Interrumpir cuando alguien habla.
  - Cuidar los materiales comunes.
  - Aceptar las diferencias.

2. Dibuja algo que te haya gustado de este curso.

