

# ACTIVIDADES MATEMÁTICAS MUNDIAL 2026

## 1. NÚMEROS MUNDIALISTAS


Escribe cómo se leen los siguientes números.

- 2026 \_\_\_\_\_
- 38 \_\_\_\_\_
- 1,289 \_\_\_\_\_
- 45,700 \_\_\_\_\_
- 926 \_\_\_\_\_



## 2. SUMA DE GOLES

Suma los goles de cada equipo.

	$2 + 3 =$	<input type="text"/>
	$4 + 5 =$	<input type="text"/>
	$1 + 6 =$	<input type="text"/>
	$3 + 2 =$	<input type="text"/>
	$7 + 1 =$	<input type="text"/>

## 3. RESTA EN LA CANCHA

Resta y encuentra cuántos goles faltan.

	$- 2 =$	<input type="text"/>
	$- 3 =$	<input type="text"/>
	$- 1 =$	<input type="text"/>
	$- 4 =$	<input type="text"/>



## 4. MULTIPLICA COMO CAMPEÓN

Resuelve las multiplicaciones.

$3 \times 4 =$	<input type="text"/>
$6 \times 2 =$	<input type="text"/>
$7 \times 3 =$	<input type="text"/>
$8 \times 5 =$	<input type="text"/>
$9 \times 2 =$	<input type="text"/>



## 5. TABLA DE POSICIONES

Completa la tabla de posiciones.

EQUIPO	PJ	PG	PE	PP	PUNTOS
ÁGUILAS	5	3	1	1	_____
TIGRES	5	2	2	1	_____
RAYOS	5	4	0	1	_____
GUERREROS	5	1	1	3	_____

PUNTOS = (PG x 3) + (PE x 1)

## 6. SECUENCIAS NUMÉRICAS

Completa las secuencias.


100 200 300  500

5 10 15  25

## 7. PROBLEMAS DE ESTADIO

★ En el estadio hay 45,000 espectadores. Si llegan 12,000 más, ¿cuántos hay en total?

★ Si se vendieron 28,500 boletos y quedan 6,500, ¿cuántos boletos había en total?



## 8. FRACCIONES FUTBOLERAS

Escribe la fracción que representa la parte coloreada.

	$\frac{\quad}{\quad}$
	$\frac{\quad}{\quad}$

## 9. MEDIDAS EN EL CAMPO

Observa la regla y responde.



¿Cuántos metros más largo que ancho tiene el campo?




## 10. PATRONES DE BALÓN

Completa el patrón.

	<input type="text"/>
	<input type="text"/>

## 11. RAZONANDO Y CALCULANDO


Un jugador anotó 3 goles en cada partido. Si jugó 6 partidos, ¿cuántos goles anotó en total?



## 12. DESAFÍO FINAL

Resuelve las operaciones combinadas.

$(25 + 15) \times 2 =$	<input type="text"/>
$120 - (30 + 20) =$	<input type="text"/>
$(7 \times 4) + (6 \times 3) =$	<input type="text"/>



# ACTIVIDADES MATEMÁTICAS

## MUNDIAL 2026

¡PIENSA, CALCULA Y GANA!

Las matemáticas nos ayudan a jugar mejor en la vida: pensamos, decidimos y llegamos más lejos.

### 1. NÚMEROS MUNDIALISTAS

Escribe cómo se leen los siguientes números.

- 5,837 \_\_\_\_\_
- 14,269 \_\_\_\_\_
- 26,405 \_\_\_\_\_
- 73,918 \_\_\_\_\_
- 98,276 \_\_\_\_\_

### 2. SUMA DE GOLES

Suma los goles de cada partido.

- 15  $9 + 6 = \square$
- 18  $7 + 8 = \square$
- 12  $5 + 9 = \square$
- 17  $8 + 7 = \square$
- 14  $6 + 8 = \square$

### 3. RESTA EN LA CANCHA

Resta y encuentra cuántos goles faltan.

- $10 - 3 = \square$
- $10 - 4 = \square$
- $10 - 2 = \square$
- $10 - 5 = \square$
- $10 - 6 = \square$

### 4. MULTIPLICA COMO CAMPEÓN

Resuelve las multiplicaciones.

- $4 \times 7 = \square$
- $6 \times 8 = \square$
- $3 \times 9 = \square$
- $7 \times 5 = \square$
- $8 \times 6 = \square$

### 5. TABLA DE POSICIONES

Completa la tabla.

EQUIPO	PJ	PG	PE	PP	PUNTOS
DRAGONES	16	9	4	3	_____
FENIX	16	8	5	3	_____
TITANES	16	7	5	4	_____
ÁGUILAS	16	6	4	6	_____

$PUNTOS = (PG \times 3) + (PE \times 1)$

### 6. SECUENCIAS NUMÉRICAS

Completa las secuencias.

- 150 300 450  750
- 4 8 12  20
- 1000 800 600  200

### 7. PROBLEMAS DE ESTADIO

- En el estadio hay 53,600 espectadores. Si se van 19,875, ¿cuántos quedan?
- Se vendieron 25,350 camisetas el sábado y 21,280 el domingo. ¿Cuántas camisetas se vendieron en total?

### 8. FRACCIONES FUTBOLERAS

Escribe la fracción que representa la parte coloreada.

$\frac{\square}{\square}$       $\frac{\square}{\square}$

### 9. MEDIDAS EN LA CANCHA

Observa la cancha y responde.

$115\text{ m}$   
 $70\text{ m}$

¿Cuántos metros más largo que ancho tiene la cancha?

### 10. PATRONES DE BALÓN

Completa el patrón.

### 11. CÁLCULO RÁPIDO

- Resuelve las operaciones.
- $67 + 38 = \square$
  - $81 \div 9 = \square$
  - $92 - 46 = \square$
  - $64 + 27 = \square$
  - $54 \times 3 = \square$
  - $7 \times 8 = \square$

### 12. DESAFÍO FINAL

- Resuelve y descubre el campeón matemático.
- $(36 + 24) \times 2 = \square$
  - $120 - (45 + 25) = \square$
  - $(7 \times 6) + (9 \times 5) = \square$

ESTE ÁLBUM PERTENECE A: \_\_\_\_\_

EN LA CANCHA Y EN LA VIDA, LAS MATEMÁTICAS TE HACEN GANADOR.

Las matemáticas nos ayudan a jugar mejor en la vida: pensamos, decidimos y llegamos más lejos.

# ACTIVIDADES MATEMÁTICAS MUNDIAL 2026

¡PIENSA, CALCULA Y GANA!



## 1. NÚMEROS MUNDIALISTAS

Escribe cómo se leen los siguientes números.

- 2026 \_\_\_\_\_
- 73 \_\_\_\_\_
- 1,456 \_\_\_\_\_
- 89,230 \_\_\_\_\_
- 605 \_\_\_\_\_

## 2. SUMA DE GOLES

Suma los goles de cada equipo.

- 8  $4 + 6 = \square$
- 10  $7 + 5 = \square$
- 5  $3 + 4 = \square$
- 9  $6 + 8 = \square$
- 11  $2 + 9 = \square$

## 3. RESTA EN LA CANCHA

Resta y encuentra cuántos goles faltan.

- $5 - 3 = \square$
- $4 - 2 = \square$
- $3 - 1 = \square$
- $6 - 4 = \square$
- $5 - 5 = \square$

## 4. MULTIPLICA COMO CAMPEÓN

Resuelve las multiplicaciones.

- 3  $3 \times 4 = \square$
- 6  $7 \times 2 = \square$
- 7  $8 \times 3 = \square$
- 4  $5 \times 6 = \square$
- 9  $9 \times 2 = \square$

## 5. TABLA DE POSICIONES

Completa la tabla.

EQUIPO	PJ	PG	PE	PP	PUNTOS
ÁGUILAS	10	6	2	2	_____
TIGRES	10	5	3	2	_____
RAYOS	10	4	2	4	_____
GUERREROS	10	3	4	3	_____

$PUNTOS = (PG \times 3) + (PE \times 1)$

## 6. SECUENCIAS NUMÉRICAS

Completa las secuencias.

- 100 200 300  500
- 2 4 6  10
- 1000 900 800  600

## 7. PROBLEMAS DE ESTADIO

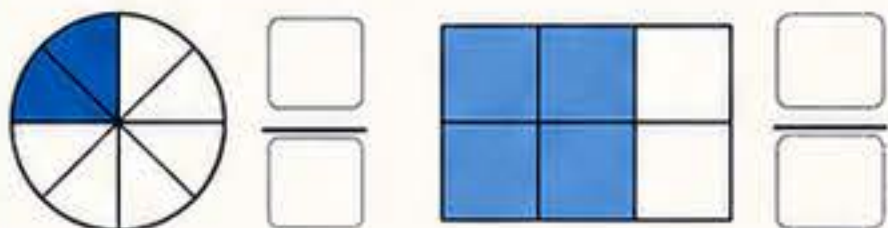
En el estadio hay 42,350 espectadores. Si llegan 6,725 más, ¿cuántos hay en total?

Si se vendieron 18,540 boletos el sábado y 15,230 el domingo, ¿cuántos boletos se vendieron en total?



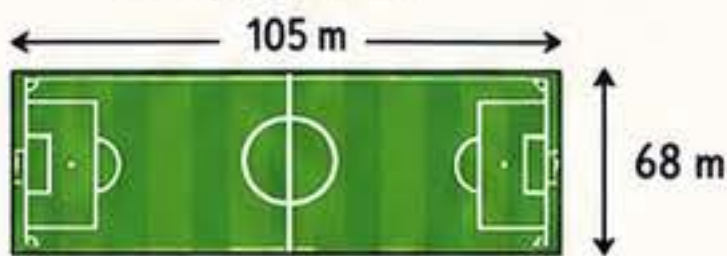
## 8. FRACCIONES FUTBOLERAS

Escribe la fracción que representa la parte coloreada.



## 9. MEDIDAS EN LA CANCHA

Observa y responde.



¿Cuántos metros más largo que ancho tiene el campo?

## 10. PATRONES DE BALÓN

Completa el patrón.



## 11. CÁLCULO RÁPIDO

Resuelve las operaciones.

- $36 + 28 = \square$        $64 \div 8 = \square$
- $72 - 39 = \square$        $81 - 27 = \square$
- $45 \times 2 = \square$        $9 \times 6 = \square$

## 12. DESAFÍO FINAL

Resuelve y descubre el campeón matemático.

- $(45 + 15) \times 2 = \square$
- $120 - (35 + 25) = \square$
- $(6 \times 4) + (8 \times 3) = \square$



ESTÉ ÁLBUM PERTENECE A:

¡CADA CÁLCULO TE ACERCA A LA VICTORIA!

EN LA CANCHA Y EN LA VIDA, LAS MATEMÁTICAS TE HACEN GANADOR.

Las matemáticas nos ayudan a jugar mejor en la vida: pensamos, decidimos y llegamos más lejos.

# ACTIVIDADES MATEMÁTICAS MUNDIAL 2026

¡PIENSA, CALCULA Y GANA!



## 1. NÚMEROS MUNDIALISTAS



Escribe cómo se leen los siguientes números.

7,345 \_\_\_\_\_

12,876 \_\_\_\_\_

25,412 \_\_\_\_\_

63,509 \_\_\_\_\_

91,236 \_\_\_\_\_

## 2. SUMA DE GOLES

Suma los goles de cada partido.



14 8 + 6 =

17 9 + 5 =

12 7 + 8 =

16 6 + 7 =

19 5 + 9 =

## 3. RESTA EN LA CANCHA

Resta y encuentra cuántos goles faltan.



4 - 3 =

4 - 2 =

3 - 5 =

4 - 1 =

4 - 6 =

## 4. MULTIPLICA COMO CAMPEÓN

Resuelve las multiplicaciones.

4 4 x 8 =

7 6 x 7 =

9 3 x 9 =

2 7 x 6 =

5 8 x 4 =

## 5. TABLA DE POSICIONES

Completa la tabla.

EQUIPO	PJ	PG	PE	PP	PUNTOS
TOROS	16	10	3	3	_____
LEONES	16	8	4	4	_____
ÁGUILAS	16	7	5	4	_____
RAYOS	16	6	4	6	_____

PUNTOS = (PG x 3) + (PE x 1)

## 6. SECUENCIAS NUMÉRICAS

Completa las secuencias.



## 7. PROBLEMAS DE ESTADIO

En el estadio hay 45,670 espectadores. Si se van 17,345, ¿cuántos quedan?


Se vendieron 27,860 boletos el sábado y 18,275 el domingo. ¿Cuántos boletos se vendieron en total?



## 8. FRACCIONES FUTBOLERAS

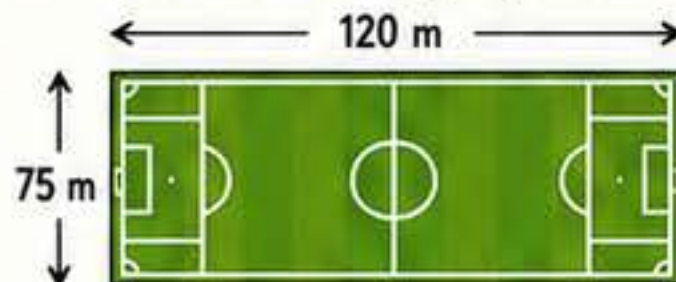
Escribe la fracción que representa la parte coloreada.






## 9. MEDIDAS EN LA CANCHA

Observa la cancha y responde.



¿Cuántos metros más larga que ancha tiene la cancha?

## 10. PATRONES DE BALÓN

Completa el patrón.



## 11. CÁLCULO RÁPIDO

Resuelve las operaciones.

85 + 29 =

72 ÷ 6 =

96 - 37 =

64 + 28 =

48 x 3 =

9 x 8 =

## 12. DESAFÍO FINAL

Resuelve y descubre el campeón matemático.


(45 + 27) x 2 =

150 - (48 + 36) =

(9 x 6) + (7 x 5) =



ESTE ÁLBUM PERTENECE A:



¡CADA CÁLCULO TE ACERCA A LA VICTORIA!

EN LA CANCHA Y EN LA VIDA, LAS MATEMÁTICAS TE HACEN GANADOR.

# ACTIVIDADES MATEMÁTICAS MUNDIAL 2026

¡PIENSA, CALCULA Y GANA!

Las matemáticas nos ayudan a jugar mejor en la vida: pensamos, decidimos y llegamos más lejos.



## 1. NÚMEROS MUNDIALISTAS

Escribe cómo se leen los siguientes números.

- 4,682 \_\_\_\_\_
- 19,745 \_\_\_\_\_
- 6,309 \_\_\_\_\_
- 27,815 \_\_\_\_\_
- 83,206 \_\_\_\_\_

## 2. SUMA DE GOLES

Suma los goles de cada partido.

- $7 + 5 = \square$
- $9 + 8 = \square$
- $4 + 7 = \square$
- $6 + 9 = \square$
- $8 + 6 = \square$

## 3. RESTA EN LA CANCHA

Resta y encuentra cuántos goles faltan.

- $4 - 2 = \square$
- $5 - 3 = \square$
- $3 - 1 = \square$
- $4 - 4 = \square$
- $5 - 5 = \square$

## 4. MULTIPLICA COMO CAMPEÓN

Resuelve las multiplicaciones.

- $3 \times 7 = \square$
- $4 \times 6 = \square$
- $7 \times 4 = \square$
- $8 \times 3 = \square$
- $9 \times 5 = \square$

## 5. TABLA DE POSICIONES

Completa la tabla.

EQUIPO	PJ	PG	PE	PP	PUNTOS
PANTERAS	14	9	3	2	_____
TIBURONES	14	8	2	4	_____
JAGUARES	14	7	3	4	_____
FLAMENCOS	14	5	4	5	_____

$PUNTOS = (PG \times 3) + (PE \times 1)$

## 6. SECUENCIAS NUMÉRICAS

Completa las secuencias.

- 200 400 600  1000
- 5 10 15  25
- 1500 1200 900  300

## 7. PROBLEMAS DE ESTADIO

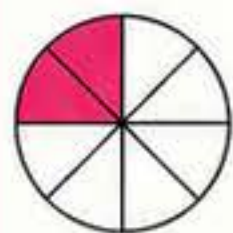
★ En el estadio hay 41,850 espectadores. Si se van 13,275, ¿cuántos espectadores quedan?


★ Se vendieron 18,960 camisetas el sábado y 22,375 el domingo. ¿Cuántas camisetas se vendieron en total?



## 8. FRACCIONES FUTBOLERAS

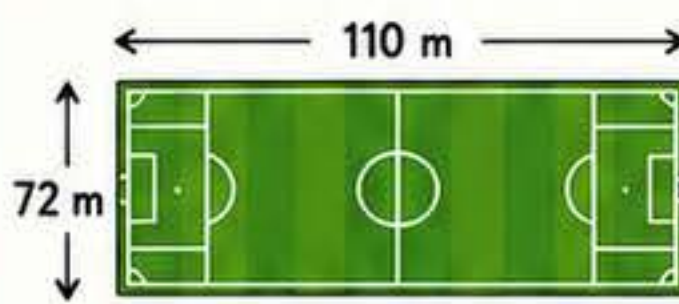
Escribe la fracción que representa la parte coloreada.


## 9. MEDIDAS EN LA CANCHA

Observa la cancha y responde.



¿Cuántos metros más larga que tiene la cancha?

## 10. PATRONES DE BALÓN

Completa el patrón.



## 11. CÁLCULO RÁPIDO

Resuelve las operaciones.

- $56 + 27 = \square$
- $64 \div 8 = \square$
- $93 - 38 = \square$
- $72 - 19 = \square$
- $45 \times 3 = \square$
- $7 \times 9 = \square$

## 12. DESAFÍO FINAL

Resuelve y descubre el campeón matemático.

- $(28 + 16) \times 2 = \square$
- $120 - (45 + 35) = \square$
- $(7 \times 6) + (9 \times 3) = \square$



ESTE ÁLBUM PERTENECE A:

¡CADA CÁLCULO TE ACERCA A LA VICTORIA!

EN LA CANCHA Y EN LA VIDA, LAS MATEMÁTICAS TE HACEN GANADOR.

# ACTIVIDADES MATEMÁTICAS

## MUNDIAL 2026

¡PIENSA, CALCULA Y GANA!

Las matemáticas nos ayudan a jugar mejor en la vida: pensamos, decidimos y llegamos más lejos.



### 1. NÚMEROS MUNDIALISTAS

Escribe cómo se leen los siguientes números.

- 2026 \_\_\_\_\_
- 38 \_\_\_\_\_
- 1,289 \_\_\_\_\_
- 45,700 \_\_\_\_\_
- 926 \_\_\_\_\_

### 2. SUMA DE GOLES

Suma los goles de cada equipo.

- 2 + 3 =
- 4 + 5 =
- 1 + 6 =
- 3 + 2 =
- 7 + 1 =

### 3. RESTA EN LA CANCHA

Resta y encuentra cuántos goles faltan.

- 4 - 2 =
- 5 - 3 =
- 3 - 1 =
- 6 - 4 =

### 4. MULTIPLICA COMO CAMPEÓN

Resuelve las multiplicaciones.

- 3 x 4 =
- 6 x 2 =
- 7 x 3 =
- 8 x 5 =
- 9 x 2 =

### 5. TABLA DE POSICIONES


Completa la tabla.

EQUIPO	PJ	PG	PE	PP	PUNTOS
ÁGUILAS	10	7	1	2	_____
TIGRES	10	6	2	2	_____
RAYOS	10	5	1	4	_____
GUERREROS	10	3	3	4	_____

PUNTOS = (PG x 3) + (PE x 1) — ★

### 6. SECUENCIAS NUMÉRICAS

Completa las secuencias.



### 7. PROBLEMAS DE ESTADIO

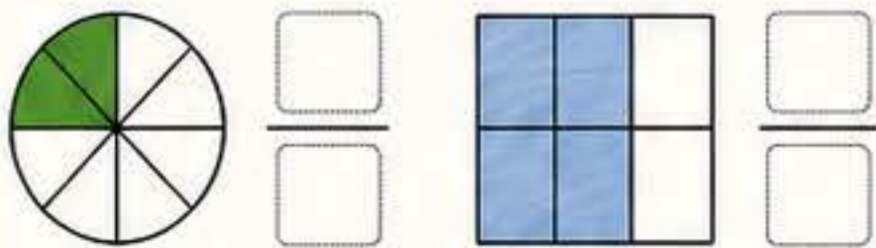
★ En el estadio hay 45,000 espectadores. Si llegan 12,000 más, ¿cuántos hay en total?

★ Si se vendieron 28,500 boletos y quedan 6,500, ¿cuántos boletos había en total?



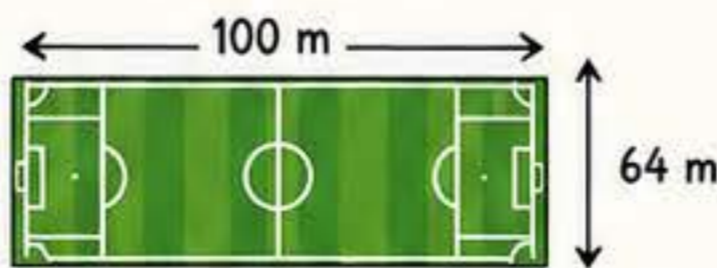
### 8. FRACCIONES FUTBOLERAS

Escribe la fracción que representa la parte coloreada.



### 9. MEDIDAS EN LA CANCHA

Observa y responde.



¿Cuántos metros más largo que ancho tiene el campo?

### 10. PATRONES DE BALÓN

Completa el patrón.



### 11. CÁLCULO RÁPIDO

- 25 + 15 =       42 ÷ 6 =
- 120 - 30 =       6 x 3 =
- 7 x 4 =       81 ÷ 9 =

### 12. DESAFÍO FINAL

Resuelve y descubre el campeón matemático.

- (25 + 15) x 2 =
- 120 - (30 + 20) =
- (7 x 4) + (6 x 3) =



ESTÉ ÁLBUM PERTENECE A: \_\_\_\_\_



¡CADA CÁLCULO TE ACERCA A LA VICTORIA!

EN LA CANCHA Y EN LA VIDA, LAS MATEMÁTICAS TE HACEN GANADOR.

# ACTIVIDADES MATEMÁTICAS

## MUNDIAL 2026

¡PIENSA, CALCULA Y GANA!

Las matemáticas nos ayudan a jugar mejor en la vida: pensamos, decidimos y llegamos más lejos.



### 1. NÚMEROS MUNDIALISTAS

Escribe cómo se leen los siguientes números.

- 2026 \_\_\_\_\_
- 58 \_\_\_\_\_
- 3,145 \_\_\_\_\_
- 76,805 \_\_\_\_\_
- 910 \_\_\_\_\_

### 2. SUMA DE GOLES

Suma los goles de cada equipo.

- 7 4 + 6 =
- 10 5 + 8 =
- 9 3 + 7 =
- 11 6 + 9 =
- 8 2 + 5 =

### 3. RESTA EN LA CANCHA

Resta y encuentra cuántos goles faltan.

- 5 - 3 =
- 4 - 4 =
- 3 - 2 =
- 5 - 5 =

### 4. MULTIPLICA COMO CAMPEÓN

Resuelve las multiplicaciones.

- 3 3 x 6 =
- 6 7 x 2 =
- 7 4 x 8 =
- 9 5 x 9 =
- 10 6 x 7 =

### 5. TABLA DE POSICIONES

Completa la tabla.

EQUIPO	PJ	PG	PE	PP	PUNTOS
ÁGUILAS	8	5	2	1	_____
TIGRES	8	4	2	2	_____
RAYOS	8	3	3	2	_____
GUERREROS	8	2	2	4	_____

PUNTOS = (PG x 3) + (PE x 1)

### 6. SECUENCIAS NUMÉRICAS

Completa las secuencias.

- 150 200 250  350
- 3 6 9  15
- 1000 900 800  600

### 7. PROBLEMAS DE ESTADIO

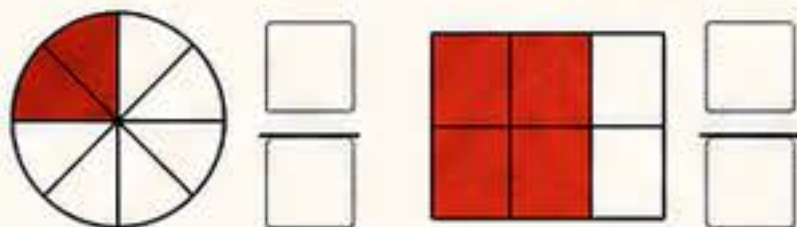
En el estadio hay 32,450 espectadores. Si llegan 8,275 más, ¿cuántos hay en total?

Se vendieron 12,680 entradas el viernes y 14,350 el sábado. ¿Cuántas entradas se vendieron en total?



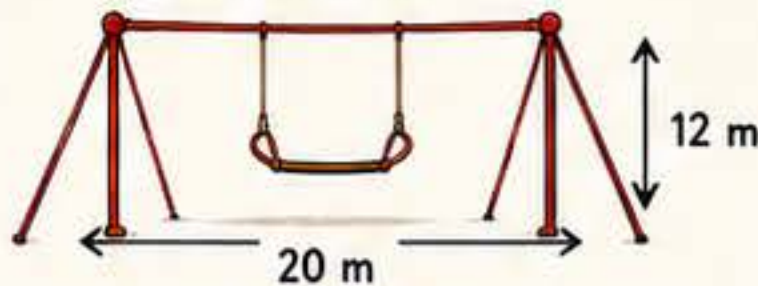
### 8. FRACCIONES FUTBOLERAS

Escribe la fracción que representa la parte coloreada.



### 9. MEDIDAS EN EL CIRCO

Observa y responde.



¿Cuántos metros más ancho que alto tiene el trapecio del circo?

### 10. PATRONES DE BALÓN

Completa el patrón.



### 11. CÁLCULO RÁPIDO

Resuelve las operaciones.

- 48 + 27 =       64 ÷ 8 =
- 73 - 29 =       81 - 45 =
- 36 x 2 =       9 x 7 =

### 12. DESAFÍO FINAL

Resuelve y descubre el campeón matemático.

- (32 + 18) x 2 =
- 120 - (35 + 25) =
- (6 x 4) + (8 x 3) =



ESTÉ ÁLBUM PERTENECE A:

¡CADA CÁLCULO TE ACERCA A LA VICTORIA!

EN LA CANCHA Y EN LA VIDA, LAS MATEMÁTICAS TE HACEN GANADOR.

Las matemáticas nos ayudan a entender el juego, tomar buenas decisiones y alcanzar nuestras metas.

# ACTIVIDADES MATEMÁTICAS MUNDIAL 2026

¡PIENSA, CALCULA Y GANA!

## 1. NÚMEROS MUNDIALISTAS

Escribe cómo se leen los siguientes números.

- ⚽ 2026 \_\_\_\_\_
- ⚽ 47 \_\_\_\_\_
- ⚽ 3,245 \_\_\_\_\_
- ⚽ 65,780 \_\_\_\_\_
- ⚽ 912 \_\_\_\_\_



## 2. SUMA DE GOLES

Suma los goles de cada partido.

- 4 + 6 =
- 5 + 7 =
- 3 + 8 =
- 6 + 5 =
- 2 + 9 =

## 3. RESTA EN LA CANCHA

Resta y encuentra cuántos goles faltan.

- 2 =
- 4 =
- 1 =
- 3 =
- 5 =

## 4. MULTIPLICA COMO CAMPEÓN

Resuelve las multiplicaciones.

- $3 \times 4 =$
- $6 \times 2 =$
- $7 \times 3 =$
- $8 \times 5 =$
- $9 \times 2 =$

## 5. TABLA DE POSICIONES

Completa la tabla.

EQUIPO	PJ	PG	PE	PP	PUNTOS
ÁGUILAS	10	6	2	2	_____
TIGRES	10	5	2	3	_____
RAYOS	10	4	3	3	_____
GUERREROS	10	3	2	5	_____

PUNTOS = (PG x 3) + (PE x 1)

## 6. SECUENCIAS NUMÉRICAS

Completa las secuencias.

- 100 200 300  500
- 2 4 6  10
- 1000 900 800  600

## 7. PROBLEMAS DE ESTADIO

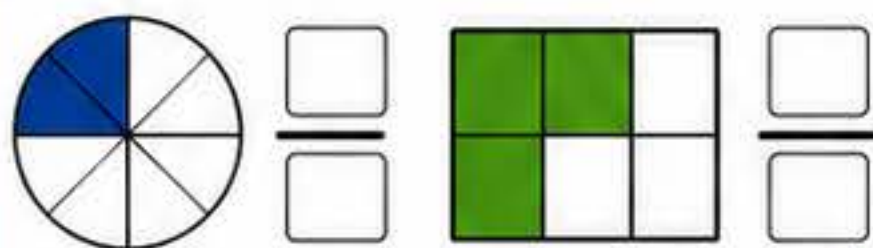
En el estadio hay 38,750 espectadores. Si llegan 9,250 más, ¿cuántos hay en total?

Se vendieron 16,480 camisetas el sábado y 18,920 el domingo. ¿Cuántas camisetas se vendieron en total?



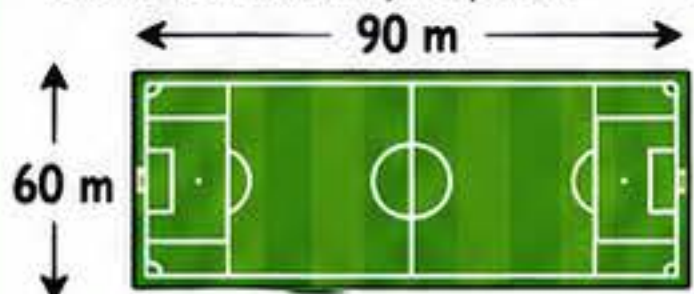
## 8. FRACCIONES FUTBOLERAS

Escribe la fracción que representa la parte coloreada.



## 9. MEDIDAS EN LA CANCHA

Observa la cancha y responde.



¿Cuántos metros más largo que ancho tiene la cancha?

## 10. PATRONES DE BALÓN

Completa el patrón.



## 11. CÁLCULO RÁPIDO

Resuelve las operaciones.

- $45 + 26 =$
- $72 - 18 =$
- $36 \times 2 =$
- $64 \div 8 =$
- $81 - 36 =$
- $9 \times 7 =$

## 12. DESAFÍO FINAL

Resuelve y descubre el campeón matemático.

- $(35 + 25) \times 2 =$
- $120 - (40 + 30) =$
- $(6 \times 4) + (8 \times 3) =$



ESTE ÁLBUM PERTENECE A:

EN LA CANCHA Y EN LA VIDA, LAS MATEMÁTICAS TE HACEN GANADOR.

Las matemáticas nos ayudan a jugar mejor en la vida: pensamos, decidimos y llegamos más lejos.

# ACTIVIDADES MATEMÁTICAS MUNDIAL 2026

¡PIENSA, CALCULA Y GANA!

## 1. NÚMEROS MUNDIALISTAS



Escribe cómo se leen los siguientes números.

- 3,642 \_\_\_\_\_
- 12,507 \_\_\_\_\_
- 27,391 \_\_\_\_\_
- 45,680 \_\_\_\_\_
- 68,245 \_\_\_\_\_

## 2. SUMA DE GOLES

Suma los goles de cada partido.

- $8 + 7 = \square$
- $9 + 6 = \square$
- $7 + 9 = \square$
- $5 + 8 = \square$
- $6 + 7 = \square$

## 3. RESTA EN LA CANCHA

Resta y encuentra cuántos goles faltan.

- 4 =
- 2 =
- 5 =
- 3 =
- 6 =

## 4. MULTIPLICA COMO CAMPEÓN

Resuelve las multiplicaciones.

- $7 \times 6 = \square$
- $6 \times 9 = \square$
- $4 \times 8 = \square$
- $7 \times 3 = \square$
- $5 \times 6 = \square$

## 5. TABLA DE POSICIONES

Completa la tabla.

EQUIPO	PJ	PG	PE	PP	PUNTOS
LEONES	18	11	4	3	—
PUMAS	18	10	5	3	—
TIGRES	18	9	4	5	—
HALCONES	18	8	6	4	—

$PUNTOS = (PG \times 3) + (PE \times 1)$

## 6. SECUENCIAS NUMÉRICAS

Completa las secuencias.

- 300   450   600      900
- 6   12   18      30
- 900   750   600      300

## 7. PROBLEMAS DE ESTADIO

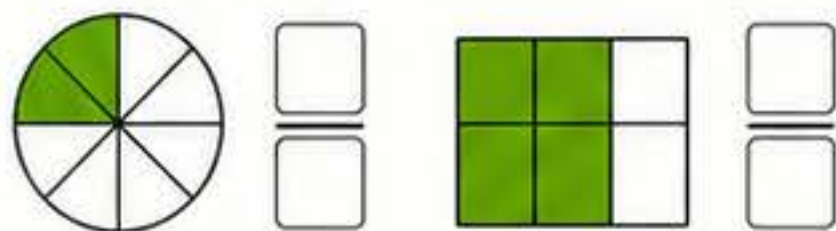
★ En el estadio hay 56,780 espectadores. Si se van 22,450, ¿cuántos quedan?

★ Se vendieron 34,560 boletos el sábado y 27,890 el domingo. ¿Cuántos boletos se vendieron en total?



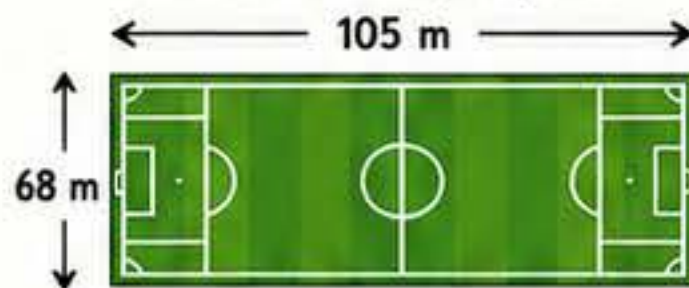
## 8. FRACCIONES FUTBOLERAS

Escribe la fracción que representa la parte coloreada.



## 9. MEDIDAS EN LA CANCHA

Observa la cancha y responde.



¿Cuántos metros más larga que ancha tiene la cancha?

## 10. PATRONES DE BALÓN

Completa el patrón.



## 11. CÁLCULO RÁPIDO

Resuelve las operaciones.

- $78 + 46 = \square$
- $93 - 27 = \square$
- $54 \times 6 = \square$
- $84 \div 7 = \square$
- $65 + 38 = \square$
- $9 \times 7 = \square$

## 12. DESAFÍO FINAL

Resuelve y descubre el campeón matemático.

- $(52 + 28) \times 2 = \square$
- $180 - (56 + 34) = \square$
- $(7 \times 8) + (9 \times 4) = \square$



ESTE ÁLBUM PERTENECE A:



¡CADA CÁLCULO TE ACERCA A LA VICTORIA!

EN LA CANCHA Y EN LA VIDA, LAS MATEMÁTICAS TE HACEN GANADOR.

# ACTIVIDADES MATEMÁTICAS MUNDIAL 2026

Las matemáticas nos ayudan a jugar mejor en la vida: pensamos, decidimos y llegamos más lejos.

¡PIENSA, CALCULA Y GANA!

## 1. NÚMEROS MUNDIALISTAS

Escribe cómo se leen los siguientes números.

- ⚽ 2,527 \_\_\_\_\_
- ⚽ 7,864 \_\_\_\_\_
- ⚽ 1,035 \_\_\_\_\_
- ⚽ 58,320 \_\_\_\_\_
- ⚽ 9,718 \_\_\_\_\_

## 2. SUMA DE GOLES

Suma los goles de cada partido.

-   $6 + 5 = \square$
-   $9 + 7 = \square$
-   $3 + 9 = \square$
-   $8 + 6 = \square$
-   $7 + 4 = \square$

## 3. RESTA EN LA CANCHA

Resta y encuentra cuántos goles faltan.

-   $- 2 = \square$
-   $- 3 = \square$
-   $- 1 = \square$
-   $- 4 = \square$
-   $- 6 = \square$

## 4. MULTIPLICA COMO CAMPEÓN

Resuelve las multiplicaciones.

-   $4 \times 5 = \square$
-   $7 \times 3 = \square$
-   $8 \times 4 = \square$
-   $6 \times 7 = \square$
-   $9 \times 6 = \square$

## 5. TABLA DE POSICIONES

Completa la tabla.

EQUIPO	PJ	PG	PE	PP	PUNTOS
LEONES	12	7	3	2	_____
PUMAS	12	6	4	2	_____
ÁGUILAS	12	5	4	3	_____
HALCONES	12	4	3	5	_____

PUNTOS =  $(PG \times 3) + (PE \times 1)$

## 6. SECUENCIAS NUMÉRICAS

Completa las secuencias.

- 120 160 200  280
- 7 14 21  35
- 1000 850 700  400

## 7. PROBLEMAS DE ESTADIO

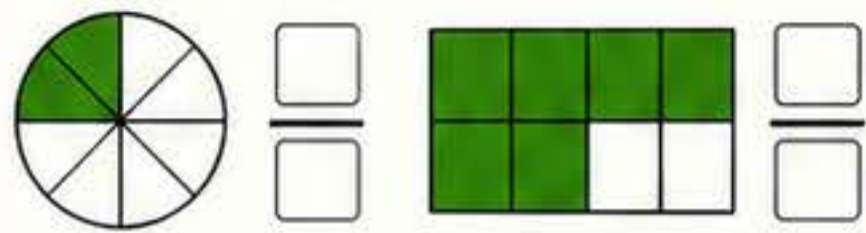
★ En el estadio hay 42,300 espectadores. Si se van 17,850, ¿cuántos quedan?

★ Se vendieron 23,740 boletos el sábado y 19,950 el domingo. ¿Cuántos boletos se vendieron en total?



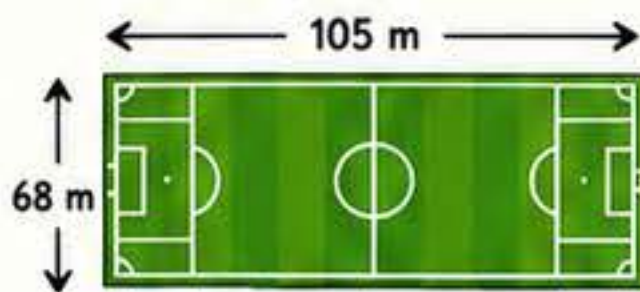
## 8. FRACCIONES FUTBOLERAS

Escribe la fracción que representa la parte coloreada.



## 9. MEDIDAS EN LA CANCHA

Observa y responde.



¿Cuántos metros más largo que ancho tiene la cancha?

## 10. PATRONES DE BALÓN

Completa el patrón.



## 11. CÁLCULO RÁPIDO

Resuelve las operaciones.

- $72 \div 6 = \square$
- $65 + 28 = \square$
- $45 \times 3 = \square$
- $96 - 48 = \square$
- $8 \times 9 = \square$

## 12. DESAFÍO FINAL

Resuelve y descubre el campeón matemático.

- $(45 + 27) \times 2 = \square$
- $120 - (35 + 25) = \square$
- $(6 \times 5) + (8 \times 4) = \square$

ESTE ÁLBUM PERTENECE A:

¡CADA CÁLCULO TE ACERCA A LA VICTORIA!

EN LA CANCHA Y EN LA VIDA, LAS MATEMÁTICAS TE HACEN GANADOR.

# ACTIVIDADES MATEMÁTICAS MUNDIAL 2026

Las matemáticas nos ayudan a pensar mejor, a tomar buenas decisiones y a alcanzar nuestras metas.



¡PIENSA, CALCULA Y GANA!

## 1. NÚMEROS MUNDIALISTAS



Escribe cómo se leen los siguientes números.

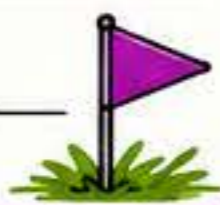
5,328 \_\_\_\_\_

17,654 \_\_\_\_\_

29,831 \_\_\_\_\_

64,703 \_\_\_\_\_

88,219 \_\_\_\_\_



## 2. SUMA DE GOLES

Suma los goles de cada partido.



15 9 + 6 =

8 7 + 9 =

13 6 + 8 =

11 4 + 7 =

17 5 + 8 =

## 3. RESTA EN LA CANCHA

Resta y encuentra cuántos goles faltan.



5 soccer balls - 2 =

6 soccer balls - 4 =

4 soccer balls - 1 =

5 soccer balls - 3 =

6 soccer balls - 6 =

## 4. MULTIPLICA COMO CAMPEÓN

Resuelve las multiplicaciones.



3 x 6 =

7 x 4 =

8 x 3 =

6 x 9 =

5 x 7 =



## 5. TABLA DE POSICIONES

Completa la tabla.

EQUIPO	PJ	PG	PE	PP	PUNTOS
DRAGONES	18	11	4	3	_____
TIBURONES	18	9	5	4	_____
LEONES	18	8	6	4	_____
PUMAS	18	7	4	7	_____

PUNTOS = (PG x 3) + (PE x 1)

## 6. SECUENCIAS NUMÉRICAS

Completa las secuencias.

150 300 450  750

2 5 8  14

900 800 700  500

## 7. PROBLEMAS DE ESTADIO

En el estadio hay 48,620 espectadores. Si se van 16,245, ¿cuántos quedan?

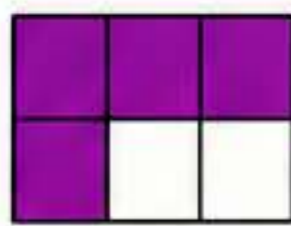
Se vendieron 22,780 camisetas el sábado y 19,695 el domingo. ¿Cuántas camisetas se vendieron en total?



## 8. FRACCIONES FUTBOLERAS

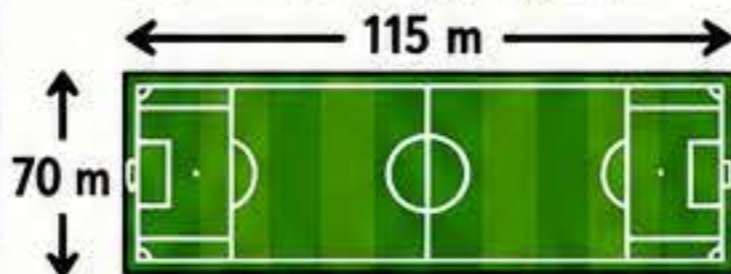
Escribe la fracción que representa la parte coloreada.


## 9. MEDIDAS EN LA CANCHA

Observa la cancha y responde.



¿Cuántos metros más larga que ancha tiene la cancha?

## 10. PATRONES DE BALÓN

Completa el patrón.



## 11. CÁLCULO RÁPIDO

Resuelve las operaciones.

72 + 28 =

63 ÷ 7 =

95 - 36 =

81 - 27 =

48 x 2 =

9 x 8 =

## 12. DESAFÍO FINAL

Resuelve y descubre el campeón matemático.

(36 + 24) x 2 =

150 - (45 + 25) =

(8 x 6) + (7 x 5) =



ESTE ÁLBUM PERTENECE A:



EN LA CANCHA Y EN LA VIDA, ¡LAS MATEMÁTICAS TE HACEN GANADOR!



Las matemáticas nos ayudan a jugar mejor en la vida: pensamos, decidimos y llegamos más lejos.

# ACTIVIDADES MATEMÁTICAS MUNDIAL 2026

¡PIENSA, CALCULA Y GANA!



## 1. NÚMEROS MUNDIALISTAS



Escribe cómo se leen los siguientes números.

- ⚽ 2,856 \_\_\_\_\_
- ⚽ 13,409 \_\_\_\_\_
- ⚽ 24,765 \_\_\_\_\_
- ⚽ 57,892 \_\_\_\_\_
- ⚽ 81,234 \_\_\_\_\_

## 2. SUMA DE GOLES

Suma los goles de cada partido.



- 12 9 + 8 =
- 14 7 + 6 =
- 16 8 + 5 =
- 11 6 + 9 =
- 13 4 + 7 =

## 3. RESTA EN LA CANCHA

Resta y encuentra cuántos goles faltan.



- ⚽⚽⚽⚽ - 2 =
- ⚽⚽⚽⚽ - 4 =
- ⚽⚽⚽⚽ - 3 =
- ⚽⚽⚽⚽ - 1 =
- ⚽⚽⚽⚽ - 5 =

## 4. MULTIPLICA COMO CAMPEÓN

Resuelve las multiplicaciones.

- 6 8 x 7 =
- 8 8 x 4 =
- 9 9 x 3 =
- 5 5 x 9 =
- 7 7 x 6 =

## 5. TABLA DE POSICIONES

Completa la tabla.

EQUIPO	PJ	PG	PE	PP	PUNTOS
TOROS	20	12	4	4	_____
ÁGUILAS	20	11	5	4	_____
RAYOS	20	9	6	5	_____
HALCONES	20	7	5	8	_____

⚽ PUNTOS = (PG x 3) + (PE x 1)

## 6. SECUENCIAS NUMÉRICAS

Completa las secuencias.

- 200 400 600  1000
- 3 6 9  15
- 1000 800 600  200

## 7. PROBLEMAS DE ESTADIO

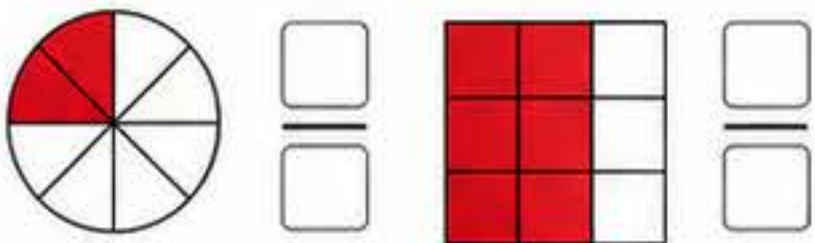
★ En el estadio hay 62,450 espectadores. Si se van 18,230, ¿cuántos espectadores quedan?

★ Se vendieron 29,670 entradas el sábado y 24,310 el domingo. ¿Cuántas entradas se vendieron en total?



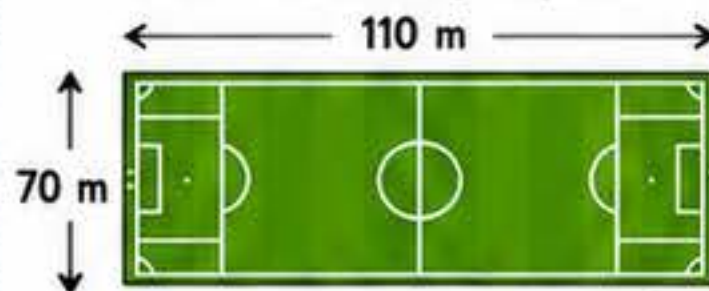
## 8. FRACCIONES FUTBOLERAS

Escribe la fracción que representa la parte coloreada.



## 9. MEDIDAS EN LA CANCHA

Observa la cancha y responde.



¿Cuántos metros más larga que ancha tiene la cancha?

## 10. PATRONES DE BALÓN

Completa el patrón.



## 11. CÁLCULO RÁPIDO

Resuelve las operaciones.

- 45 + 36 =
- 78 - 29 =
- 63 + 27 =
- 96 ÷ 8 =
- 81 - 37 =
- 7 x 9 =

## 12. DESAFÍO FINAL

Resuelve y descubre el campeón matemático.

- (34 + 26) x 2 =
- 170 - (38 + 42) =
- (6 x 7) + (8 x 3) =



ESTE ÁLBUM PERTENECE A:

¡CADA CÁLCULO TE ACERCA A LA VICTORIA!

EN LA CANCHA Y EN LA VIDA, LAS MATEMÁTICAS TE HACEN

**GANADOR.**

