




PROBLEMAS MATEMÁTICOS

Lee, piensa y resuelve.



1 María tiene 7 manzanas y su hermano le da 3 más. ¿Cuántas manzanas tiene ahora María?



Operación:

Respuesta: _____


2 En la clase hay 5 niños y llegan 4 niños más. ¿Cuántos niños hay en total?



Operación:

Respuesta: _____


3 Lucas tenía 9 lápices y regaló 2 a su amigo. ¿Cuántos lápices le quedan?



Operación:

Respuesta: _____

4 En la granja hay 6 gallinas y 3 patos. ¿Cuántos animales hay en total?



Operación:

Respuesta: _____



Recuerda: Lee bien el problema, piensa qué operación usar y no olvides escribir tu respuesta.






PROBLEMAS MATEMÁTICOS

Lee, piensa y resuelve.



1 En la biblioteca había 10 libros y trajeron 6 libros más.
¿Cuántos libros hay ahora?



Operación:

Respuesta: _____


2 Sara tenía 15 caramelos y se comió 7. ¿Cuántos caramelos le quedan?



Operación:

Respuesta: _____

3 En la granja hay 9 vacas y 5 ovejas.
¿Cuántos animales hay en total?



Operación:

Respuesta: _____

4 Luis tenía 14 pegatinas y le dio 6 a su amigo.
¿Cuántas pegatinas le quedan?



Operación:

Respuesta: _____



Recuerda: Lee bien el problema, piensa qué operación usar y no olvides escribir tu respuesta.






PROBLEMAS MATEMÁTICOS



Lee, piensa y resuelve.

1 Ana tenía 8 flores y su mamá le regaló 5 más. ¿Cuántas flores tiene ahora Ana?



Operación:

Respuesta: _____


2 En el parque había 7 columpios y instalaron 3 más. ¿Cuántos columpios hay ahora en total?



Operación:

Respuesta: _____


3 Pedro tenía 12 canicas y perdió 4 jugando. ¿Cuántas canicas le quedan?



Operación:

Respuesta: _____

4 En la fiesta había 6 globos rojos y 4 globos azules. ¿Cuántos globos hay en total?



Operación:

Respuesta: _____



Recuerda: Lee bien el problema, piensa qué operación usar y no olvides escribir tu respuesta.





PROBLEMAS MATEMÁTICOS

Lee, piensa y resuelve.




1 Clara tenía 9 globos y se le volaron 4. ¿Cuántos globos le quedan?



Operación:

Respuesta: _____

2 En la caja hay 8 lápices y mamá puso 5 lápices más. ¿Cuántos lápices hay ahora?



Operación:

Respuesta: _____


3 Había 13 galletas en el plato y me comí 6. ¿Cuántas galletas quedan?



Operación:

Respuesta: _____

4 En el corral hay 7 conejos y 5 gallinas. ¿Cuántos animales hay en total?



Operación:

Respuesta: _____



Recuerda: Lee bien el problema, piensa qué operación usar y no olvides escribir tu respuesta.

