

NOMBRE: _____

EMOCIONES

PEGA LOS EMOJIS DONDE CORRESPONDA.

@msc.herrera



ALEGRIA	TRISTEZA
MOLESTO	MIEDO



NOMBRE: _____

COMPLETA CON LAS VOCALES,
LUEGO ESCRIBE LOS NÚMEROS CON LETRAS.

NÚMEROS

1

_ N _

2

D _ S

3

TR _ S

4

C _ _ TR _

5

C _ NC _

6

S _ _ S

7

S _ _ T _

8

_ CH _

9

N _ _ V _

10

D _ _ Z



@msc.herrera

5 0 4 7



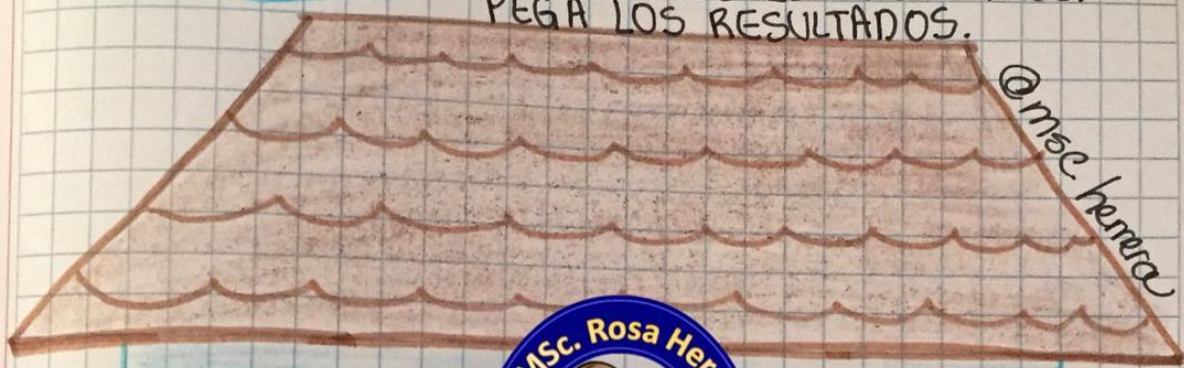
/ /

NOMBRE:

RESTAS

RESUELVE LOS EJERCICIOS. Y PEGA LOS RESULTADOS.

@msc.herrera



$$7 - 2 =$$



$$8 - 3 =$$

$$2 - 2 =$$

$$4 - 3 =$$

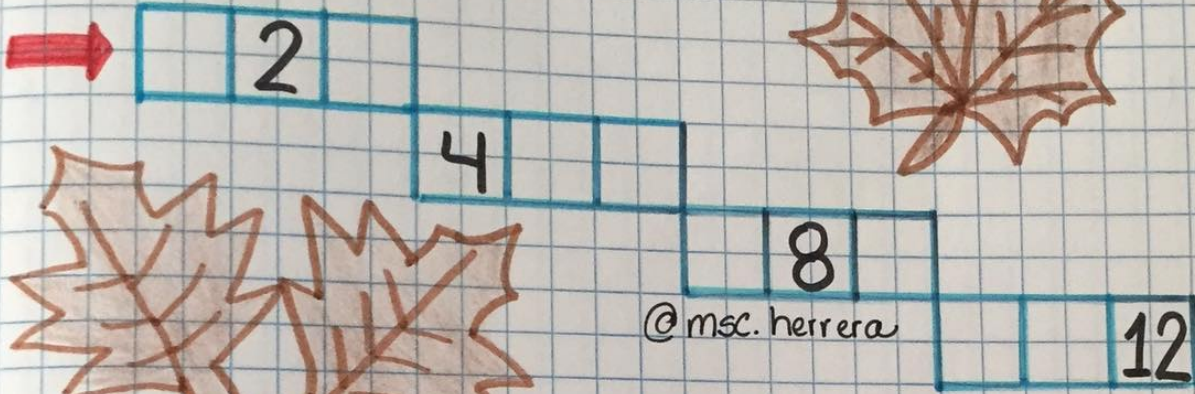
$$6 - 2 =$$



NOMBRE: _____

SUMAS

COMPLETA LA SERIE.



RESUELVE LAS SUMAS.

$4 + 3 = \square$

$6 + 2 = \square$

$2 + 4 = \square$

$9 + 1 = \square$

$4 + 1 = \square$



$3 + 3 = \square$



NOMBRE: _____

COORDINACIÓN MOTORA


AYUDA A LOS ANIMALES A LLEGAR AL LAGO.




NOMBRE: _____

COORDINACIÓN MOTORA

UNE CADA ANIMAL CON SU FLOR.




© msc.herrera



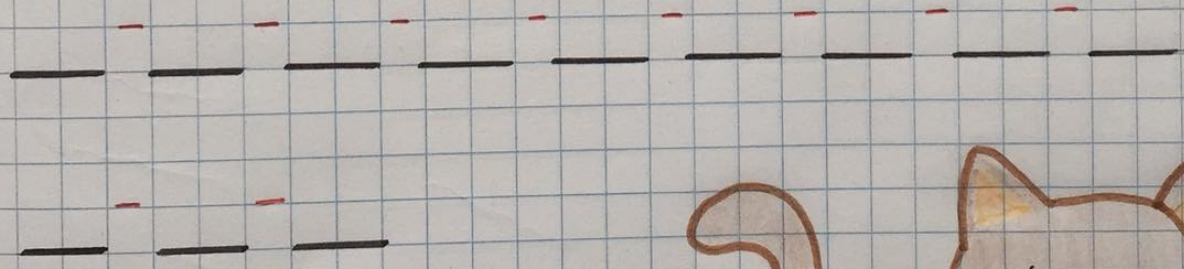
NOMBRE: _____

SERIE NUMÉRICA

UNE LOS NÚMEROS DEL 1 AL 12 DE ACUERDO A LA SECUENCIA.



COPIA LOS NÚMEROS DEL 1 AL 12.




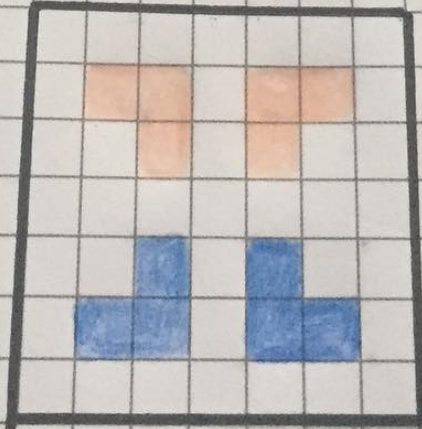
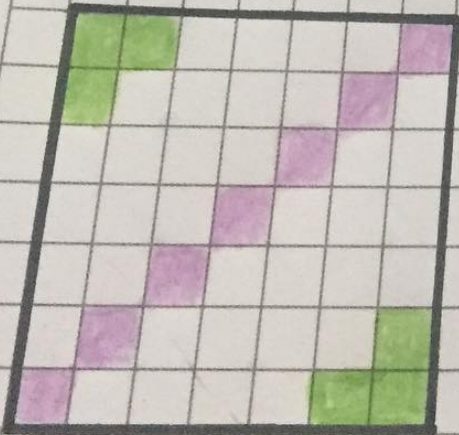
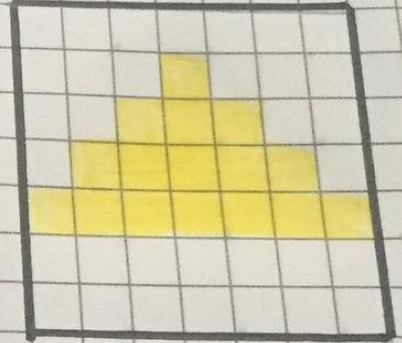
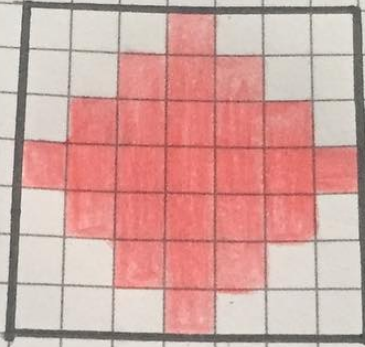
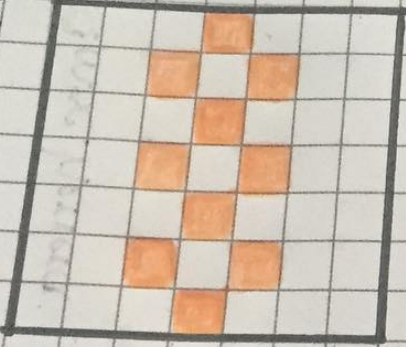
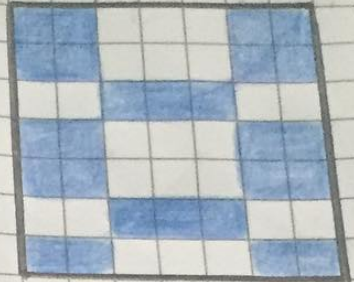

Copia de Patrones

The image shows a 5x3 grid of dot patterns on graph paper. Each pattern is a closed shape drawn with colored lines connecting the dots. The patterns are:




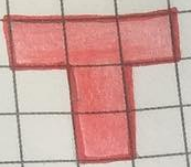


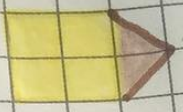
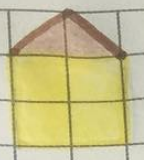
- Row 1: Purple square, Brown house-like shape, Pink square with diagonal lines.
- Row 2: Orange square with internal lines, Green zig-zag shape, Yellow square with internal lines.
- Row 3: Blue zig-zag shape, Green zig-zag shape, Orange square with internal lines.

@msc.herrera



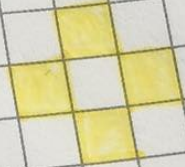
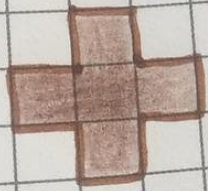
Ejercicios de Atención



@msc.herrera








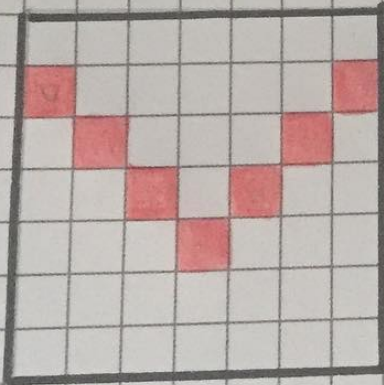

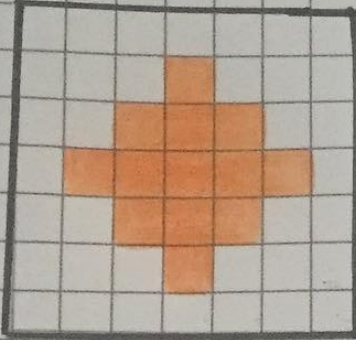
@msc.herrera



Fecha: ___ / ___ / ___

Ejercicios de Atención



Colorea igual al modelo.



Nombre: _____

Abecedario

Colorea siguiendo la clave de color



@msc.herrera



Nombre: _____



Abecedario

Repasa:

A B C D E F G

H I J K L M N

Ñ O P Q R S T

U V W X Y Z

Observa la letra que se encuentra en el centro de la figura y escribe la anterior y posterior.

— M —

— X —

— G —

— O —

— D —


— U —

— J —

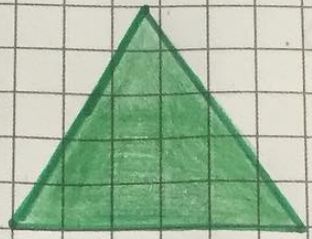
@mhc.herrera



Figuras Geométricas



Círculo



Triángulo



Cuadrado



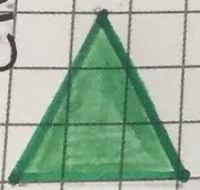
Rectángulo

Une:

Emsherrera



• Círculo



• Rectángulo







• Cuadrado





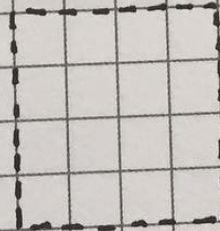





• Triángulo

Figuras Geométricas

Delinea las figuras siguiendo la clave de Color:



@msc.herrera



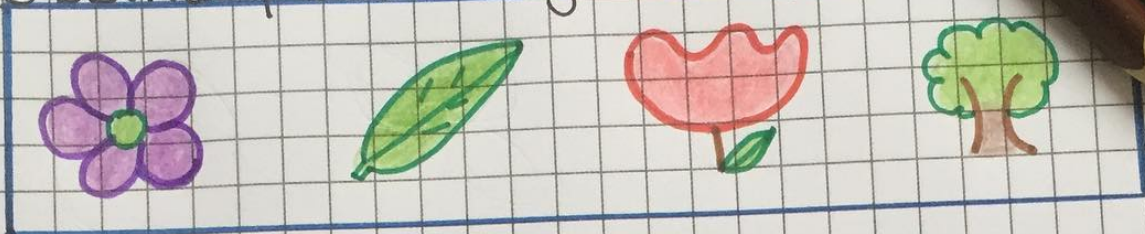
Fecha: ___ / ___ / ___

Nombre: _____

Fecha: _____

Clasificación

Observa y Colorea según Corresponda.



@mscherreria

















Fecha: ___ / ___ / ___

Fecha:

Seriación

Nombre:

Continúa las series.



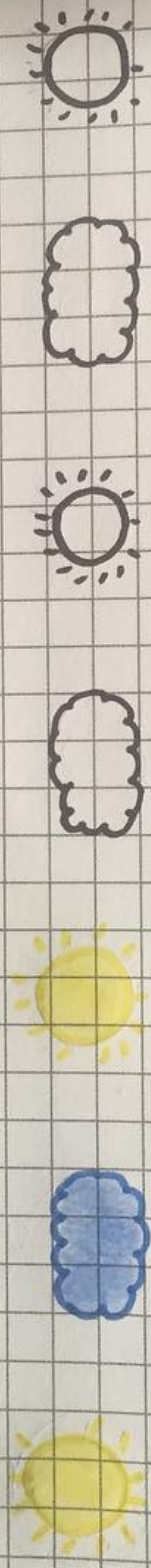
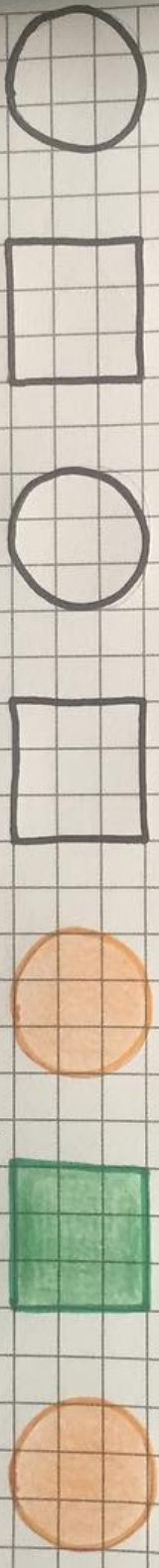
				
				
				
				

Fecha:

Seriación

Colorea y completa las series.

Nombre:



@msc.herrera

Nombre:

Fecha:

Clasificación

Pega las figuras donde corresponda.

Círculos

Triángulos

Rectángulos

Cuadrados

@msc.herrera

Fecha: ___ / ___ / ___




Nombre: _____


Fecha: _____

Ejercicios de Atención

Colorea igual al modelo.



@msc.herrera






Nombre:




Ejercicios de Atención

Observa el patrón y resuelve las restas.





 -  -  =



 -  -  =



 -  -  =


@ msc. herrera

 -  =

 -  =

 -  =

 -  =



Nombre:

Ejercicios de Atención

Escribe las letras de acuerdo al color correspondiente.


A

B

C

D

@ msc. herrera



Nombre:

Ejercicios de Atención

Colorea siguiendo la clave de color.

1

2

3

4

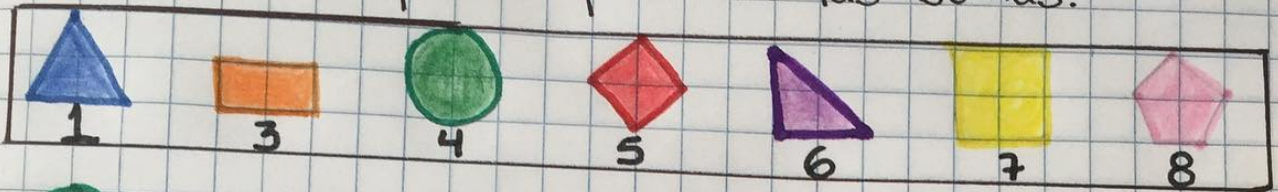
@msc.herrera

4	2	1	2	3	2	1	4	2	1
3	4	2	1	3	1	2	4	2	3
1	2	4	3	2	4	1	3	2	4
2	1	2	1	3	1	4	2	3	2
1	3	3	4	1	4	2	3	1	4
2	3	4	1	2	1	3	2	4	2
4	2	1	3	1	2	4	1	2	3
2	1	3	4	2	1	3	4	3	2
1	2	4	2	1	3	4	3	2	1
4	3	2	4	3	1	2	4	1	3

Nombre:

Ejercicios de Atención

Observa el patrón y resuelve las sumas:



$$\text{4} + \text{6} + \text{3} = \boxed{}$$

$$\text{1} + \text{7} + \text{7} = \boxed{}$$

@msc.herrera


$$\text{6} + \text{5} + \text{4} = \boxed{}$$

$$\text{8} + \text{3} + \text{1} = \boxed{}$$

$$\text{7} + \text{5} + \text{3} = \boxed{}$$

$$\text{1} + \text{1} + \text{6} = \boxed{}$$

$$\text{3} + \text{4} + \text{8} = \boxed{}$$



Nombre: _____

Ejercicios Matemáticos

Suma o resta y encuentra la figura oculta.

	1	2	3	4	5	6	7	8	9	10
11	•	•	•	•	•	•	•	•	•	•
21	•	•	•	•	•	•	•	•	•	•
31	•	•	•	•	•	•	•	•	•	•
41	•	●	•	•	•	•	●	•	•	•
51	•	•	•	•	•	•	•	•	•	•
61	•	•	•	—	—	•	•	•	•	•
71	•	•	•	•	•	•	•	•	•	•
81	•	•	•	•	•	•	•	•	•	•
91	•	•	•	•	•	•	•	•	•	•

● (filled circle) — (horizontal line) (curved lines)

@mce.herrera

- | | | |
|-----------------|-----------------|-----------------|
| 1) $30 + 16 =$ | 8) $80 + 3 =$ | 15) $60 - 1 =$ |
| 2) $50 - 1 =$ | 9) $30 + 21 =$ | 16) $40 - 1 =$ |
| 3) $40 - 2 =$ | 10) $40 + 1 =$ | 17) $10 - 2 =$ |
| 4) $20 + 17 =$ | 11) $45 - 1 =$ | 18) $29 - 2 =$ |
| 5) $40 + 6 =$ | 12) $50 + 14 =$ | 19) $12 + 11 =$ |
| 6) $50 + 16 =$ | 13) $80 + 6 =$ | 20) $10 - 8 =$ |
| 7) $85 - 1 =$ | 14) $80 + 7 =$ | 21) $35 - 4 =$ |
| 22) $20 + 21 =$ | 23) $22 + 10 =$ | 24) $35 - 2 =$ |
| 25) $45 - 1 =$ | | |

Nombre:

Ejercicios Matemáticos

Suma o resta y encuentra la figura oculta.

	1	2	3	4	5	6	7	8	9	10
11	•	•	•	•	•	•	•	•	•	•
21	•	•	•	•	•	•	•	•	•	•
31	•	•	•	•	•	•	•	•	•	•
41	•	•	•	•	•	•	•	•	•	50
51	•	•	•	•	•	•	•	•	•	•
61	•	•	•	•	•	•	•	•	•	•
71	•	•	•	•	•	•	•	•	•	•
81	•	•	•	•	•	•	•	•	•	•
91	•	•	•	•	•	•	•	•	•	100

1) $11 + 11 =$ 8) $30 + 16 =$ 15) $16 + 10 =$

2) $25 + 5 =$ 9) $70 + 15 =$ 16) $25 + 10 =$

3) $40 + 9 =$ 10) $60 + 4 =$ 17) $30 + 13 =$

4) $20 + 17 =$ 11) $65 - 2 =$ 18) $18 + 4 =$

5) $70 - 1 =$ 12) $20 + 15 =$ 19) $20 - 7 =$

6) $60 + 8 =$ 13) $48 - 2 =$ 20) $16 + 10 =$

7) $85 + 2 =$ 14) $40 - 3 =$ 21) $20 - 1 =$









22) $25 + 5 =$





@msc.herrera





Nombre: _____

Mensajes Secretos





Observa la clave y descubre las palabras ocultas, luego dibuja y colorea cada palabra encontrada.





							
C	S	A	O	L	P	U	I

@msc.herrera


			

Nombre: _____

___ / ___ / ___

Lateralidad

Colorea las manos según su dirección: derecha.
izquierda.



@msc.herrera





Nombre: _____

___ / ___ / ___

Discriminación Visual

b/d

Observa las manos y luego escribe la letra b/d donde corresponda.



Rimas

Colorea del mismo color cada par de palabras que riman.

Mesa

Rama

Estrella


Botella

Niña

Fresa

Piña

Cama



Nombre:

Ejercicio de atención

Escucha e indica las siguientes cantidades al inverso.

Cantidad	Respuestas
1 2	
2 8	
3 5	
4 2	
1 2 8	
6 2 1	
7 8 2	
2 4 3	
1 2 1 5	
2 8 7 5	
4 5 6 8	
3 2 1 5	

@msc.herrera













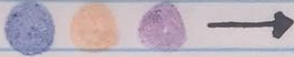
Nombre:

Silabas Simples

Observa la clave de color y forma palabras de acuerdo a lo propuesto.

@msc.herrera


 ma	 pa	 da	 lo	 ca	 sa	 li	 po	 do
--	--	--	--	--	--	--	--	--



ecolutions


Nombre: _____

Pega los stickers en los espacios en blanco.



Nombre: _____


Pega los stickers en los espacios en blanco.



@msc.herrera

Nombre: _____

Pega los stickers en los espacios en blanco.



@msc.herrera

Nombre: _____

Atención

Agrupar las estrellas de tres en tres lo más rápido que puedas. Tendrás 30 segundos para ello.



@msc.herrera

¡Ahora!

Cuenta: ¿cuántos grupos de estrellas hay en total?

¿Cuántas estrellas hay en total?

¿Cuántas estrellas quedan sin agrupar?

Nombre: _____

Números

Ayuda al caballo a encontrar su comida, lanza el dado y recorre el camino según la cantidad que salga.
En cada casilla escribe el nombre del número señalado en el dado.



@msc.herrera

Rodea la imagen diferente.




@msc.herrera

Rodea la imagen diferente.



@msc.herrera

Rodea la imagen diferente.

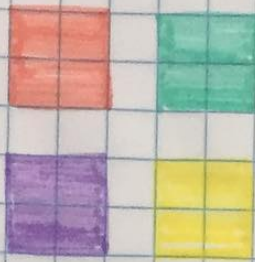


@msc.herrera




Atención

Rodea los patrones iguales al modelo.





@msc. herrero



Nombre:

Atención

Colorea igual al modelo.




NOMBRE: _____


POP IT

RESUELVE LAS RESTAS UTILIZANDO EL POP IT.
OBSERVA EL EJEMPLO.


$5 - 3 = \underline{2}$



$8 - 4 = \underline{\quad}$




$10 - 8 = \underline{\quad}$




$6 - 2 = \underline{\quad}$




$4 - 2 = \underline{\quad}$




$5 - 1 = \underline{\quad}$




$9 - 3 = \underline{\quad}$



$7 - 6 = \underline{\quad}$




$2 - 0 = \underline{\quad}$



NOMBRE:

SERIE NUMÉRICA

PEGA LOS STICKERS EN ORDEN DEL 1 AL 29.



@msc.herrera



NOMBRE: _____

FECHA: _____



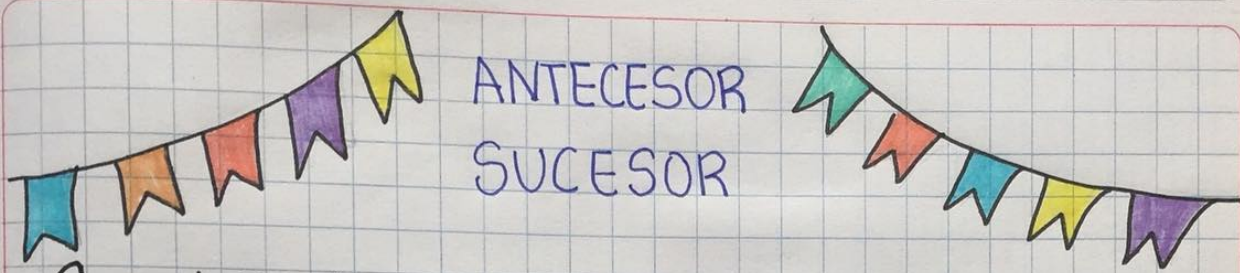
NÚMERO 18

ARMA EL GUSANO ARMANDO LA SERIE DEL 1 AL 18.



@msc.herrera

NOMBRE: _____



Completa la serie.


0 - - - 3 - - 5 - - - - -
9 - 10 - - - - - 14 - - - - 17 -
18 - - - 20 - - - 22 - - 24 - - - -
- - - 29 - - -

Escribe el número antecesor y sucesor.

- 14 - - 20 -
 - 5 - - 12 -
 - 29 - - 17 -



@msc.herrera





LATERALIDAD

Colorea el círculo que está a su derecha.



Colorea el círculo que está a su izquierda.



Colorea el círculo que está a su izquierda.



Colorea el círculo que está a su derecha.



@msc.herrera

Nombre: _____

RELOJ

¿Qué hora es? Une según corresponda.

5:05

Once y quince

11:15

Diez y veinte

12:25

Cinco y cinco

10:20

Doce y venticinco

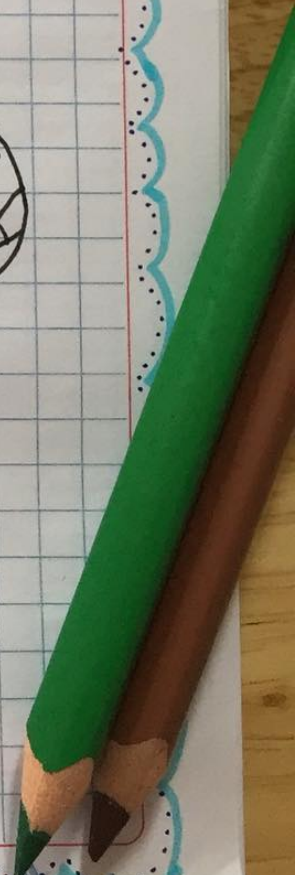

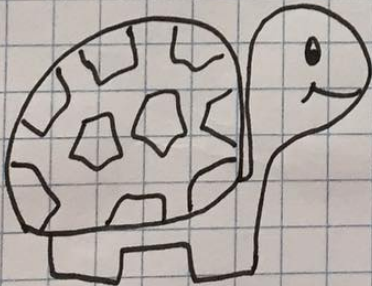
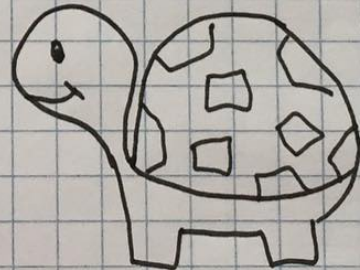

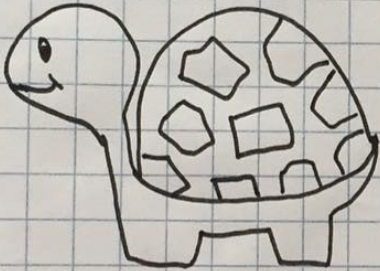


@msc.herrera



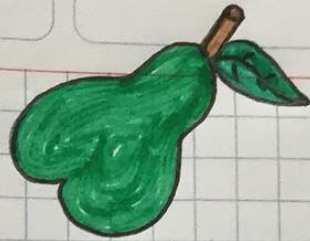
Nombre: _____

Lateralidad

Colorea las Tortugas según su posición: derecha - izquierda.




Problemas de Matemáticas



1. En la nevera de Lucia hay 12 fresas y 15 peras.
¿Cuántas frutas hay en total?

D	U

En la nevera hay un total de _____ frutas.



2. En un estacionamiento hay 14 motos. Han llegado 8 más. ¿Cuántas motos hay ahora?

D	U

En el estacionamiento hay un total de _____ motos.


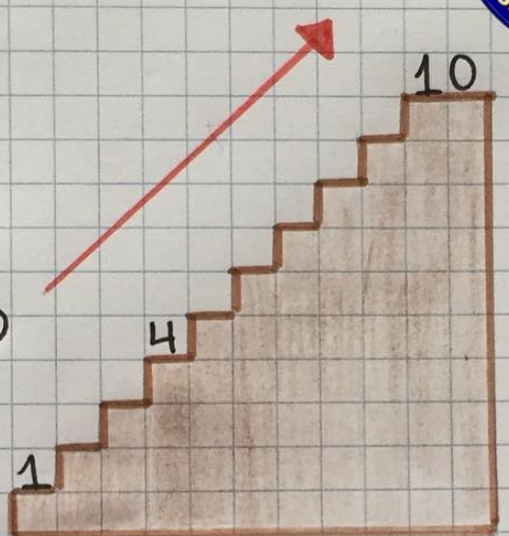


@mse.herrera



Números
Ascendentes / Descendentes

Completa según corresponda.



@msc.herrera



Nombre: _____

RESTAS



Resuelve.

D	U
1	8
1	3


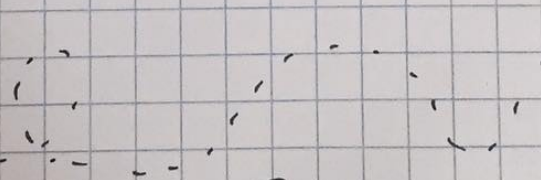
D	U
3	1
2	0

D	U
2	8
1	2

D	U
2	9
1	8

D	U
1	5
	2

D	U
2	6
1	3

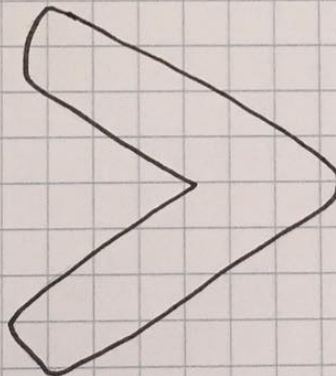



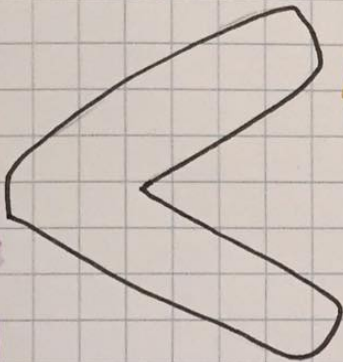


Rosa Herrera

Nombre: _____

Mayor-Menor-Igual

Colorea los signos siguiendo la clave de color.



@msc.herrera

Coloca los signos ">" "<" o "=" según corresponda.

$6 \square 8$

$4 \square 5$

$8 \square 8$


$5 \square 5$

$7 \square 6$

$3 \square 1$

Nombre: _____

Problemas de Matemáticas



1. En la fiesta de César colocaron 16 globos de color rojo y 12 globos de color amarillo. ¿Cuántos globos hay en total?

D	U

En la fiesta hay _____ globos.

2. En la refrigeradora hay 15 helados de fresa y 4 de chocolate. ¿Cuántos helados hay en total?



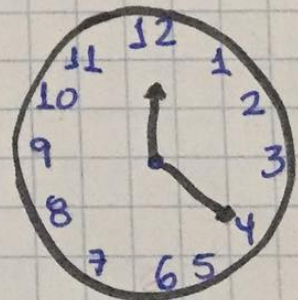

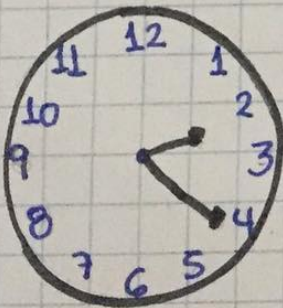
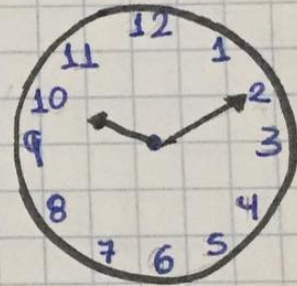
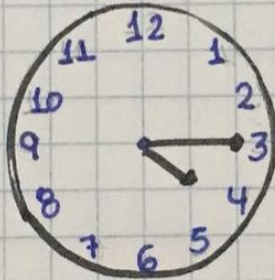
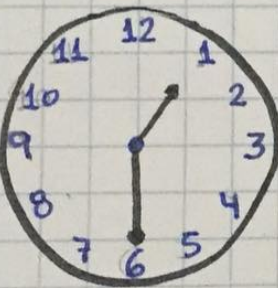
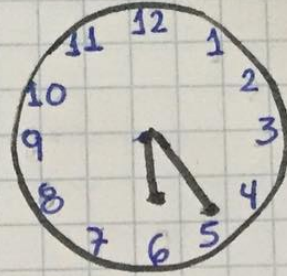
D	U

En la refrigeradora hay _____ helados.

Nombre: _____

RELOJ

Escribe la hora que indica cada reloj.



Nombre: _____

RELOJ

Une según corresponda.

