



EXAMEN TRIMESTRE II



4º

DICIEMBRE-FEBRERO

Escuela:

Nombre:

Grado:

Grupo:

Fecha:

Firma tutor:

**Campo
Formativo:**

Reactivos:

Puntos:

Lenguajes



20

Saberes y
pensamientos
científico



20

Ética, naturaleza
y sociedades



15

De lo humano
y lo comunitario



15

Total:

60

Observaciones:



Lunes 4 de marzo de 2024

1. Utiliza el recortable 1 y pega lo que se te indica.

Pega aquí

Forma de expresión artística en la que los actores representan personajes y situaciones frente a un público en un escenario. suelen incluir diálogos, música, baile y escenografía para contar una historia.

Pega aquí

Es una forma de teatro en la que los títeres son manipulados por debajo del escenario por un titiritero que no es visible para el público.

2. Colorea los recuadros que correspondan a las características del teatro guiñol:

Se interpreta la historia por medio de títeres.

Se realiza en un teatro con un amplio escenario.

Los actores se visten de acuerdo al personaje para realizar la obra.

Se realiza en un escenario pequeño conocido como teatrino.



3. Escribe el nombre que se le da a la persona que maneja los títeres:



4. Une con una línea de diferente color el concepto y la imagen que hace referencia al mismo.


Guion teatral



Personajes, Vestuario y Utilería



Escenario



5. Colorea el concepto que se define a continuación: Es una instrucción escrita dentro del guion que indica cómo deben ser realizadas ciertas acciones o movimientos por parte de los actores.

Acotaciones

Dialogo

Indicaciones



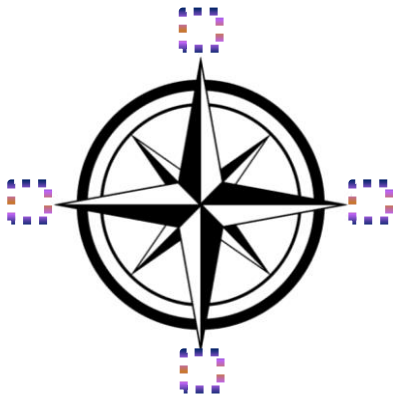


Lunes 4 de marzo de 2024

6. Encierra de **ROJO** la imagen que represente un croquis:



7. Escribe el nombre del siguiente símbolo.



8. Utiliza el recortable 2 y ordena de manera correcta los puntos cardinales en la figura anterior

9. Colorea del mismo color el concepto y la definición correspondiente a los tipos de preguntas.

Preguntas abiertas

Combinan elementos de las preguntas abiertas y cerradas.


Preguntas cerradas

Permiten respuestas específicas de "sí" o "no" o respuestas cortas.

Preguntas mixtas

Permiten respuestas extensas y detalladas.

10. Encierra de color **ROJO** la ilustración que hace referencia a una entrevista:





Lunes 4 de marzo de 2024

11. Utiliza el recortable 3 y pega el tipo de lenguaje más adecuado para cada situación.



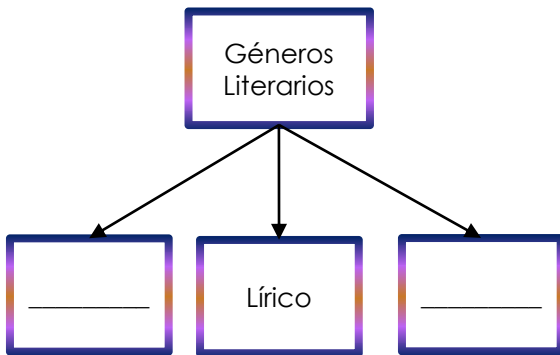
14. Escribe la interpretación de la siguiente metáfora:



El tiempo vuela

Quiere decir...

12. Completa el esquema escribiendo el nombre de los géneros literarios faltantes.



15. Colorea del mismo color el concepto y la definición de las figuras retóricas.

Rima

Fuerte como un león.

Símil

El viento suave sopla entre las ramas, y las hojas caen sobre las aguas claras

Reiteración

Me dijiste que no, me dijiste que nunca, me dijiste que jamás.

Aliteración

Tres tristes tigres tragaban trigo en un tremendo tragal.

13. Utiliza el recortable 4 y pega lo que se te indica.

Pega aquí

Es una composición literaria que se caracteriza por su estructura especial, el uso de lenguaje figurado y la expresión de emociones, ideas o experiencias del autor.





EXAMEN TRIMESTRE II

4°



Lenguajes

Lunes 4 de marzo de 2024

16. Colorea del mismo color el tipo de texto con su definición según corresponda.

Informativo

Son textos que te dan información, sin embargo, incluyen la opinión del autor quién trata de convencer al público.

Argumentativo

Son textos que te dan información sobre un tema específico. Puede ser sobre un animal, un lugar, un evento, o cualquier cosa que se quiera saber

17. Escribe como se les conoce a las personas que intervienen al realizar una entrevista.



18. Utiliza el recortable 5 y coloca el nombre de los símbolos.



¡Tú puedes lograrlo, sigue adelante!



PLANACIONES MAESTRO SAM





EXAMEN TRIMESTRE II

4º



Lenguajes

Lunes 4 de marzo de 2024

19. Colorea el concepto que se define a continuación: Es una forma de narración o informe en el cual se ahonda en un tema o suceso.

La entrevista

El cuento

El reportaje

20. Encierra las fuentes que puedes usar para consultar información.



Actívate




Observa el alfabeto de símbolos y debajo, escribe tu nombre completo:

a	b	c	d	e
f	g	h	i	j
k	l	m	n	o
p	q	r	s	t
u	v	w	x	y
z				



Colorea el teatro guiñol:



PLANACIONES SAM



MATERIA RECORTABLE

4°



Lenguajes

Lunes 4 de marzo de 2024

RECORTABLE 1: tipos de teatros.

Pega aquí



Pega aquí



RECORTABLE 2: puntos cardinales.

S

N

E

O

RECORTABLE 3: tipos de lenguajes.

Lenguaje Informal

Lenguaje Formal

RECORTABLE 4: el poema.

Pega aquí

FUERTES RAÍCES

Bajo el árbol de la amistad, nos encontramos,
ramas fuertes, lazos que el tiempo abraza.
Amigos sonrisas, secretos compartidos,
un lazo eterno que nada amenaza.

Conversaciones como hojas al viento,
risas que resuenan como melodía.
En la sombra fresca de este árbol,
nuestra amistad florece día tras día.

En los días soleados y en las tormentas,
juntos enfrentamos lo que venga.
La amistad, faro en la noche oscura,
una llama que siempre se enciende.

Mtro. Dam

Pega aquí

La araña Ana

A



@

La araña Ana se montó en un autobús.
Cuando miró por la ventana vio unas aletas
y le dijo al conductor que parara para
bajarse. Cagó las aletas y se fue a jugar a
la playa con sus aletas y unos aros, como
la araña no sabía nadar se empezó a
ahogar, justo cuando se estaba ahogando
llegó una lancha y la araña se subió.
Dentro había un anillo, el anillo era de una
avispa y como se mojó se puso negro. La
araña volvió a la playa, se subió a un árbol
y le dio el anillo a la avispa.

RECORTABLE 5: los símbolos.

AEROPUERTO

PARADA DE
AUTOBUS

GASOLINRA

ESTACIONAMIENTO

ARTESANÍAS

HOSPITAL



PLANACIONES SAM





Martes 5 de marzo de 2024

1. Con ayuda de tu regla mide el tamaño de los siguientes desplazamientos:



Desplazamiento: _____ cm



Desplazamiento: _____ cm



Desplazamiento: _____ cm

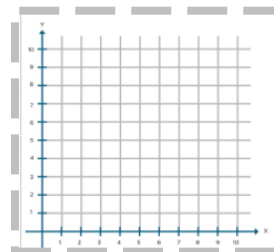
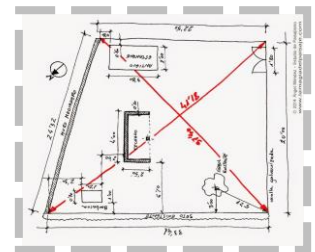


Desplazamiento: _____ cm

2. Completa con tus conocimientos los conceptos del recuadro.

Velocidad	VS	Rapidez
_____		_____
_____		_____
_____		_____
_____		_____
_____		_____
_____		_____

3. Encierra la imagen que represente el plano cartesiano.

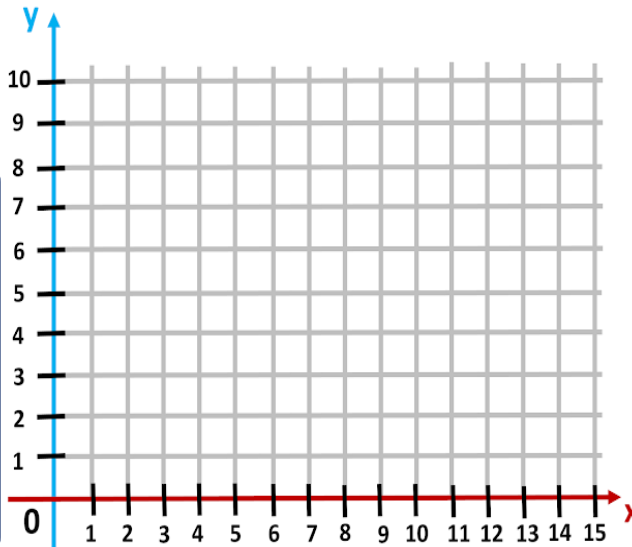




Martes 5 de marzo de 2024

4. Señala los siguientes puntos en el plano cartesiano y descubre la letra.

- (1,1) ● (5,5)
- (3,8) ● (1,10) ● (1,9)
- (9,10) ● (7,8)



5. Colorea el concepto que se define a continuación: Sirven para ubicar puntos específicos en el plano cartesiano, constan de dos números dentro de paréntesis.




Puntos Cardinales

Coordenadas

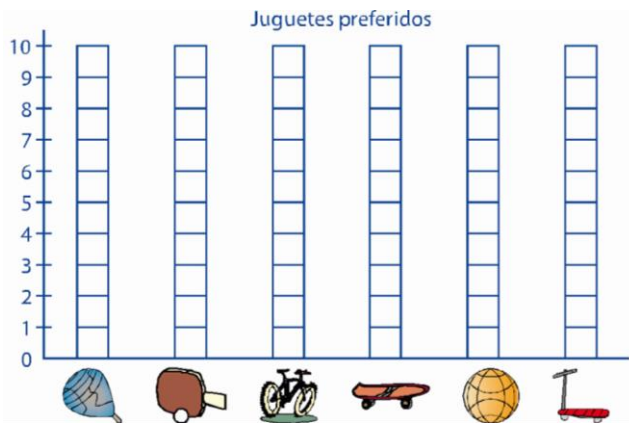
GPS

6. Cuenta los juguetes preferidos de los niños de 4to y regístralos en la tabla de frecuencia.




Juguete						
Conteo de palotes						
En números						

7. Completa la gráfica de barras con la ayuda de la tabla de frecuencias.



8. Realiza un dibujo de algún objeto que represente rectas paralelas.





EXAMEN TRIMESTRE II


4°



Saberes y pensamiento científico

Martes 5 de marzo de 2024

9. Realiza un dibujo de algún objeto que represente rectas perpendiculares.



12. Escribe los signos $>$ (mayor que), $<$ (menor que) y $=$ (igual que), según corresponda.

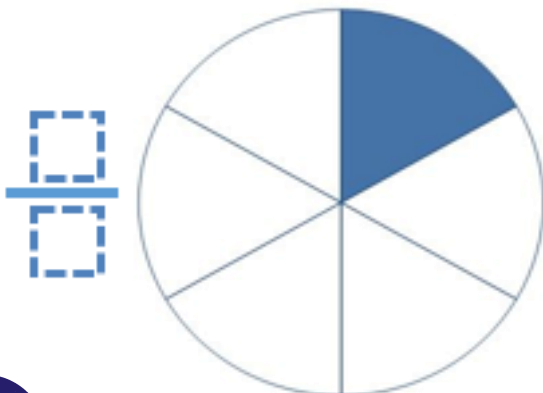
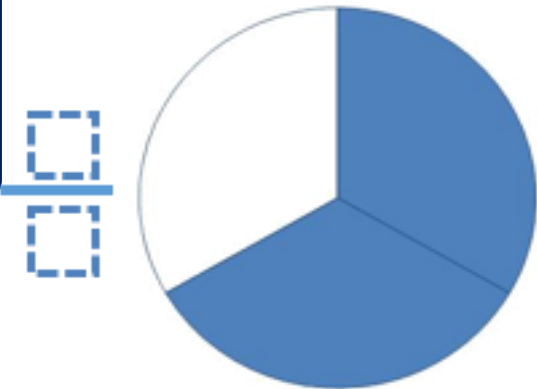
$$\frac{4}{9} \bigcirc \frac{7}{5}$$

$$\frac{7}{12} \bigcirc \frac{5}{8}$$

$$\frac{4}{9} \bigcirc \frac{8}{18}$$

$$\frac{3}{8} \bigcirc \frac{2}{7}$$

10. Escribe la fracción que representan los círculos:



13. Utiliza el material recortable 1 y coloca los sellos de advertencia al siguiente producto.



PLANEAÇÕES SAM





EXAMEN TRIMESTRE II

4°



Saberes y pensamiento científico


Martes 5 de marzo de 2024

9. Utiliza el recortable 2 y pega en el recuadro dos alimentos que contengan principalmente proteínas:

12. Utiliza el recortable 2 y pega en el recuadro dos alimentos que contengan principalmente grasas:

10. Utiliza el recortable 2 y pega en el recuadro dos alimentos que contengan principalmente carbohidratos:

13. Colorea los alimentos que sean saludables para los niños.



11. Utiliza el recortable 2 y pega en el recuadro dos alimentos que contengan principalmente vitaminas:



PLANEAIONES MAESTRO SAM





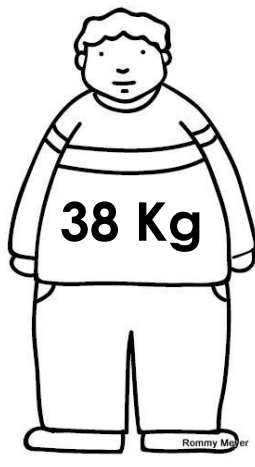
EXAMEN TRIMESTRE II

4º

Saberes y pensamiento científico

Martes 5 de marzo de 2024

14. José es un alumno de cuarto grado que lleva una dieta alta en grasas y azúcares, por lo que está preocupado por su condición de salud. Calcula su IMC para saber su nivel de masa corporal.



1.2M

El IMC de José es de

_____ por lo que él tiene

15. Escribe con tus propias palabras que es el sobrepeso:

Blank lines for writing the answer to question 15.

16. Completa el recuadro con las causas y consecuencias del sobrepeso.

Causas	Consecuencias

17. Colorea del mismo color el concepto con su definición según corresponda.

Área

Es la medida de la superficie dentro de una figura.

Perímetro

Es la medida total de la longitud de todos los lados de una figura.

Recuerda que para calcular el IMC usamos la siguiente fórmula:

$$\frac{\text{peso (kg)}}{\text{altura (m}^2\text{)}}$$

ÍNDICE DE MASA CORPORAL (IMC)	CLASIFICACIÓN
MENOR A 18.49	PESO BAJO
18.50 A 24.99	PESO NORMAL
25 A 29.99	SOBREPESO
30 A 34.99	OBESIDAD LEVE
35 A 39.99	OBESIDAD MEDIA
MAYOR A 40	OBESIDAD MÓRBIDA






EXAMEN TRIMESTRE II

4°

Saberes y pensamiento científico

Martes 5 de marzo de 2024

18. Remarca de **ROJO** el perímetro y pinta de **AZUL** el área de la siguiente figura:



18. Calcula el área y perímetro del siguiente cuadrado:


5 M



Actívate



Colorea y encuentra las 5 diferencias:



19. Utiliza el recortable 3 y clasifica en el lugar que corresponda.

4 Lados iguales

2 Lados grandes y 2 pequeños



¡Confía en ti mismo y nunca te rindas!





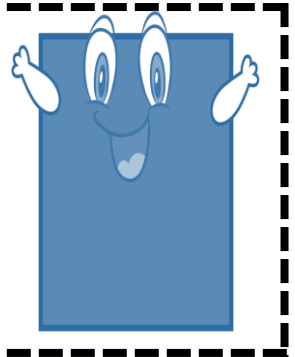

Saberes y pensamiento científico

Martes 5 de marzo de 2024

RECORTABLE 1: el nuevo etiquetado de alimentos.




RECORTABLE 3: paralelogramos.



RECORTABLE 2: los nutrientes.



PASATIEMPO: COLOREA.





Miércoles 6 de marzo de 2024

1. Colorea el concepto que se define a continuación: Es un trato desigual que puede causar daño y es contrario a la igualdad y el respeto por los derechos humanos.

Maltrato animal

Empatía

Discriminación

2. Une con una línea de diferente color según la imagen y el tipo de discriminación que se te presenta.



Discriminación por discapacidad



Discriminación por Religión



Discriminación por raza

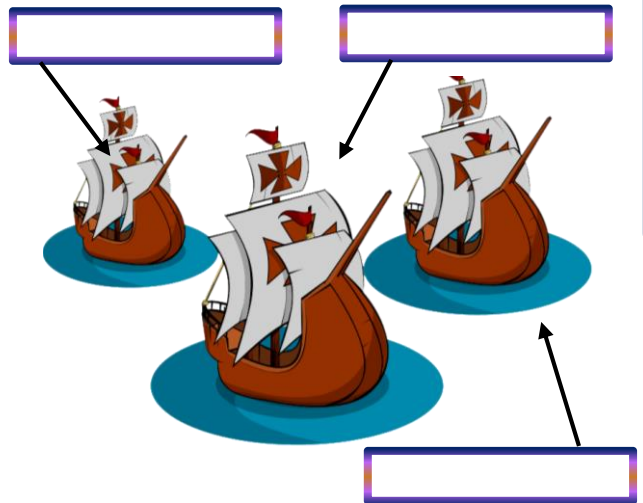


Discriminación por edad

3. Escribe la fecha del siguiente acontecimiento histórico:



4. Escribe los nombres de los barcos de Cristóbal Colon.



5. Utiliza el recortable 1 y pega en el lugar que corresponda:

Pega aquí

Persona que descubrió América a bordo de sus tres barcos.

Pega aquí

Persona que derrotó a los Mexicas y conquistó México.



6 Redacta con tus propias palabras la historia del viaje de Aztlán



7. Escribe en el espacio correspondiente la técnica de agricultura que se representa.




8. Escribe en el espacio correspondiente la técnica de agricultura que se representa.



9. Utiliza el recortable 2 y pega en el lugar que corresponda:

NÓMADA	SEDENTARIO





10. Así se le denominaba a la máxima autoridad mexicana.



Huey _____

Moctezuma era conocido por ser un aficionado a la poesía y la música. Se le atribuyen varios poemas y composiciones musicales.



11. Explica en el siguiente recuadro y con tus conocimientos acerca de que es el clima...

Blank writing area with horizontal lines for the student's answer.

12. Utiliza el recortable 3 y pega los alimentos en el lugar que corresponda:

ALIMENTOS NATURALES





13. Utiliza el recortable 3 y pega los alimentos en el lugar que corresponda:

ALIMENTOS ULTRAPROCESADOS

14. Utiliza el recortable 4 y pega lo que se te indica.

Observa las imágenes del recortable 4 y pega la que corresponda a un mapa.

15. Colorea de AZUL las partes que corresponden al mapa.

- | | |
|--------------------------|-------------------------|
| Escala | Rosa de los vientos |
| Simbología | Coordenadas geográficas |
| Título | Posición geográfica |
| Direcciones particulares | GPS |

Actívate Encuentra las 7 palabras.

T E O T I H U A C A N J C X L G W L F E
 N C R I U J C A Z G J Z F I E H Q E K E
 I O W S X F Q T X B B B S V U S R Z K R
 C N W I G D F T A E N Z G Z B N I E B B
 C O Q S E P H V P E U U S G I A Z R Z H
 A M E U Q R Á M O C S I C N C R F Á D B
 G I D H V R T Z L W P M D X A E W U I W
 F C E S H K I A I C U O H G C R S S O Z
 R O N R E U I G T U M J L R I G I E S W
 A L A J R D P D I L P E B S O H C T E I
 R I R L U A W T C T M H V Z N S J N S C
 M R N G J G B T O U T Y L F C V N E C E
 K K W W Q G E A S R B F Z I I B B C Q U
 U P H N T S E T S A C R I F I C I O S L
 D R Q V D A R Q U I T E C T O N I C O W
 G H X E N U H H P R D H X F G Z L C A D
 I M O T G U G F R T F N O I J I L E R Y
 W C S A E Z B D X G S O A D O P S T N Y
 A B R H L R F N Y P A S A U P T M T M U
 P O L I T I C A P M T E L P P D O T K P

- TEOTIHUACAN
- ARQUITECTONICO
- DIOSAS
- CULTURA
- ECONOMICO
- POLITICA
- RELIGION
- SACRIFICIOS
- UBICACION






Ética, naturaleza y sociedad

Miércoles 6 de marzo de 2024

RECORTABLE 1: ¿conquistó o descubrió?



RECORTABLE 2: ¿nómada o sedentario?


Implica establecer una residencia permanente en un lugar específico y no moverse regularmente en busca de recursos básicos.

Implica el desplazamiento de un lugar a otro en busca de alimentos, agua, u otras necesidades.

RECORTABLE 4: el mapa.



RECORTABLE 3: ¿naturales o ultra procesados?





1. Colorea el concepto que se define a continuación: Es una habilidad en la que prestamos atención completa a lo que otra persona está diciendo, mostrando interés genuino y empatía. Consiste en entender, interpretar y responder.

Discriminación pasiva

Participación

Escucha activa

2. Marca con una X las acciones que demuestran una correcta escucha activa.

Mirar a los ojos cuando te hablan. _____

Escuchar atentamente. _____

Interrumpir constantemente. _____

Esperar para dar una respuesta. _____

3. Utiliza el recortable 1 y pega lo que se te indica.

Pega aquí

Emoción que se manifiesta cuando nos encontramos con algo desagradable o repugnante, ya sea físicamente

4. Utiliza el recortable 1 y pega lo que se te indica.

Pega aquí

Emoción que se experimenta cuando nos sentimos frustrados, injustamente tratados o cuando algo nos molesta.

5. Utiliza el recortable 1 y pega lo que se te indica.

Pega aquí

Emoción que experimentamos cuando percibimos una amenaza o peligro, ya sea real o imaginario. Es una reacción natural que nos ayuda a protegernos.

6. Utiliza el recortable 1 y pega lo que se te indica.

Pega aquí

Emoción que se siente cuando algo nos hace felices, cuando estamos contentos o disfrutamos de algo que nos gusta.





EXAMEN TRIMESTRE II

4°



De lo humano y lo comunitario

Jueves 7 de marzo de 2024

7. Escribe brevemente acerca de lo qué es una emoción:

8. Escribe brevemente acerca de lo que es un sentimiento:

9. Colorea el concepto que se define a continuación: Es la habilidad para expresar nuestras emociones, sentimientos y pensamientos de manera respetuosa y clara.

Asertividad

Honestidad

Mindfulness

10. Es la actividad previa al ejercicio:



11. Es importante realizarlos para evitar posibles:





PLANACIONES SAM





EXAMEN TRIMESTRE II

4°



De lo humano y lo comunitario

Jueves 7 de marzo de 2024

12. Es cualquier tipo de movimiento que hace trabajar a los músculos y requiere más energía que estar en reposo.



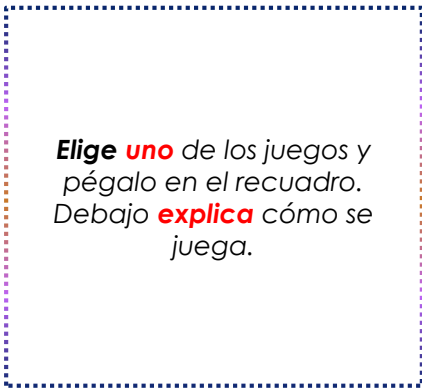
13. Son acciones que realizamos regularmente y que benefician nuestra salud física, mental o emocional.




14. Dibuja y colorea un hábito saludable que practiques en tu vida diaria.



15. Utiliza el recortable 1 y pega lo que se te indica.



Elige **uno** de los juegos y pégalo en el recuadro. Debajo **explica** cómo se juega.



Actívate



Encuentra las coordenadas.

8								
7								
6								
5								
4								
3								
2								
1								
	A	B	C	D	E	F	G	H

- B, 2
- , —
- , —
- , —
- , —
- , —
- , —
- , —





MATERIAL RECORTABLE

4°

De lo humano y lo comunitario

Jueves 7 de marzo de 2024

RECORTABLE 1: las emociones.

ALEGRÍA



TRISTEZA




ASCO



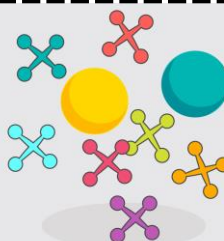
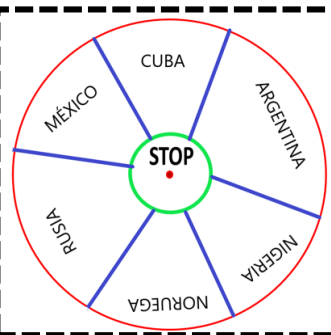
MIEDO



ENOJO



RECORTABLE 2: juegos tradicionales.



PLANACIONES SAM

