


Examen diagnóstico 5° grado



Facebook Pizarra creativa


Alumno: _____

Escuela: _____

Grado: _____ Grupo: _____



Materias	Aciertos	Calificación
LENGUAJES		
SABERES Y PENSAMIENTO CIENTÍFICO		
ÉTICA, NATURALEZA Y SOCIEDAD		
DE LO HUMANO A LO COMUNITARIO		



CAMPO FORMATIVO: LENGUAJES



1. ¿El siguiente texto es un?

*Pepe pecas, pica papas con un pico,
con un pico, pica papa pepe pecas.*

- a) Cuento.
- b) Canción.
- c) Trabalenguas.
- d) Adivinanzas



4. ¿A que hace referencia el sentido literal?

- a) Su significado es el mismo al escrito.
- b) Contar adivinanzas.
- c) Tocar notas musicales.
- d) Decir trabalenguas

2. ¿Qué palabra riman con olvidarte?

- a) Pertenece.
- b) Adivinaste.
- c) Imposible.
- d) Amarte.



5. ¿Son ejemplo de siglas?

- a) Dra. Col. Tel. Av.
- b) PEMEX, SEV, CFE.
- c) bajo, cabe, contra...
- d) ar, er, ir.


3. ¿Cuál de las siguientes oraciones esta en sentido figurado?

- a) Nadan los peces.
- b) Hay que ponerse las pilas.
- c) La flor se marchitó.
- d) La niña canta bonito.

6. ¿Qué tipo de texto es el siguiente?

Al que madruga dios lo ayuda.

- a) Adivinanza.
- b) Trabalenguas.
- c) Canción.
- d) Refrán.



CAMPO FORMATIVO: LENGUAJES



7. ¿A que hace referencia el siguiente refrán?

Haz el bien y no mires a quien.


- a) No hay dejar pasar las oportunidades.
- b) Cuando mas se tiene mas se quiere.
- c) Siempre se debe ser bondadoso con los demás.
- d) Hay que predicar con el ejemplo.

8. ¿Son ejemplos de tipos de adverbios?

- a) Norte, sur, este y oeste.
- b) Tiempo, modo, lugar...
- c) Ante, hasta, para, por...
- d) Izquierda, derecha.

9. ¿Es un ejemplo de verbo en imperativo?

- a) Limpiar.
- b) Acomoda.
- c) Leer
- d) Imprimir.



10. Los verbos en infinitivo terminan en:

- a) ar, er, ir.
- b) n, s o vocal.
- c) una orden.
- d) Una rima.

11. ¿Qué verbos se utilizan en una receta para hacer pastel ?

- a) Barrer, limpiar
- b) Escribir, leer
- c) Batir, licuar.
- d) Patear, partir

12. ¿Son ejemplos de adjetivos?

- a) Bello, guapo, alto.
- b) Agua, tierra, sol.
- c) Arriba, abajo, adelante.
- d) Suave, tazón, cuna.



CAMPO FORMATIVO: LENGUAJES




Lee el siguiente texto y contesta.

El barquito de papel.

Con la mitad de un periódico
hice un barquito de papel,
en la fuente de mi casa
Le hice navegar muy bien
Mi hermano con su abanico
Sopla, y sopla sobre él.
¡Buen viaje, muy buen viaje
barquichuelo de papel!

Amado Nervo



13. ¿Qué tipo de texto es el siguiente texto?


- a) Canción.
- b) Poema.
- c) Cuento
- d) Refrán.

14 ¿De que trata el texto anterior?

- a) Una noticia.
- b) Del agua.
- c) Un hermano.
- d) Un barquito de papel.

15. ¿Qué sentimientos transmite la lectura?

- a) Tristeza.
- b) Angustia.
- c) Amistad.
- d) Miedo.




16. ¿El siguiente texto sirve para transmitir emociones?

- a) Cuentos.
- b) Canciones.
- c) Adivinanzas.
- d) Poemas.

17 . ¿Las estrofas se componen por varios?

- a) Estrofas.
- b) Verbos.
- c) Versos.
- d) Oraciones.




CAMPO FORMATIVO: LENGUAJES



La rama quejumbrosa
 Era un día tan caluroso que hasta las lagartijas y los caracoles buscaban la sombra. Hacía tiempo que no llovía y las ramas secas, abriéndose camino, salían de la tierra agrietada.
 — Estoy vieja y arrugada y ya no sirvo para nada, — dijo **una rama quejumbrosa con voz temblorosa.**
 — ¿Por qué dices eso?, — preguntó el caracol. Yo estoy encantado de que me des sombra porque me haces sentir bien. Entonces, la rama seca miró sorprendida al caracol y no dijo nada.

Al día siguiente la rama se volvió a quejar:
 — Estoy pálida y muy seca, ¿quién me va a querer así?
 — ¿Por qué dices eso?, — preguntó la lagartija. Con este calor sofocante, — dijo, si tú no estuvieras aquí, yo no tendría tu sombra, ¡qué suerte que estés tan cerca de mí!
 Entonces la rama seca miró sorprendida a la lagartija y no dijo nada.
 Esa misma tarde, la rama quejumbrosa, como ya era su costumbre sollozó quejándose de nuevo:
 — ¡Ay, pobre de mí!, ¿por qué sigo en este mundo si nadie se acuerda de mí?
 Entonces mirándose la lagartija y el caracol, sin decir nada, **se marcharon a la sombra de otra rama que no se quejara tanto.**



18. ¿Cuál es el título del cuento?

- a) La rama quejumbrosa.
- b) El caracol y la lagartija.
- c) La sombra refrescante.
- d) El árbol y la sombra.

19. ¿Quién es el personaje principal?

- a) El caracol.
- b) La rama.
- c) El árbol.
- d) La lagartija.



20. ¿Es la voz que cuenta una historia?

- a) Nadador.
- b) Personajes
- c) Narrador.
- d) Autor.

21. ¿Qué problema se presenta en el cuento anterior?

- a) Los animalitos estaban felices.
- b) Hacia mucho calor.
- c) La rama era infeliz.
- d) Llovía mucho.

CAMPO FORMATIVO: LENGUAJES



22. ¿Qué escenario se desarrolla el cuento?


- a) La playa.
- b) El bosque.
- c) El océano.
- d) El desierto.

23. ¿Frase o palabra que da a conocer el tema de un texto?

- a) Subtitulo.
- b) Enunciados.
- c) Titulo.
- d) Pie de toda.

24. Es la principal forma de dar a conocer algo que sucedió:

- a) El resumen.
- b) El cuento.
- c) El ensayo.
- d) La noticia.



Cliente nuevo

Teléfono **Correo**

Ubicación:

E-MAIL:

Contraseña:

Confirmar contraseña:

Preferencias:

Mujer

Hogar

Mascotas

Niños

REGISTRARSE

25. ¿Qué tipo de documento es el anterior?

- a) Acta.
- b) Formulario.
- c) Receta.
- d) Examen.

CAMPO FORMATIVO: SABERES Y PENSAMIENTO CIENTIFICO




1. Lucia compro cajas 5 con 46 dulces cada una. ¿Cuántos dulces compro en total?

- a) 150
- b) 230
- c) 51
- d) 2030

4. El terreno de mi tío mide 360 m de superficie y de ancho mide 9m. ¿Cuánto mide de largo el terreno?

- a) 20 m
- b) 35 m
- c) 40 m
- d) 50 m



2. Camila ahorró \$179.37, su mama le regaló \$76.59 y se encontró \$50 tirados ¿Cuánto dinero juntó?


- a) 391.00
- b) 250.81
- c) 305.96
- d) 400.96

5. Son figuras de cuatro lados que se pueden formar con la unión de dos triángulos ?

- a) Trapecio.
- b) Rombo.
- c) Pentágono.
- d) Circulo.

3. Julio le toca jugar un partido a las 9:30 a.m. y para llegar recorre 45 minutos. ¿A que hr tendrá que salir de su casa para llegar puntual?

- a) 9:00 a.m.
- b) 8:30 p.m.
- c) 7:35 a.m.
- d) 8:45 a.m.



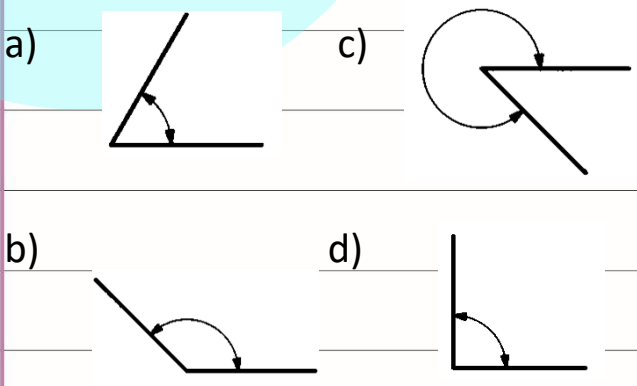
6. ¿Están formados por caras, bases, constan de tres dimensiones: largo, alto y ancho?

- a) Un juego geométrico.
- b) Un cuerpo geométrico.
- c) Una base geométrica.
- d) Una cara geométrica.

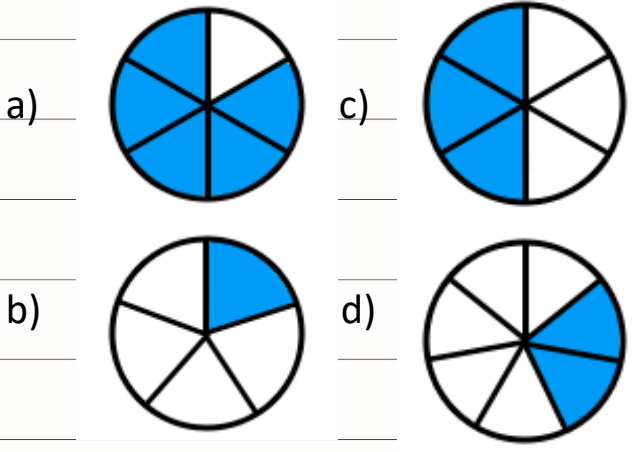
CAMPO FORMATIVO: SABERES Y PENSAMIENTO CIENTIFICO



7. ¿Cuál de los siguientes ángulos mide 90°?



10. ¿Cuál de las siguientes fracciones es equivalente a $\frac{4}{8}$?



8. ¿Nombre del angulo que mide menos de 90°?

- a) Recto.
- b) Obtuso.
- c) Agudo.
- d) Cóncavo.



11. ¿Cuál es el resultado de la siguiente suma de fracciones?

$$\frac{4}{16} + \frac{12}{16} =$$


- a) 16/32
- b) 8/16
- c) 16/16
- d) 6/8

9. ¿Nombre del angulo que mide mas 90° y menos de 180°?

- a) Cóncavo.
- b) Obtuso.
- c) Recto.
- d) Llano.

12. ¿Cómo se escribe le número cuatro mil trescientos cuatro?

- a) 4334
- b) 4434
- c) 4034
- d) 4304



CAMPO FORMATIVO: SABERES Y PENSAMIENTO CIENTIFICO



13. María tiene ahorrado \$1746, ¿Cuánto le falta para comprarse una bicicleta de \$2984?

- a) \$1238
- b) \$1349
- c) \$1532
- d) \$899

14. ¿Cuál es el cociente de dividir $357 \div 7$?

- a) 124
- b) 31
- c) 410
- d) 51




15. ¿A quien le tocó la rebanada mas grande?

- a) Saúl $2/8$
- b) Renata $3/6$
- c) Jesús $1/12$
- d) Ana $2/10$



16. ¿Quién comió menos chocolate?

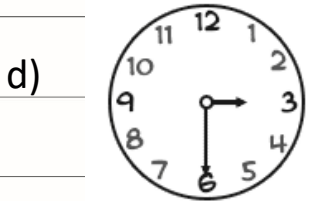
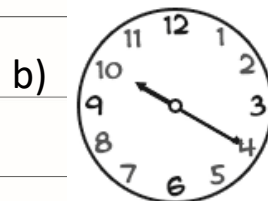
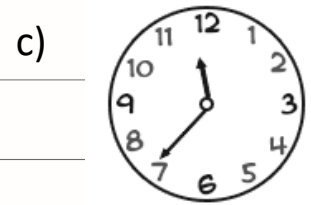
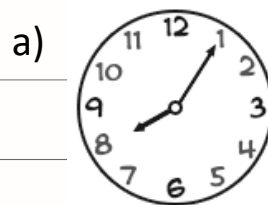
- a) Paula $1/8$
- b) Susan $4/10$
- c) Karla $1/3$
- d) Felipe $3/6$



17. Es lunes y Ana tiene que leer un libro de 90 paginas, si lee 15 paginas por día. ¿Que día terminará de leerlo?

- a) 8
- b) 10
- c) 6
- d) 12

18. ¿Qué reloj marca 25 para doce?




CAMPO FORMATIVO: SABERES Y PENSAMIENTO CIENTIFICO



19. Cada 3 días Janeth ahorra \$10 ¿Cuánto juntara en un mes?

- a) 300
- b) 200
- c) 150
- d) 100




22. ¿Nombre que se le da al contorno de una figura?

- a) Perímetro.
- b) Área.
- c) Radio.
- d) Algoritmo.

20. ¿Cual es el are del terreno rectangular de 15m de frente y 30m de fondo?

- a) 150 m²
- b) 450 m²
- c) 350 m²
- d) 250 m²



23. ¿Cuántas botellas de medio litro necesitamos para llenar un bote de cinco litros?

- a) 5 botellas de ½
- b) 15 botellas de ½
- c) 10 botellas de ½
- d) 8 botellas de ½



24. ¿Cuál es el resultado de $368 \div 8$?

- a) 39
- b) 46
- c) 19
- d) 52

25. ¿Cuál es el resultado de 786×9 ?

- a) 8136
- b) 3382
- c) 5376
- d) 7074

21. Cual es el perímetro de una alberca rectángulas que mide 24m de largo y 16m de ancho?

- a) 158 m
- b) 293 m
- c) 384 m
- d) 40 m

CAMPO FORMATIVO: SABERES Y PENSAMIENTO CIENTIFICO



26. ¿Es la capacidad de los seres vivos para engendrar nuevos individuos?

- a) El movimiento.
- b) La reproducción.
- c) La incubación.
- d) La meditación.



28. ¿El sistema sexual de la mujer esta conformado por?

- a) Pechos, cabello, ropa.
- b) Matriz, ovarios, vagina, clítoris, labios.
- c) Maquillaje, vestido, labios.
- d) Pene, testículos, vesícula seminal, próstata.




27. Son los órganos sexuales con los que nacemos y nos permiten saber si somos hombre o mujeres:

- a) El cabello.
- b) La ropa que utilizamos.
- c) Caracteres sexuales primarios
- d) Crecimiento de la brava y pecho

29. ¿El sistema sexual del hombre esta conformado por?

- a) Barba, pelo y músculos.
- b) Matriz, ovarios, vagina, clítoris, labios.
- c) Pene, testículos, vesícula seminal, próstata
- d) Pantalones, gym, trabajo.



30. Sistema que permite movernos y protege nuestros órganos:

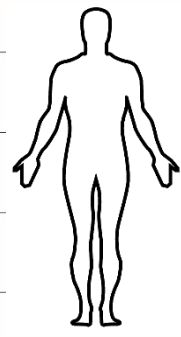
- a) Sistema óseo.
- b) Sistema digestivo.
- c) Sistema circulatorio.
- d) Sistema respiratorio.

CAMPO FORMATIVO: SABERES Y PENSAMIENTO CIENTIFICO



31. ¿Es el conjunto de órganos encargados del proceso de la digestión?

- a) Sistema nervioso.
- b) Sistema óseo.
- c) Sistema respiratorio.
- d) Sistema digestivo.



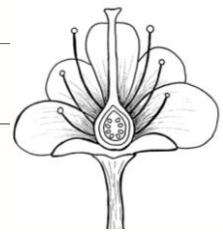
34. ¿Cual de los siguientes es un organismo productor?

- a) Herbívoros.
- b) Carnívoros.
- c) Plantas.
- d) Omnívoros.



32. ¿Cuales son las partes de una flor?

- a) Pétalos, copa, raíz.
- b) Cáliz, corola, estambre.
- c) Semilla, pistilo, antena.
- d) Hoja, tallo, flor.



35. ¿Qué organismos componen la cadena alimentaria?


- a) Conjunto de plantas.
- b) Animales que comen carne.
- c) Productores, consumidores y descomponedores.
- d) Hongos y bacterias.

33. ¿Cómo se le llama al conjunto de seres vivos y condiciones ambientales de un lugar determinado?

- a) Ecosistema.
- b) Biodiversidad.
- c) Naturaleza.
- d) Ambiente.

36. ¿Qué sucede cuando hacemos uso excesivo de los recursos naturales?

- a) Se recuperan mas rápido.
- b) Nacen mas arboles.
- c) Los niveles de agua crecen.
- d) Alteración de los ecosistemas.



CAMPO FORMATIVO: SABERES Y PENSAMIENTO CIENTIFICO



37. Son métodos de conservación de los alimentos, menos:

- a) Ahumado.
- b) Precipitación.
- c) Refrigeración.
- d) Pasteurización.

38. ¿Cuáles son los estado físico de la materia?

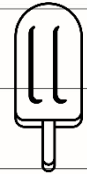
- a) Solido, liquido y gaseoso.
- b) Fuego, aire y tierra.
- c) Sal, azúcar, café.
- d) Miel, leche, agua.

39. ¿Qué imagen representa el estado solido?

a)



c)



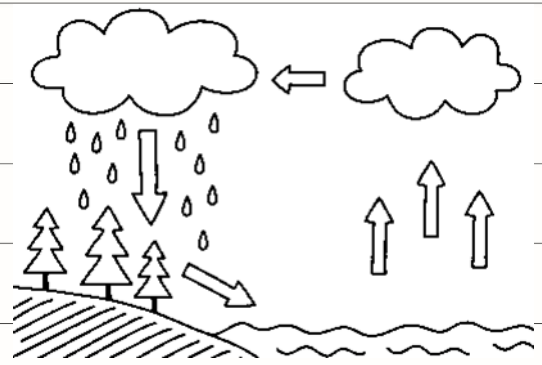
b)



d)




40. ¿Qué representa la siguiente imagen?



- a) Ciclo de la vida.
- b) Ciclo del agua.
- c) Ciclo natural.
- d) La evaporación.

41. ¿Es el cambio de dirección de la luz que choca con la superficie, se desvían y regresan al punto de salida?

- a) Reflexión.
- b) Refracción.
- c) Retroalimentación.
- d) Refractario.




CAMPO FORMATIVO: SABERES Y PENSAMIENTO CIENTIFICO



42. ¿Es el cambio de dirección que toman los rayos de luz al pasar de un medio a otro?

- a) Refractorio.
- b) Reflexión.
- c) Refracción.
- d) Refinería.




45. Se observa cuando la tierra se interpone entre el sol y la luna, evitando que le lleguen los rayos del sol.

- a) Eclipse lunar.
- b) Estaciones del año.
- c) Eclipse solar.
- d) Fases de la luna.

43. ¿Movimiento de la tierra que genera el día y la noche?

- a) De traslación
- b) Fases de la luna.
- c) De rotación.
- d) Eclipse.



44. ¿Movimiento de la tierra que da como resultado las estaciones del año?


- a) Eclipse.
- b) De traslación.
- c) Fases de la luna.
- d) De rotación.

CAMPO FORMATIVO: ÉTICA, NATURALEZA Y SOCIEDAD



1. Primeros pobladores que vivían de la caza y la recolección, viajaban de un lugar a otro.

- a) Sedentarios.
- b) Nómadas.
- c) Extranjeros.
- d) Viajeros.



4. ¿Nombre de los periodos en los que se desarrollaron las culturas?

- a) Antes de cristo, después de cristo.
- b) Este, oeste.
- c) Pasado, antes, futuro.
- d) Preclásico, clásico, posclásico.

2. ¿Nombre de las 3 áreas culturales de México antiguo?

- a) Norteamérica, Centroamérica, Sudamérica.
- b) Oasisamérica, Aridoamérica, Mesoamérica.
- c) Norte, sur, este.
- d) Europa, América, África.

5. ¿Se llaman así por que fueron pintadas sobre superficies rocosas?

- a) Arquitectura.
- b) Jeroglíficos.
- c) Pinturas rupestres.
- d) Esculturas.

3. ¿Nombre de los grupos de personas que desarrollan la agricultura y se establecieron en un solo lugar?

- a) Turistas.
- b) Nacionales.
- c) Sedentarios.
- d) Nómadas.



6. ¿Cultura a la que se denomina "cultura madre" por su gran influencia?

- a) Mexica.
- b) Olmeca.
- c) Maya
- d) Teotihuacana.

CAMPO FORMATIVO: ÉTICA, NATURALEZA Y SOCIEDAD



7. ¿Para que utilizaban la herbolaria?

- a) Elaborar platillos.
- b) Realizar pirámides.
- c) Pintar murales.
- d) Curar enfermedades

10. ¿Genovés que descubrió América?

- a) Diego Velázquez.
- b) Hernán Cortez.
- c) Cristóbal Colón.
- d) Juan de Grijalva.



8. ¿Qué situación favoreció el descubrimiento de América?

- a) La búsqueda de nuevas rutas para el comercio.
- b) La construcción de puentes.
- c) Los viajes de aventura.
- d) Los cuentos

11. ¿General que conquisto Tenochtitlan?

- a) Cristóbal Colón.
- b) Jerónimo de Aguilar.
- c) Moctezuma.
- d) Hernán Cortez.


9. ¿Objeto que utilizaban los marinos para orientarse y saber en que dirección navegar?

- a) Astrolabio.
- b) El mapa.
- c) La brújula.
- d) El GPS.



12. ¿Nombre que se le dio al territorio conquistado por los españoles?

- a) Nuevo México.
- b) América.
- c) Nueva España.
- d) España.




CAMPO FORMATIVO: ÉTICA, NATURALEZA Y SOCIEDAD



13. ¿Se encargaron de hacer las misiones para evangelizar?

- a) Los reyes.
- b) Los frailes.
- c) Los militares.
- d) Los indígenas.




16. ¿En que continente se encuentra nuestro país?

- a) Asia.
- b) Europa.
- c) América.
- d) México.

14. ¿Producto que trajeron de España?

- a) Especies.
- b) Maíz.
- c) Cacao.
- d) Oro.




17. ¿Son los limites para saber hasta donde se extiende el territorio de un país?

- a) Limites.
- b) Fronteras.
- c) Países.
- d) Continentes.

15. ¿La sociedad virreinal estaba integrada por?

- a) Franceses y esclavos.
- b) indios.
- c) Reyes.
- d) Indígenas, españoles y africanos.



18. ¿Cuáles son los tipos de fronteras que existen?

- a) Muros y ríos.
- b) Países y océanos.
- c) Naturales y artificiales.
- d) Estados y golfo.

CAMPO FORMATIVO: ÉTICA, NATURALEZA Y SOCIEDAD



19. ¿Cuál es el nombre oficial de México?

- a) México.
- b) Estados unidos de América.
- c) Nuevo México.
- d) Estados unidos mexicanos.

20. ¿Por cuantas entidades federativas esta integrado México?

- a) 24 entidades federativas
- b) 32 entidades federativas.
- c) 365 entidades federativas.
- d) 16 entidades federativas

21. Son elementos que contiene los mapas, excepto:

- a) Titulo
- b) Portada.
- c) Escala.
- d) Coordenadas.

22. ¿Qué es la diversidad cultural?




- a) Son las costumbres, lenguas, vestimenta, artesanías.
- b) Son las narraciones de los pueblos.
- c) Es la ropa de moda de la población.
- d) Las bellas construcciones

23. ¿Es la forma y la altura que tiene la superficie de la tierra?

- a) Territorio.
- b) Superficie.
- c) Relieve.
- d) Maqueta.

24. ¿Se caracterizan por el tipo de vegetación que crece y la fauna que habita?

- a) El paisaje.
- b) Las regiones naturales.
- c) Las reservas naturales.
- d) Los zoológicos.



CAMPO FORMATIVO: ÉTICA, NATURALEZA Y SOCIEDAD



25. Son características de una población urbana, excepto:


- a) Mas servicios públicos.
- b) Mayor numero de población.
- c) Mejor servicio de salud.
- d) Grandes extensiones de bosques.

26. ¿Es el desplazamiento de personas, temporal o definitiva para mejorar su situación económica?





- a) Migración.
- b) Cambio de domicilio.
- c) Viajes.
- d) Excursiones.

27. ¿Actividad económica para obtener alimentos y productos de consumo?

- a) Artesanía.
- b) Herbolaria.
- c) Agrícola.
- d) Turismo.



28. Es un ejemplo de actividad ganadera:

- a) 
- b) 
- c) 
- d) 

29. Son minerales preciosos de alto valor económico:

- a) Carbón, sal, hierro.
- b) Plata, oro.
- c) Bronce, esmeralda.
- d) Aluminio, ámbar.

30. Se la llama así a la tala inmoderada de los árboles:

- a) Contaminación del aire.
- b) Desinformación.
- c) Contaminación del suelo.
- d) Deforestación.

CAMPO FORMATIVO: DE LO HUMANO A LO COMUNITARIO



1. ¿Son aquellos principios protectores para la dignidad humana?

- a) Las reglas.
- b) Las instituciones.
- c) Los derechos.
- d) Las obligaciones

4. ¿Qué consecuencia tendría no estudiar para los exámenes?

- a) Sacar un 8.
- b) Jugar toda la tarde.
- c) Que me crezcan orejas de burro.
- d) No aprender.

2. Es sinónimo de trato digno, excepto:

- a) Ser escuchado.
- b) Criticado por tu ropa.
- c) Aceptado tal cual eres.
- d) Convivencia pacífica.

5. Son aportes culturales de los pueblos indígenas:

- a) Vestimenta, lenguaje herbolaria.
- b) Ropa, accesorios, idioma.
- c) Juguetes, cuentos, moda.
- d) Pintura, arquitectura, diseño.

3. ¿Cómo deben ser una convivencia armónica?

- a) Hacer lo que queramos.
- b) Gritar.
- c) Ir de compras.
- d) Respetuosa.

6. ¿Qué es la igualdad?

- a) Que solo se beneficien los mas ricos.
- b) Exista una cultura de paz.
- c) Que los derechos y obligaciones sean para todos iguales.
- d) Lucha por la libertad.



CAMPO FORMATIVO: DE LO HUMANO A LO COMUNITARIO




7. ¿Para que sirven los acuerdos?

- a) Logra una convivencia armónica.
- b) Los padres comprenden premios.
- c) Para realizar grandes edificios.
- d) Lograr ganar una copa.

8. ¿Como se puede solucionar los conflictos?

a)



b)



c)



d)




9. ¿Es el tipo de maltrato que sufre una persona por no ser aceptada por su forma de hablar?

- a) Desacuerdo.
- b) Discriminación.
- c) Democracia.
- d) Respeto.

10. ¿Cuáles son los tres poderes en los que se divide el poder público?

- a) Legislativo, ejecutivo y judicial.
- b) Policías, marina y soldados.
- c) Leyes, suprema corte, abogados.
- d) Normas, obligaciones y deberes.



Nombre: _____

Hoja de respuestas

Lenguajes				
1.-	a)	b)	c)	d)
2.-	a)	b)	c)	d)
3.-	a)	b)	c)	d)
4.-	a)	b)	c)	d)
5.-	a)	b)	c)	d)
6.-	a)	b)	c)	d)
7.-	a)	b)	c)	d)
8.-	a)	b)	c)	d)
9.-	a)	b)	c)	d)
10.-	a)	b)	c)	d)
11.-	a)	b)	c)	d)
12.-	a)	b)	c)	d)
13.-	a)	b)	c)	d)
14.-	a)	b)	c)	d)
15.-	a)	b)	c)	d)
16.-	a)	b)	c)	d)
17.-	a)	b)	c)	d)
18.-	a)	b)	c)	d)
19.-	a)	b)	c)	d)
20.-	a)	b)	c)	d)
21.-	a)	b)	c)	d)
22.-	a)	b)	c)	d)
23.-	a)	b)	c)	d)
24.-	a)	b)	c)	d)
25.-	a)	b)	c)	d)

Saberes				
1.-	a)	b)	c)	d)
2.-	a)	b)	c)	d)
3.-	a)	b)	c)	d)
4.-	a)	b)	c)	d)
5.-	a)	b)	c)	d)
6.-	a)	b)	c)	d)
7.-	a)	b)	c)	d)
8.-	a)	b)	c)	d)
9.-	a)	b)	c)	d)
10.-	a)	b)	c)	d)
11.-	a)	b)	c)	d)
12.-	a)	b)	c)	d)
13.-	a)	b)	c)	d)
14.-	a)	b)	c)	d)
15.-	a)	b)	c)	d)
16.-	a)	b)	c)	d)
17.-	a)	b)	c)	d)
18.-	a)	b)	c)	d)
19.-	a)	b)	c)	d)
20.-	a)	b)	c)	d)
21.-	a)	b)	c)	d)
22.-	a)	b)	c)	d)
23.-	a)	b)	c)	d)
24.-	a)	b)	c)	d)
25.-	a)	b)	c)	d)
26.-	a)	b)	c)	d)
27.-	a)	b)	c)	d)
28.-	a)	b)	c)	d)
29.-	a)	b)	c)	d)
30.-	a)	b)	c)	d)

Saberes				
31.-	a)	b)	c)	d)
32.-	a)	b)	c)	d)
33.-	a)	b)	c)	d)
34.-	a)	b)	c)	d)
35.-	a)	b)	c)	d)
36.-	a)	b)	c)	d)
37.-	a)	b)	c)	d)
38.-	a)	b)	c)	d)
39.-	a)	b)	c)	d)
40.-	a)	b)	c)	d)
41.-	a)	b)	c)	d)
42.-	a)	b)	c)	d)
43.-	a)	b)	c)	d)
44.-	a)	b)	c)	d)
45.-	a)	b)	c)	d)

De lo humano a lo comunitario				
1.-	a)	b)	c)	d)
2.-	a)	b)	c)	d)
3.-	a)	b)	c)	d)
4.-	a)	b)	c)	d)
5.-	a)	b)	c)	d)
6.-	a)	b)	c)	d)
7.-	a)	b)	c)	d)
8.-	a)	b)	c)	d)
9.-	a)	b)	c)	d)
10.-	a)	b)	c)	d)

Ética, Naturaleza				
1.-	a)	b)	c)	d)
2.-	a)	b)	c)	d)
3.-	a)	b)	c)	d)
4.-	a)	b)	c)	d)
5.-	a)	b)	c)	d)
6.-	a)	b)	c)	d)
7.-	a)	b)	c)	d)
8.-	a)	b)	c)	d)
9.-	a)	b)	c)	d)
10.-	a)	b)	c)	d)
11.-	a)	b)	c)	d)
12.-	a)	b)	c)	d)
13.-	a)	b)	c)	d)
14.-	a)	b)	c)	d)
15.-	a)	b)	c)	d)
16.-	a)	b)	c)	d)
17.-	a)	b)	c)	d)
18.-	a)	b)	c)	d)
19.-	a)	b)	c)	d)
20.-	a)	b)	c)	d)
21.-	a)	b)	c)	d)
22.-	a)	b)	c)	d)
23.-	a)	b)	c)	d)
24.-	a)	b)	c)	d)
25.-	a)	b)	c)	d)
26.-	a)	b)	c)	d)
28.-	a)	b)	c)	d)
29.-	a)	b)	c)	d)
30.-	a)	b)	c)	d)