

# CUADERNILLO DE ACTIVIDADES

## FIN DE CICLO ESCOLAR



# ¡ADIÓS 2º GRADO!

Nombre: \_\_\_\_\_

Escuela: \_\_\_\_\_



# LENGUA



# MATERNA

## LA PALABRA

Acceda al siguiente enlace para resolver las siguientes actividades

[https://youtu.be/f7i\\_PNsKTUc](https://youtu.be/f7i_PNsKTUc)

¿Qué son las palabras?

---

---

---

Escribe correctamente las siguientes oraciones

Estos zapatos me gustan	
Mis ojos son azules	
Mañana tengo examen	
Mis notas son muy buenas	
Mi mamá es Lucía	

Según la explicación del vídeo dibuja lo que ocurre cuando separamos una palabra

CA SA	
ES CU ELA	
CA MI SA	
LI BRO	

## SÍLABAS CE CI

Acceda al siguiente enlace para resolver las siguientes actividades

<https://youtu.be/jSJQRhoNQo>

# Cc



# circo

ce ci

circo cebolla cebra cine  
cielo once cero ciruela ceja  
policía dulce calcetín silencio  
pincel cocina acción  
Ceci va al cine con Cirilo y Cesar.  
En el circo hay doce cebras y once  
changuitos.

INSTRUCCIONES: Escribe la sílaba que falta para completar las palabras.



\_\_\_\_\_ rillo



\_\_\_\_\_ ne



\_\_\_\_\_ reza



\_\_\_\_\_ bolla



\_\_\_\_\_ rca

# 11

on \_\_\_\_\_



\_\_\_\_\_ nturón



\_\_\_\_\_ jas



\_\_\_\_\_ rco



\_\_\_\_\_ nco



\_\_\_\_\_ pillo



\_\_\_\_\_ bra

## LETRA RR


Acceda al siguiente enlace para resolver las siguientes actividades

<https://youtu.be/pCtyeXch47A>


2. Lee el siguiente trabalenguas, observa e identifica las sílabas con consonante "r"

Erre con erre de barro,  
R con R barril, rápido  
ruedan los carrros por los  
rieles del ferrocarril.


RR



4. Colorea los dibujos y escribe las sílabas: ra, re, ri, ro, ru, que hacen falta para completar cada palabra



sie \_\_\_\_\_  
\_\_\_\_\_




to \_\_\_\_\_  
\_\_\_\_\_



ja \_\_\_\_\_  
\_\_\_\_\_




ca \_\_\_\_\_  
\_\_\_\_\_



inte \_\_\_\_\_ ptor  
\_\_\_\_\_

# MATEMÁTICA




## SUMAS DE UN DÍGITO

Acceda al siguiente enlace para resolver las siguientes actividades

<https://youtu.be/FK0htvEGVEw>

Cuenta las flores y escribe la cantidad que hay en total



Escribe el numero el resultado de las siguientes sumas

$$2 + 3 =$$

$$7 + 1 =$$

$$5 + 4 =$$

$$1 + 1 =$$

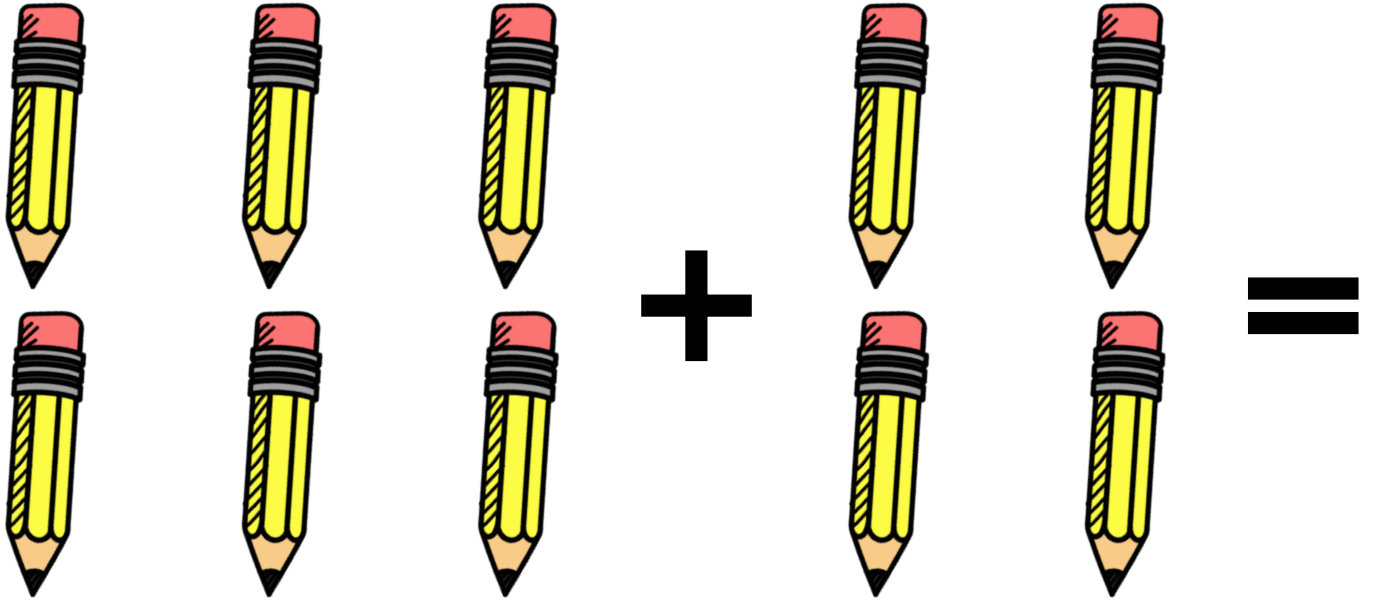
$$4 + 2 =$$


## SUMAS DE DOS DÍGITOS

Acceda al siguiente enlace para resolver las siguientes actividades

<https://youtu.be/IUUihvo7v5Y>

Cuenta los lápices y escribe la cantidad que hay en total



Escribe el numero el resultado de las siguientes sumas

$$2 + 10 =$$

$$5 + 5 =$$

$$20 + 4 =$$




**UNIDAD DECENA Y CENTENA**

*Acceda al siguiente enlace para resolver las siguientes actividades*

[https://youtu.be/q\\_cAQcySOLY](https://youtu.be/q_cAQcySOLY)

**Conteste según el video: Escriba unos o unidades según contienen las siguientes cantidades**

3

---

5

---

9

---

**Escriba dieces o decenas según contienen las siguientes cantidades**

40

---

90

---

**Escriba cienos o centenas según contienen las siguientes cantidades**

500

---

700

---

# CIENCIAS



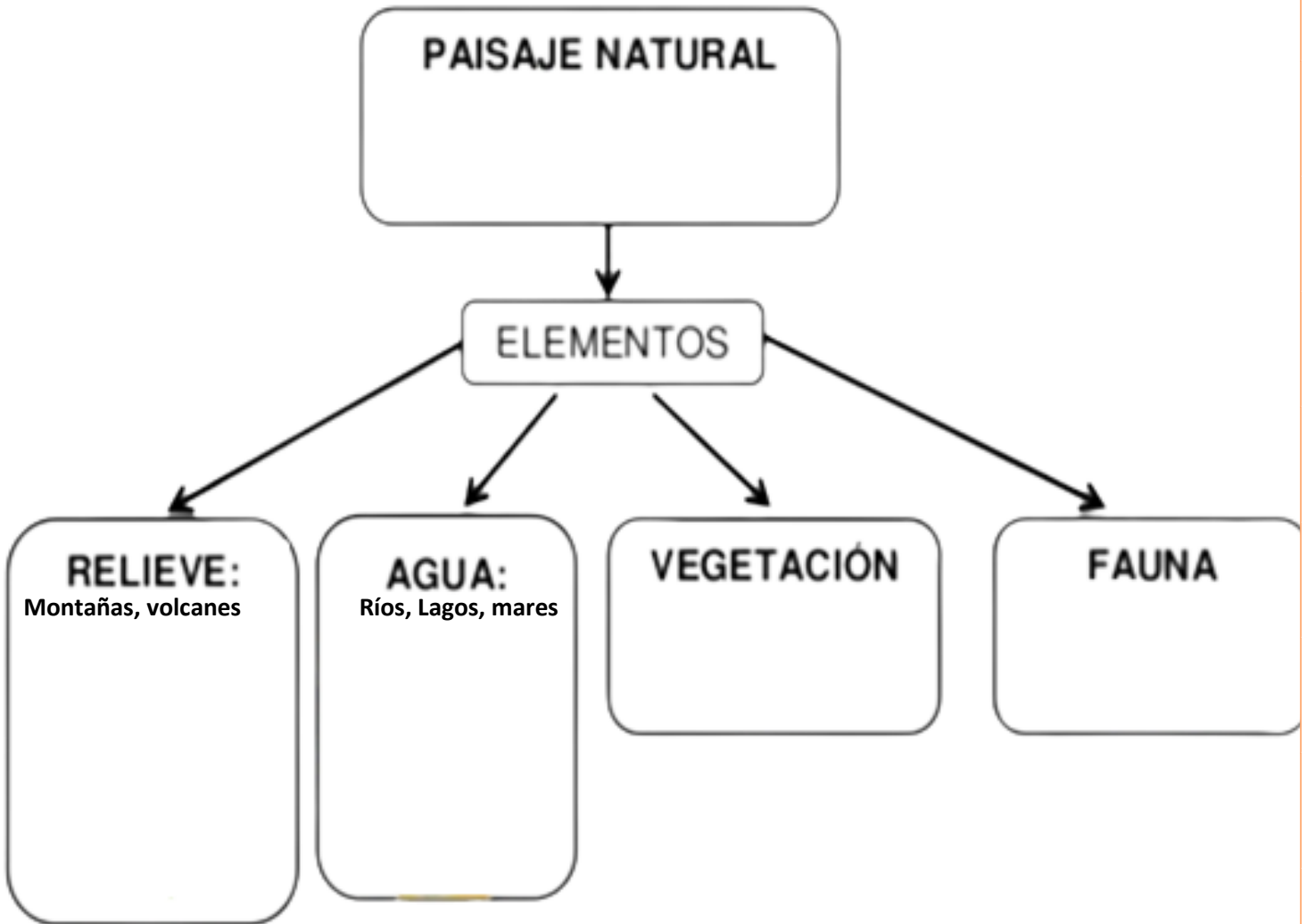
# NATURALES

## EL PAISAJE NATURAL

Acceda al siguiente enlace para resolver las siguientes actividades

<https://youtu.be/IHjVQ2Kyl5A>

Complete y dibuje los elementos del paisaje natural:



Piensa y escribe los elementos que conforman los siguientes paisajes naturales:


Playa

Montaña

Desierto



**EDUCACIÓN**



**SOCIOEMOCIONAL**

## EL ASOMBRO

Acceda al siguiente enlace para resolver las siguientes actividades

<https://youtu.be/pSOoGvQKBHM>

¿Qué es la emoción del asombro?

---

---

---

¿Cómo se manifiesta la emoción del asombro?

---

---

Escribe 3 ejemplos de momentos en que sentimos asombro:


1. 

---
2. 

---
3. 

---

Dibuja tu rostro cuando estás sorprendido/a



## Cuento una sorpresa para Quique

¿Quién era Elena?

---

---

¿Cuántos años tenía Quique de no ver a Elena?

¿Cuántos días se quedaría Elena en la ciudad?

¿Qué le regalo Elena a Quique?

¿Hasta qué edad Quique tendría que abrir la hucha?

¿Por qué no podía dormir Quique?

¿Qué cosas introdujo Quique a la hucha?

¿Cuál fue la verdadera sorpresa que le dio Elena a Quique?

---

---

---

---

---

---

---

---



## EMOCIÓN DEL ASCO

Acceda al siguiente enlace para resolver las siguientes actividades

<https://youtu.be/RDIMjGvlyQ4>

¿Qué es la emoción del asco?

---

---

---

Escribe una ventaja de sentir asco:

---

Escribe una desventaja de sentir asco:


---

Escribe los cinco pasos para superar el asco:





VIDA SALUDABLE



## LOS NUTRIENTES

Acceda al siguiente enlace para resolver las siguientes actividades

<https://youtu.be/1-W6-6yT0zI>

¿Qué son los nutrientes?

---

---

---

---

---



Dibuja alimentos que contengan los siguientes nutrientes: carbohidratos, grasas, proteínas y vitaminas:

A large, empty rectangular area with rounded corners, outlined by a thick dashed black line. This area is intended for the student to draw various food items that contain carbohydrates, fats, proteins, and vitamins.

Los nutrientes protectores son:

---

## LOS CARBOHIDRATOS

Acceda al siguiente enlace para resolver las siguientes actividades

<https://youtu.be/vCMYQqPwRJ4>

¿Para qué sirven los carbohidratos?

---

---

---

---

Escribe el nombre de 6 carbohidratos buenos o complejos:



¿Qué son los carbohidratos malos o simples?

---

---

---

---

---

---

Escriba tres beneficios de consumir carbohidratos:

➤

➤

➤

*Felicidades por  
tu graduación*

DEDICO ESTE VÍDEO  
ESPECIALMENTE PARA TI

<https://youtu.be/YJDNASDZU10>

**Es tiempo de celebrar  
TUS ESFUERZOS Y LOGROS**



# SUSCRÍBETE A LOS SIGUIENTES CANALES:

## ESMERALDA TE ENSEÑA:

[https://www.youtube.com/channel/UCToR5eo1CpfHQkB9\\_JJOuNg](https://www.youtube.com/channel/UCToR5eo1CpfHQkB9_JJOuNg)

## ESMERALDA TE CUENTA UN CUENTO

<https://www.youtube.com/channel/UCimVISx73dEB1fxrn5tWrww>

## PAGINA DE FACEBOOK

<https://www.facebook.com/Esmeralda-te-ense%C3%B1a-106033734606664/>

