

CUADERNILLO DE ACTIVIDADES

FIN DE CICLO ESCOLAR



¡ADIÓS 1º GRADO!

Nombre: _____

Escuela: _____



LENGUA



MATERNA

LEAMOS CON TA, TE, TI, TO, TU


Acceda al siguiente enlace para resolver las siguientes actividades

<https://youtu.be/wfA6lc4G950>

Colorea los dibujos y escribe las sílabas: ta, te, ti, to, tu, que hacen falta para completar cada palabra




| |
|-----------|
| _____ |
| _____erra |
| _____ |



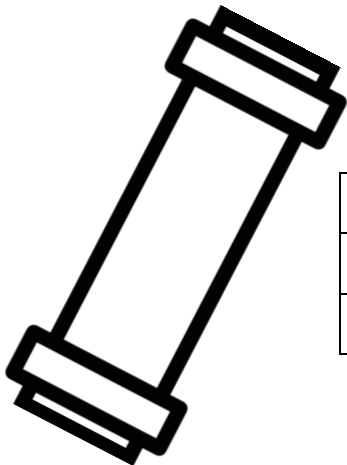
| |
|-----------|
| _____ |
| male_____ |
| _____ |




| |
|-------|
| _____ |
| _____ |
| _____ |



| |
|--------------|
| _____ |
| _____ma_____ |
| _____ |



| |
|---------|
| _____ |
| _____bo |
| _____ |



| |
|---------|
| _____ |
| _____po |
| _____ |

EL NOMBRE PROPIO

Acceda al siguiente enlace para resolver las siguientes actividades

<https://youtu.be/Z3Q1yh35L0>

Los nombres propios son sustantivos que se utilizan para nombrar:



Los nombres propios inician con letra



Escribe sobre la línea la letra inicial de cada nombre propio,
(Recuerda que los nombres propios siempre inician con mayúscula)

_____na

_____lías


_____mar

_____aúl


_____oé

_____ara

Dibuja en que lugares del aula puedes observar tu nombre propio



Escribe tus nombres propios



Escribe tus apellidos



LEAMOS CON FA, FE, FI, FO, FU


Acceda al siguiente enlace para resolver las siguientes actividades

https://youtu.be/frSVfLnob_Q


Colorea los dibujos y escribe las sílabas: fa, fe, fi, fo, fu, que hacen falta para completar cada palabra



_____ntasma



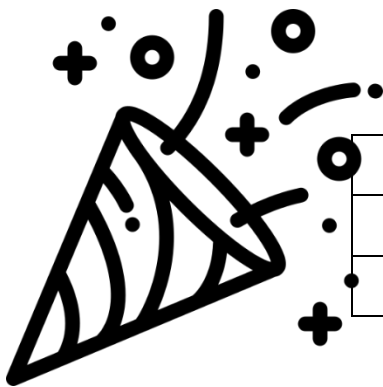
_____ria




_____ego



_____rtuna




_____esta



_____co

MATEMÁTICA



NÚMEROS DEL 1 AL 100

Acceda al siguiente enlace para resolver las siguientes actividades

<https://youtu.be/htwCGbnbfMo>

Formemos números del 10 al 20 con el 1 y sus unidades:

10 1 1 1 1 1 1 1 1 1

Formemos números del 40 al 50 con el 4 y sus unidades:

40 4 4 4 4 4 4 4 4 4

Formemos números del 80 al 90 con el 8 y sus unidades:

80 8 8 8 8 8 8 8 8 8

¿Qué número sigue?

39 59 99

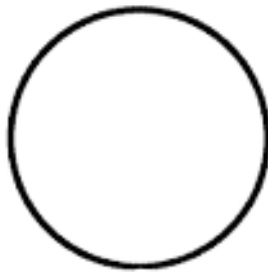
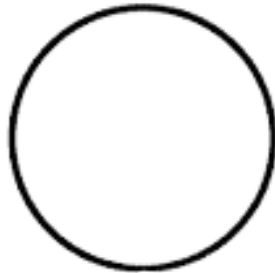
Escribe los números de 10 en 10:

FIGURAS GEOMETRICAS

Acceda al siguiente enlace para resolver las siguientes actividades

<https://youtu.be/7gC795udDal>

COLOREA





TRAZA



UNE



Colorea las figuras geométricas de la casita con el color indicado



UNIDADES, DECENAS Y CENTENAS

Acceda al siguiente enlace para resolver las siguientes actividades

https://youtu.be/q_cAQcySOLY

Escriba unos o unidades según contienen las siguientes cantidades

3

5

9

Escriba dieces o decenas según contienen las siguientes cantidades

40

90

Escriba cienos o centenas según contienen las siguientes cantidades

500

700

CIENCIAS




NATURALES

ESTADOS DEL AGUA

Acceda al siguiente enlace para resolver las siguientes actividades

https://youtu.be/W9u_2eKJBFc

Instrucciones: Coloca la definición de cada estado de la materia donde corresponda

| Sólido | Líquido | Gaseoso |
|---|---|--|
|  |  |  |
| Pega aquí | Pega aquí | Pega aquí |

| | | |
|---|--|--|
| Tienen volumen, forma definida, no se pueden comprimir y no fluyen. | Tienen volumen definido pero no forma, adquieren la del recipiente que los contiene; no se comprimen ni tienen dureza. | No tiene volumen, toma la forma del recipiente que lo contiene, se expande o se comprime en el recipiente que lo contenga. |
|---|--|--|


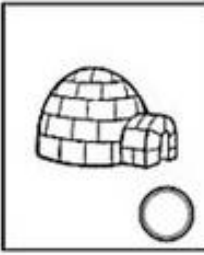


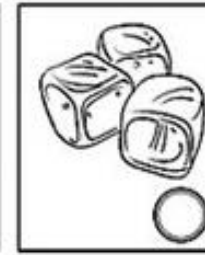





Actividad

Observa cómo está el agua en cada dibujo y en el , escribe:

S, si está en estado sólido

L, si está en estado líquido

G, si está en estado gaseoso

| | | | | |
|---|---|---|--|---|
|  |  |  |  |  |
|  |  |  |  |  |

HÁBITOS HIGIENICOS

Acceda al siguiente enlace para resolver las siguientes actividades

https://youtu.be/u5RZ_tChkg4

Relaciona con una línea los hábitos de higiene con higiene personal y del entorno



Hábitos
de higiene
del entorno



Hábitos
de higiene
personal



Relaciona el concepto y la definición

Higiene del entorno

Forma en que limpiamos el cuerpo

Higiene personal


Forma en que limpiamos el entorno

LOS CINCO SENTIDOS

Acceda al siguiente enlace para resolver las siguientes actividades

<https://youtu.be/FgeSuCkN73E>

Escriba y relacione el sentido su función y los objetos relacionados

| Sentido | función | objeto |
|---|---------|---|
|  | |  |
|  | |  |
|  | |  |
|  | |  |
|  | |  |

Escriba el nombre de los órganos de los sentidos

Sentido: **Gusto**

Olfato

Oído


Vista

Tacto



Órgano: _____

FORMACIÓN



CÍVICA Y ÉTICA

LAS NORMAS DE CONVIVENCIA

Acceda al siguiente enlace para resolver las siguientes actividades

<https://youtu.be/nbusmAaGrDE>

¿Qué son las normas de convivencia?

¿Para qué sirven las normas de convivencia?

Escribe cinco normas de convivencia según el lugar donde te encuentres:

Normas de convivencia en la escuela

1. _____
2. _____
3. _____
4. _____
5. _____



Normas de convivencia en el hogar:

1. _____
2. _____
3. _____
4. _____
5. _____



Normas de convivencia en las redes sociales:

1. _____
2. _____
3. _____
4. _____
5. _____




LA JUSTICIA

Acceda al siguiente enlace para resolver las siguientes actividades

<https://youtu.be/NFG4HTvnG98>

¿Qué es la justicia?

Describe los cuatro tipos de justicia que existen:




Escribe tres ejemplos de justicia:

➤ _____

➤ _____

➤ _____

EDUCACIÓN



SOCIOEMOCIONAL

LA NOSTALGIA

Acceda al siguiente enlace para resolver las siguientes actividades

<https://youtu.be/SWQr4SLjoZs>

Encierre la respuesta correcta

¿Qué es la nostalgia?

- a) Un sentimiento b) Una emoción

La nostalgia es:

- a) Ansiedad y angustia b) Anhelos y añoranza

El origen de la añoranza puede ser por:

- a) Recuerdos del pasado o personas distantes b) por no comer ni dormir

¿Qué tipo de beneficio nos puede dar el sentimiento de la nostalgia si se enfoca positivamente?

- a) Provoca hambre y ganas de salir b) Reduce el dolor inflamatorio y disminuye la soledad

Los dos tipos de nostalgia son:

- a) La imaginativa y la Curativa b) La reflexiva y la restaurativa

Escriba las características de la nostalgia:

1. _____
2. _____
3. _____

Escriba 3 acciones para minimizar o curar la nostalgia:

EMOCIÓN DEL ENOJO

Acceda al siguiente enlace para resolver las siguientes actividades

<https://youtu.be/D0O9Ke1yxS0>

¿Qué es la emoción del enojo?


Escribe tres ejemplos de causas externas de enojo:

Escribe tres ejemplos de causas internas de enojo:


Escribe 5 enfermedades que se producen a causa del enojo:

1. _____
2. _____
3. _____
4. _____
5. _____

¡DIBUJA CARITAS ENOJADAS!



VIDA SALUDABLE



EL PLATO DEL BUEN COMER

Acceda al siguiente enlace para resolver las siguientes actividades

<https://youtu.be/OdnPIsJrA00>

¿En cuantas partes se divide el plato del buen comer?

¿Qué alimentos conforman la zona roja en el plato del buen comer?

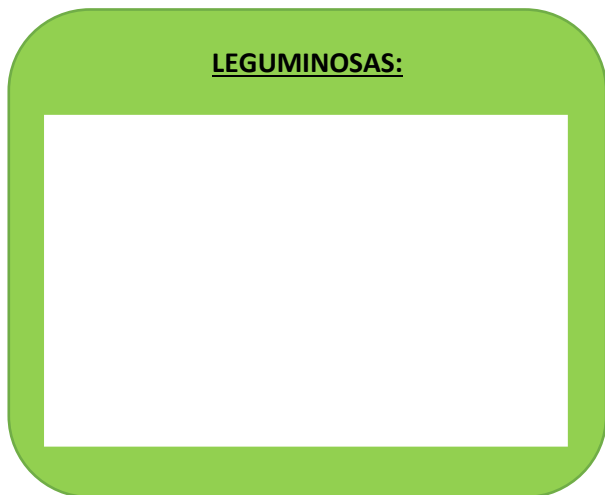
¿Qué alimentos conforman la zona amarilla en el plato del buen comer?

¿Qué alimentos conforman la verde en el plato del buen comer?

¿Cuántas piezas de fruta y verdura se deben comer al día?

Escribe ejemplos de:

LEGUMINOSAS:



CEREALES:



IMPORTANCIA DEL AGUA EN LA NUTRICIÓN

Acceda al siguiente enlace para resolver las siguientes actividades

<https://youtu.be/ubgIRPMJOTI>


Escribe cinco beneficios de beber agua:

1. _____
2. _____
3. _____
4. _____
5. _____

¿Cuánta agua hay que beber al día?

Escribe dos recomendaciones para una hidratación saludable:

Escribe cuatro consecuencias por beber poca agua:



*Felicidades por
tu graduación*

DEDICO ESTE VÍDEO
ESPECIALMENTE PARA TI

<https://youtu.be/YJDNASDZU10>

**Es tiempo de celebrar
TUS ESFUERZOS Y LOGROS**



SUSCRÍBETE A LOS SIGUIENTES CANALES:

ESMERALDA TE ENSEÑA:

https://www.youtube.com/channel/UCToR5eo1CpfHQkB9_JJOuNq

ESMERALDA TE CUENTA UN CUENTO

<https://www.youtube.com/channel/UCimVISx73dEB1fxrn5tWrww>

PAGINA DE FACEBOOK

<https://www.facebook.com/Esmeralda-te-ense%C3%B1a-106033734606664/>

