




EXAMEN

Tercer trimestre

Ciclo escolar 2022-2023



Nombre del alumno (a):

Grupo:

Fecha:

Nombre de la escuela:

Materia	Reactivos	Aciertos	Calificación
Español	30		
Matemáticas	30		
Conocimiento del medio	20		


Promedio



Lee el siguiente texto y responde correctamente.

LA LENGUA NÁHUATL

Náhuatl, la lengua de los aztecas y de los actuales pueblos nahuas, que significa "cosa que suena bien". Los diversos pueblos nahuas están asentados en Norteamérica, específicamente en México, unidos por un común denominador: la lengua náhuatl y el español como segunda lengua. a. El idioma de los nahuas se ha convertido en la lengua nativa con el mayor número de hablantes bilingües que existe.



Debido a su contacto con la lengua indígena, el español mexicano se ha nutrido de muchos vocablos del náhuatl que no existen en otros países de habla hispana. Se dice que alrededor de 4000 palabras que usan los mexicanos en la gastronomía, el hogar o la trivialidad son herencia del náhuatl. Por ejemplo: ahuehuete, apapachar, atole, chamaco, chiles, chilaquiles, entre otros.

1. ¿Qué significa "Náhuatl"?




- a) cosa que suena bien
- b) lengua de los aztecas
- c) segunda lengua mexicana

2-4. Escribe tres ejemplos de palabras que usamos y que son herencia del náhuatl.

5. ¿Qué significa ser bilingüe ?

- a) Hablar náhuatl
- b) Hablar dos idiomas
- c) Hablar solo español

6-7. Colorea las 2 palabras del idioma inglés.



8-10 Escribe el origen náhuatl de las siguientes palabras.

molkaxitl

xictomatl

koyotl


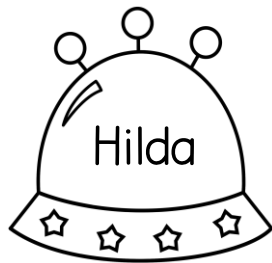



11. Es un libro que recopila en orden alfabético las palabras de una lengua y explica sus distintos significados..

- a) periódico
- b) enciclopedia
- c) diccionario



12-15. Colorea de color rojo las naves que tengan nombres propios y de color verde las que tengan nombres comunes.



16. Es el documento que registra cuando nace una persona contiene datos como su nombre y el nombre de sus padres, la fecha y el lugar de nacimiento.

- a) Cartilla de vacunación
- b) Acta de nacimiento
- c) Credencial de nacimiento

17-20. Escribe la sílaba correcta en cada caso.



___ reza



cro ___ tas



___ elo



mante ___ lla

TERCER TRIMESTRE

21-23. Colorea los palíndromos.

arañara

El barco

La ruta natural


azul

oro


24-27. Une correctamente.

- **Caperucita:** Abuelo, pero que ojos tan grandes se te ven.
- **Lobo Feroz:** Son para verte mejor, Caperucita.
- **Caperucita:** ¿Y esos dientes y colmillos tan grandes?

acotación



vestuario



diálogo

- **Lobo Feroz:** Gracias hijo, (simulando la voz)


escenario

28-30. Escribe el nombre de los siguientes objetos.




7. Completa la serie contando del 10 en 10 hacia atrás.

296 256



8-9. Tacha los instrumentos de medidas convencionales.



10. Ayuda a Don Fermín a completar el pedido de manzanas que tiene que surtir a las tiendas.



PEDIDO 3

430 manzanas

✓ Cajas

✓ Canastas

✓ Sueltas

11-13. Completa las sumas para que el resultado de 1,000.

$$280 + \text{[heart]} = 1000$$

$$\text{[heart]} + 640 = 1000$$

$$410 + \text{[heart]} = 1000$$


14. Doña Luisa compró 6 floreros, si cada uno tenía 4 flores ¿cuántas flores compró en total?

- a) 26 flores
- b) 24 flores
- c) 16 flores




15. Alan acudió a la feria y observó que había 6 carruseles, en cada uno hay 3 caballitos ¿Cuántos caballitos hay en total en la feria?

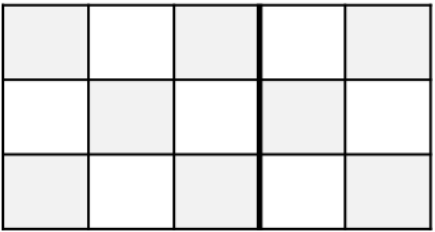
- a) 18 caballitos
- b) 9 caballitos
- c) 17 caballitos



16-19. Completa la tabla anotando el número de animales que se encuentran en cada grupo.

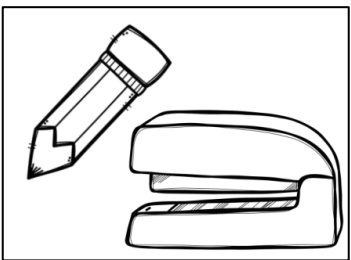
	1 grupo	2 grupos	3 grupos	4 grupos	5 grupos	6 grupos	7 grupos	8 grupos	9 grupos	10 grupos
medusas	6		18	24		36		48		60

20. Calcula cuantos mosaicos hay en la siguiente representación, recuerda el método aprendido en tu libro de texto.

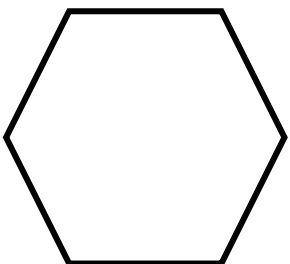


$$\begin{array}{|c|} \hline \times \\ \hline \square \\ \hline \end{array} + \begin{array}{|c|} \hline \times \\ \hline \square \\ \hline \end{array} = \square$$

21. Colorea el objeto más pesado en cada caso.



22. Traza una línea en la siguiente figura para formar dos trapecios.



23-27. Completa las siguientes operaciones.

$$1000 - 520 = \square$$

$$1000 - 810 = \square$$

$$\square \times \square = 24$$

$$\square \times \square = 40$$

$$540 + 320 = \square$$

28-30. Escribe multiplicaciones que den el resultado indicado.

20	
16	
12	

Conocimiento del medio


TERCER TRIMESTRE

2022-2023

1-2. Encierra las actividades recreativas.



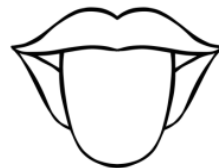
3. Dibuja y escribe una actividad recreativa que realices con tu familia.




5-7. Escribe si crees que cada olor es agradable o desagradable.



8. Colorea la parte de tu cuerpo con la que puedes percibir los sabores.



9-12. Escribe salado, amargo, ácido o dulce según corresponda.



4. Por medio de este sentido percibimos los olores que nos ayudan a identificar los cuerpos, objetos y sustancias a nuestro alrededor.

- a) oído
- b) gusto
- c) olfato



Conocimiento del medio

TERCER TRIMESTRE

2022-2023

13-16. Lee y escribe "primavera", "verano", "otoño" o "invierno" donde corresponda.


Estación del año en donde hay muchas flores.

Estación del año donde se le caen las hojas a los árboles.

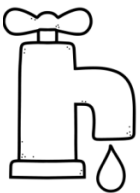
Estación del año donde hace mucho calor y en ocasiones acudimos a la playa.

Estación del año donde hace mucho frío y a veces cae nieve.


17-19. Une correctamente



líquido



Sólido



gaseoso

20. Escribe qué consecuencias tiene esta acción en el medio ambiente.