

Evaluación

SEGUNDO MOMENTO

Primer grado



Escuela:		Grado:	
Nombre:		Fecha:	

Asignaturas	Reactivos	Aciertos	Calif.
Español	25	<input type="text"/>	<input type="text"/>
Matemáticas	25	<input type="text"/>	<input type="text"/>
Conocimiento M.	20	<input type="text"/>	<input type="text"/>
Formación	15	<input type="text"/>	<input type="text"/>
	<input type="text"/>	<input type="text"/>	<input type="text"/>

Mensaje de retroalimentación:



Promedio

Meta para la próxima evaluación:

Firma del padre o tutor

Español

¡Tú puedes!

Recomendaciones:

- Lee con cuidado cada pregunta.
- Si no entiendes alguna pregunta dile a tu maestro o maestra.

¡Empezamos!

1. Colorea los días que vas a la escuela.

Lunes

Domingo

Jueves

Miércoles

Viernes

Martes

Sábado

2. El nombre de la niña empieza con "m". ¿Cuál es?

Paco

María

Ana

Luis



3. Es una regla del salón de clases.



Levantar la mano



Correr en el salón

4. Es una regla de la biblioteca escolar.



Romper los libros



Cuidar los libros

5. Observa la imagen y responde.



La hormiga

Come hojas y vive en un hormiguero.

La imagen anterior es un ejemplo de:

- a) Cuento b) Cartel c) Dibujo

6. Tiene un pico y vuela. ¿Qué animal es?



7. ¿En dónde puedes buscar información sobre los animales?



En libros



En una tienda

8. Subraya las palabras que riman.



En la casa de
Pinocho
todos cuentan
hasta ocho.

9. Colorea la palabra que rima con "zapato":

gallina

gato

cama

10. Observa la siguiente portada de un libro. ¿Qué texto es?

- a) Un cartel.
- b) Una receta.
- c) Un cuento.



11. ¿A cuál cuento corresponde la siguiente recomendación?



Te recomiendo que leas este cuento, se trata de tres animalitos que protegen sus casas de un lobo.

- a) Caperucita Roja
- b) Los tres cochinitos
- c) Blanca nieves

12. ¿Con qué se puede acompañar una recomendación?

- a) Con una tabla.
- b) Con un dibujo.
- c) Con un dulce.

Observa la imagen y responde.



13. ¿Qué están haciendo los niños?

- a) Jugando a los animales.
- b) Platicando con sus amigos.
- c) Representando una obra de teatro.

14. ¿Qué hay en el escenario de la obra de teatro?

- a) Casas y carros.
- b) Árboles y montañas.
- c) Tiendas y edificios.

15. Encierra al niño que está disfrazado de abeja.



16. Selecciona la palabra que es un nombre de persona:

rosa

silla

mesa

Rosa



17. Observa la imagen y selecciona la palabra que le corresponde.

ratón

perro



oso

gato

18. Encierra la palabra que empieza igual que mango.



pelota



oso



manzana

19. ¿Cuál es la palabra corta?



ola



zanahoria

20. ¿Cuál es la palabra larga?



camioneta



oso

21. Encierra la imagen que va en la línea.

El _____ vuela.



22. ¿Cuál palabra se forma con las sílabas?

pa

ta

le



23. Escribe las vocales que faltan




p _ l _ t _

24. Colorea la letra con la que inicia el nombre del animal.

n

m



t



g

25. Resuelve la adivinanza.

Lenta dicen que soy, solo asomo la cabeza, las patas y los pies. ¿Quién soy?

- a) Caballo
- b) Tortuga
- c) Hormiga

-¡Felicidades! Terminaste este examen. Encuentra tres diferencias.



Matemáticas

Recomendaciones:

- Lee con cuidado cada pregunta.
- Si no entiendes alguna pregunta dile a tu maestro o maestra.

¡Empezamos!

1. Si cada bolsa tiene 3 frutas. ¿Cuántas frutas son en total?



- a) 8 frutas.
- b) 9 frutas.
- c) 10 frutas.

2. Si un juguete cuesta \$8, ¿Cuántas monedas de \$1 faltan para completarlo?



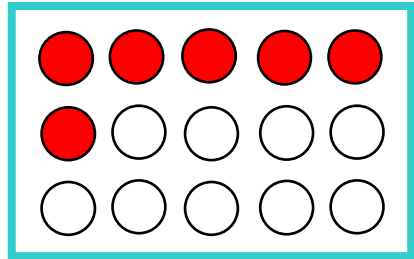
- a) Faltan 2 monedas de \$1.
- b) Faltan 4 monedas de \$1.
- c) Faltan 5 monedas de \$1.

3. ¿Cuántos puntos son?




- a) 12
- b) 10
- c) 15

4. ¿Cuántos círculos faltan por pintar?



- a) 6
- b) 9
- c) 7

5. En una granja hay 10 pollitos, si nacieron 3 más, ¿cuántos hay ahora?



- a) 13
- b) 5
- c) 20

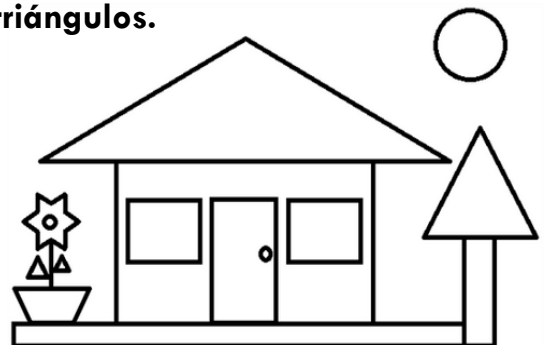
6. ¿Cuánto es?

$$\boxed{10} + \boxed{5} = \boxed{}$$

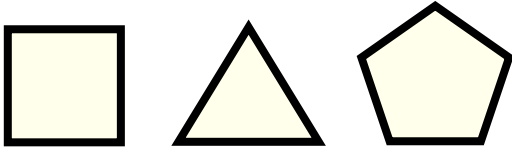
7. ¿Cuánto es?

$$\boxed{10} - \boxed{7} = \boxed{}$$

8. Colorea solo las figuras que son triángulos.



9. Encierra la figura que tiene cuatro lados.




10. Observa la siguiente tabla y responde la pregunta.

Fruta	Cantidad de frutas
Sandía	15
Fresa	20
Naranja	31

¿De cuál fruta hay más?

- a) Sandía b) Fresa c) Naranja

11. Numera del 1 al 3 para ordenar las imágenes desde lo que pasó primero hasta lo que pasó al final.



12. Si hoy es lunes, ¿qué día será mañana?

- a) Miércoles
b) Jueves
c) Martes


13. Encierra el camino más corto.



14. Encierra el lápiz más largo.



15. Si cada bolsa tiene 5 limones. ¿Cuántos son en total?




- a) 30 b) 40 c) 60

16. ¿Cuánto dinero tiene Luis?



- a) \$24 b) \$25 c) \$26

17. ¿Cuánto dinero tiene Ana?




- a) \$20 b) \$26 c) \$25

18. ¿Cuánto dinero tiene Paco?




- a) \$30 b) \$26 c) \$25

19. ¿Cuántas monedas son?

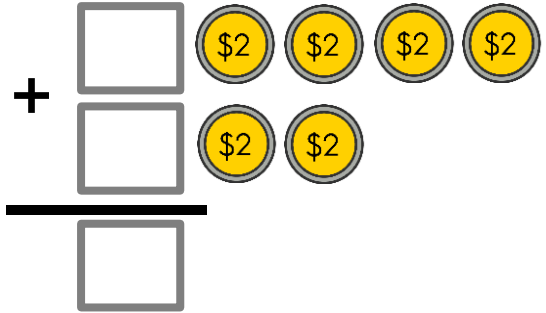


- a) 25 b) 30 c) 20

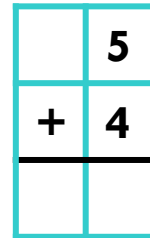
20. ¿Quién tiene más dinero?



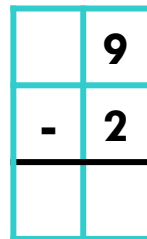
21. Realiza la siguiente suma:



22. Resuelve la siguiente suma.



23. Resuelve la siguiente resta.



24. ¿Cuál es el símbolo de la suma? Coloréalo.



25. ¿Cuál es el símbolo de la resta? Coloréalo.




Conocimiento del Medio

Recomendaciones:

Lee con cuidado cada pregunta.



Responde primero las preguntas más sencillas.



Responde todas las preguntas.



1. ¿Qué está haciendo el niño?



- a) Comiendo saludable.
- b) Estudiando en la escuela.
- c) Tendiendo su cama.

2. Perla vio cuando unos compañeros le pegaban a Paco. ¿Qué debe hacer?

- a) Quedarse callada.
- b) Decirle a su maestra.
- c) Pegarle a Paco.



3. Ana le contó un secreto a su amiga Rocío. ¿Qué debe hacer Rocío?

- a) Guardar el secreto.
- b) Contar el secreto a sus otros amigos.
- c) Decirle que ya no le cuenta secretos.
- d) Guardar el secreto.




4. Es una regla que debemos seguir en el salón.



- a) Lavar los platos al terminar de comer.
- b) Levantar la mano para preguntar.
- c) No meterse a la fila.

5. ¿Qué parte del cuerpo se muestra en la imagen?

- a) Oreja.
- b) Nariz.
- c) Mano.



6. Subraya las características de Pepe.



- a) Pepe es alto, pelo chino, piel morena.
- b) Pepe es bajo, pelo rubio y piel blanca.

7. ¿Qué está haciendo Lucía?

- a) Durmiendo.
- b) Pintando.
- c) Recortando.




8. ¿Qué está haciendo María?

- a) Jugando.
- b) Estudiando.
- c) Comiendo.



9. La siguiente imagen es una:



- a) Calificación.
- b) Acta de nacimiento.
- c) Invitación.

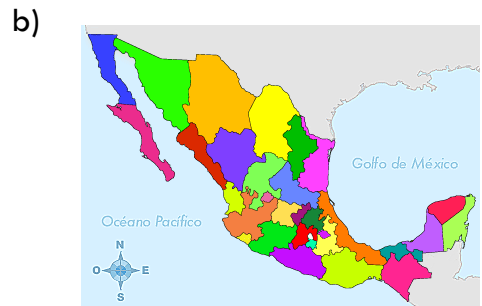
10. ¿Qué información encontramos en una acta de nacimiento?

- a) La dirección de nuestra casa.
- b) Mi fecha de nacimiento.
- c) El nombre de mis hermanos.



11. Sirven para ubicarnos y para encontrar las cosas o lugares cercanos que nos interesan.

- a) Las revistas.
- b) Las fotografías.
- c) Los croquis.

12. Encierra la imagen que es un croquis.



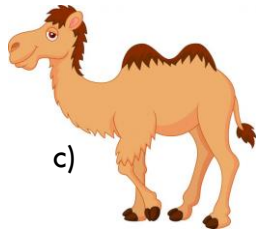
13. Selecciona el elemento social.




14. Subraya el elemento natural.

- a) Punte.
- b) Automóviles.
- c) Montañas.

15. ¿Qué animal vive en el desierto?



16. ¿Qué animal tiene escamas?



17. ¿Qué animal es doméstico?



18. ¿Cuáles son los momentos del día?

- a) Antes de las doce y después de las doce.
- b) Mañana, tarde y noche.
- c) Mediodía y madrugada.

19. ¿En qué momento del día es más común dormir?

- a) Mañana.
- b) Tarde.
- c) Noche.

20. ¿En qué momento del día vas a la escuela?

- a) Mañana o tarde.
- b) Mañana y noche.
- c) Tarde y noche.

Formación

Recomendaciones:

Lee con cuidado cada pregunta.



1. Es una necesidad básica.

- a) Alimentación.
- b) Tener un videojuego.
- c) Viajar.

2. Es un derecho que tienen los niños para convivir con otras personas.

- a) Derecho a leer.
- b) Derecho a jugar.
- c) Derecho a dormir.

3. ¿Cómo nos podemos cuidar del frío?

- a) Saliendo a jugar.
- b) Abriendo las ventanas.
- c) Abrigándonos bien.

4. ¿Cómo nos podemos cuidar del COVID?

- a) Saludando de mano.
- b) Usando cubrebocas.
- c) Asistiendo a fiestas.

5. Nos identifican ante los demás.

- a) Datos personales.
- b) Datos escolares.
- c) Datos sociales.

6. ¿En dónde podemos encontrar nuestros datos personales?

- a) En una cartilla de vacunación.
- b) En una acta de nacimiento.
- c) En un libro.

7. Las niñas y niños tienen derecho a:

- a) A la educación.
- b) A votar.
- c) Al trabajo.

8. Raúl se salió de su casa sin permiso porque tenía una fiesta y sus papás le habían comentado que no podía ir. La decisión de Raúl fue:

- a) Positiva.
- b) Negativa.

9. José constantemente se enferma, por lo que sus papás lo llevan al hospital para curarlo. ¿Qué derecho se está protegiendo?

- a) Derecho a una identidad.
- b) Derecho a tener una familia.
- c) Derecho a la salud.

10. ¿Qué debemos analizar antes de tomar una decisión?

- a) Que mi decisión afecte a los demás.
- b) Qué mi decisión no afecte a los demás.
- c) Nada, las decisiones que tomo, sólo me afectan a mí.

11. Es un ejemplo de decisión negativa.

- a) Hacer la tarea.
- b) Golpear a un compañero.
- c) Andar en bicicleta.

12. Es un ejemplo de decisión positiva.

- a) Comer frutas y verduras.
- b) Golpear a quien te molesta.
- c) Trepas un árbol sin protección.

13. Significa que podemos decir lo que sentimos o pensamos.

- a) Tomar decisiones.
- b) Expresarnos con libertad.
- c) Estudiar.

14. Es una situación que puede dañar a otras personas o a nosotros mismos.

- a) Juego.
- b) Riesgo.
- c) Fiesta.

15. Es una acción que podemos realizar para sentirnos bien físicamente.

- a) Comer mucho.
- b) Hacer actividad física.
- c) Dormir todo el día.