

1

Grado

EXAMEN TRIMESTRAL:
BLOQUE 1

Nombre del Alumno:

Grado:

Grupo:


Fecha:

Nombre de la Escuela:



MATERIA	REACTIVOS	ACIERTOS	CALIFICACIÓN
Matemáticas	35		
Español	20		
Conocimiento del Medio	25		
Vida Saludable	10		

Firma del padre o tutor: _____

1 a la 3.- Cuenta cuantos animales hay en cada grupo y escribe la cantidad.



4 y 5.- Dibuja los plátanos que faltan para que cada mono tenga uno.



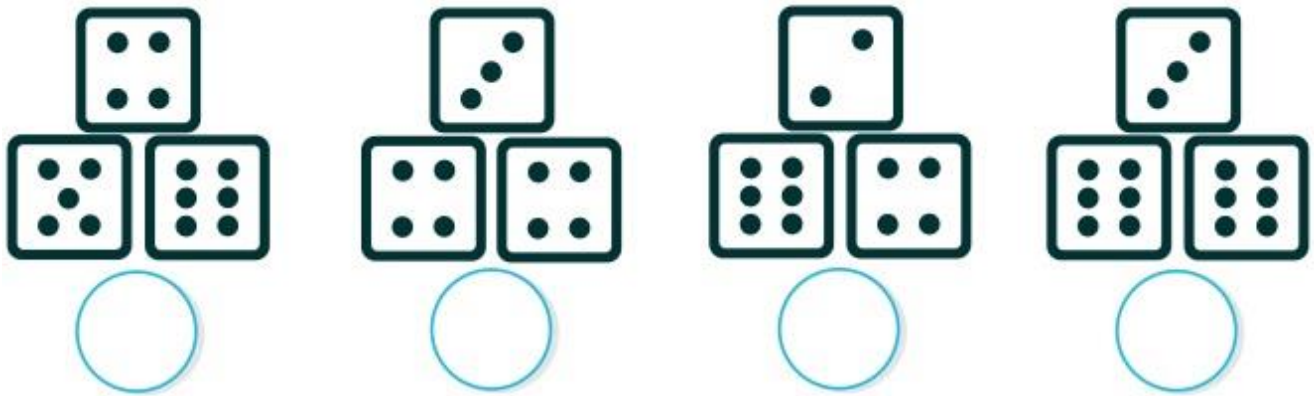
6 y 7.- Tacha los grupos que tienen la misma cantidad que el señalado.



8 y 9.- Escribe los números que faltan en la serie numérica.

1	2			5	6		8	9	10
---	---	--	--	---	---	--	---	---	----


10 al 13.- Cuenta los puntos de los dados y escribe la cantidad.



14.- María tiene 10 galletas, pero se quiere comer 4, ¿Cuántas galletas le van a quedar?

Le van a quedar:

galletas



15 y 16.- Escribe los números que faltan.

1	2	3		5	6		8	9	10		12		14	15
---	---	---	--	---	---	--	---	---	----	--	----	--	----	----

17 y 18.- Tacha las monedas que necesitas para pagar.




Observa la imagen.

19 al 24 .- En la tabla registra cada tipo de fruta con una raya y escribe el número de rayas que pusiste frente a cada fruta.

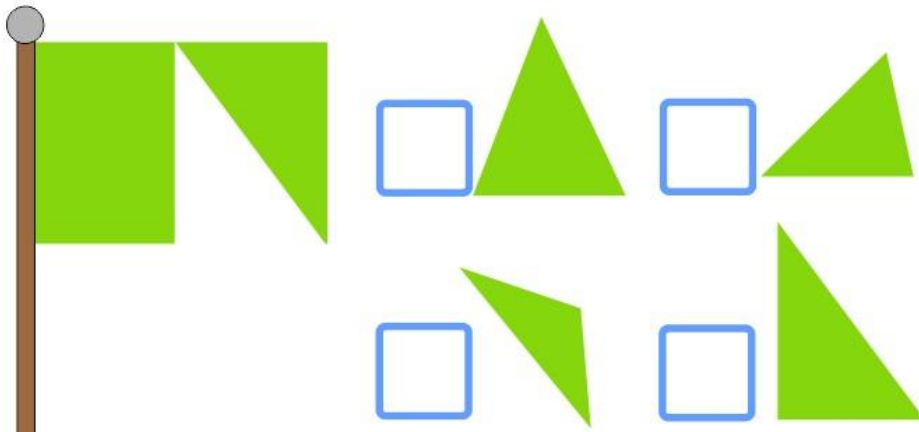


Fruta	Marcas	Número

25 y 26.- Dibuja en las tarjetas vacías lo que falta para completar 28.



27.- Marca con una palomita la figura que se necesita para completar la bandera.



28 y 29.- Marca con una línea dónde cortar para tener lo que se pide.

Dos cuadrados




Dos triángulos



30 al 35.- Escribe los números que faltan.

1	2	3	4	5	6			9	
11	12			15			18	19	20
	22		24		26	27		29	

1.- Colorea la letra con la que inicia tu nombre.



2.- Escribe tu nombre:

3 al 6.- Lee con atención el siguiente texto.

“El Avestruz”

Es el ave más grande y de mayor peso del mundo, aunque tiene alas no sabe volar, pero es una gran corredora. Viven en zonas áridas y semiáridas, ocupando espacios abiertos donde su altura le permite avistar los posibles depredadores.

Los avestruces se alimentan de vegetales, frutas e insectos.


Nacen de un huevo y los polluelos al nacer miden entre 25 y 30 centímetros de altura, pesando casi 1 kilo. Durante el primer año de vida los polluelos crecen 25 centímetros al mes y cuando son adultos pueden llegar a medir hasta 3 metros y pesar 180 kilos.



Completa la información.

- El avestruz es el ave más grande y de mayor peso del mundo.
- Vive en:
- Nacen de:
- Se alimentan de:

7 al 12.- Une cada imagen con la palabra que le corresponde.



maleta

oso

lámpara

zanahoria

hormiga

león



13.- Señala con una X el material que puedes encontrar en la biblioteca de la escuela.

Cuentos

Juguetes

Pelotas

Adivinanzas

Poemas

Diccionarios

Cancioneros

Revistas

Video Juegos

14 y 15.- Lee las siguientes calaveritas y subraya las palabras que riman.

La Catrina trajo manzanas
Para todos en el salón
Pero estaban envenenadas
y todos se fueron al panteón.

Mi maestra cada semana
mucho tarea dejaba.
Llegó la muerte sonriente
y se la llevó velozmente.

Lee con atención el siguiente texto.

(También puedes pedir a tu maestro que lo lea en voz alta).

Recomendación

Una mamá Pata tiene varios patitos, pero uno de ellos es mucho más feo, tonto y torpe que el resto, por lo que todos los animales de la granja se burlan de él. El patito decide huir de allí y se enfrenta sólo a un mundo desconocido para él. Si quieres saber qué ocurrió con el pobre patito, lee el cuento “El patito feo” de Hans Christian Andersen, disponible en la biblioteca de la escuela.



Marca con una palomita la respuesta correcta.

16.- ¿De qué trata la historia?

- De un Patito millonario que se fue a pasear por el mundo.
- De un patito muy feo y los demás animales se burlaban de él.

17.- ¿Qué frase invita a leer el libro?

- Si quieres saber qué pasó con el pobre patito lee el cuento “El patito feo”.
- El patito decide huir de allí y se enfrenta sólo a un mundo desconocido.


18 al 20.- Completa la información.

18	El título del libro es:
19	El autor es:
20	Está disponible en:

1 y 2.- Dibújate y escribe tu nombre y un rasgo físico que te caracteriza.

Mi nombre es:

Mis rasgos físicos son:



3.- Marca con una a quien no cumple con las reglas del salón.



Correr por el salon de clases



Mantener ordenada la mesa de trabajo.



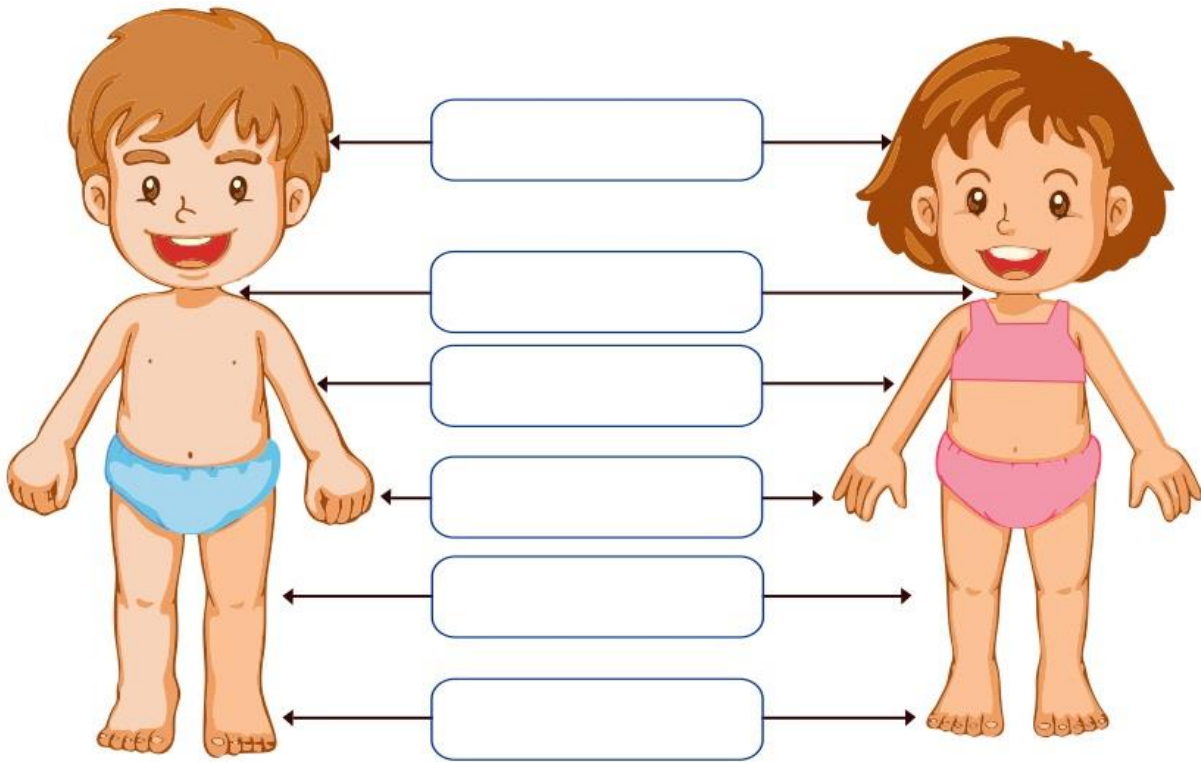
Terminar actividades a tiempo

5 al 6.- Escribe qué sentimiento te transmiten estas caritas.



7 al 12.- Escribe el nombre de las partes del cuerpo en el lugar que le corresponde.

Pie, mano, brazo, pierna, cabeza y cuello.



Lee la información y observa la imagen siguiente.

Jaime se sienta a la izquierda de José.
Ana se sienta en frente de María.
Rosa se sienta a la derecha de Ana.



13 y 14.- Escribe dónde se sientan:


- David _____
- Miguel _____

15 al 17.- Observa el croquis y completa la descripción.



David vive a la _____ de la panaderia. Enfrente de su casa hay una _____, En frente de la iglesia esta el parque y a la _____ del parque esta la escuela.

18.- Marca con una palomita de qué forma están agrupados los animales.



Por su color

Por lo que cubre su cuerpo

Por el lugar donde viven

19 al 22.- Une cada animal con lo que cubre su cuerpo.

plumas

piel desnuda

pelo

escamas

23.- Encierra de color rojo los animales domésticos.

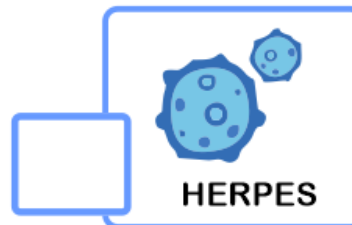



24 y 25.- Escribe los nombres de los días de la semana.

Lunes					Sábado	
-------	--	--	--	--	--------	--

Marca con una palomita la respuesta correcta.

1.- ¿Qué enfermedad respiratoria es causada por el **coronavirus SARS-CoV-2**?



2 y 3.- ¿Qué estrategias se han implementado para combatir el **Covid-19**?



4 al 6.- Marca con una las acciones útiles para prevenir el **Covid-19**



Marca con una palomita la respuesta correcta.

7 al 9.- Son los síntomas que puede causar la enfermedad **Covid-19**.



Tos seca



Fiebre



Sobrepeso



Calor

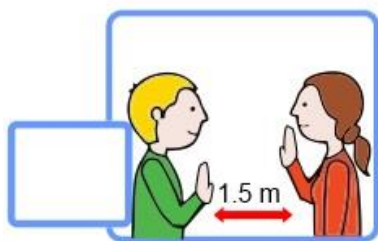


Dolor de garganta



Frio

10.- Es un ejemplo de sana distancia



CicloEscolar.mx ® 2022-2023

Este examen fue elaborado exclusivamente para www.cicloescolar.mx.



Examen Trimestral Primer grado **Ciclo escolar 2022-2023**

Elaborado por <https://www.cicloescolar.mx>

Se distribuye bajo una [Licencia Creative Commons Atribución-NoComercial-SinDerivadas 4.0 Internacional](https://creativecommons.org/licenses/by-nc-nd/4.0/).

Visita: <https://www.cicloescolar.mx>

Este examen fue elaborado exclusivamente para www.cicloescolar.mx.

Si utilizas estos materiales en tu página web deberás atribuir autoría a [cicloescolar.mx](http://www.cicloescolar.mx)

E incluir un código en el post o entrada donde compartes los materiales de [cicloescolar.mx](http://www.cicloescolar.mx)

```
<a href="https://www.cicloescolar.mx/2022/08/examenes-trimestrales-de-primaria-ciclo.html" >Exámenes de Primaria 2022-2023 por CicloEscolar.mx</a>
```