

PROFA. KEMPIS

CUADERNILLO DE ACTIVIDADES

Semana 7: del 10 al 14 de octubre



5°



Ciclo 2022-2023

Material gratuito



Nombre del alumno:

Grado y grupo: _____



Anexo 1: El anuncio publicitario

¿Cómo buscarlo en YouTube?

Aprendizaje esperado: Identifica las características y la función de las frases publicitarias.

Observa el video y completa con la información que hace falta:

<https://www.youtube.com/watch?v=TzXuitldBeM>



Profa. Kempis Anuncios publicitarios

Los _____ publicitarios sirven para dar a conocer o _____ algún producto, servicio o _____.

Los _____ publicitarios pueden ser escritos y los podemos encontrar en las _____, periódicos o en _____.

1. Tacha los medios donde encuentras anuncios publicitarios:



2. A partir de observar el video, escribe el elemento que le hace falta a cada anuncio publicitario:



4.- Observa el anuncio publicitario y responde las preguntas:



¿Qué tipo de anuncio es? (producto, servicio o evento)

¿Cuál es el slogan? _____

Dibuja cómo es la imagen real que utilizaron en el anuncio publicitario:

Anexo 2: Los ángulos

Aprendizaje esperado: Identificación de rectas paralelas, secantes y perpendiculares en el plano, así como de ángulos rectos, agudos y obtusos.

Observa el video y completa con la información que hace falta:

<https://www.youtube.com/watch?v=hF4gTrdrBlo>

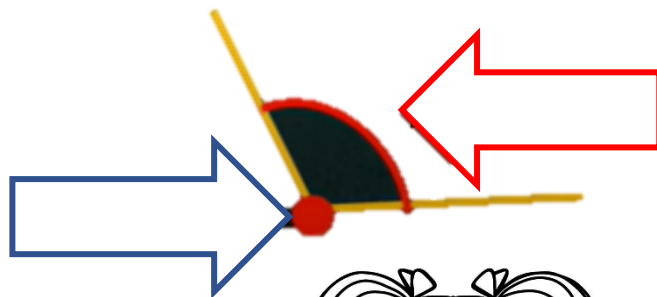
¿Cómo buscarlo en YouTube?



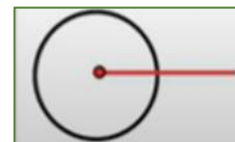
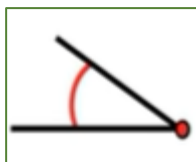
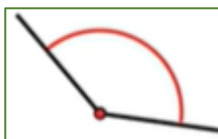
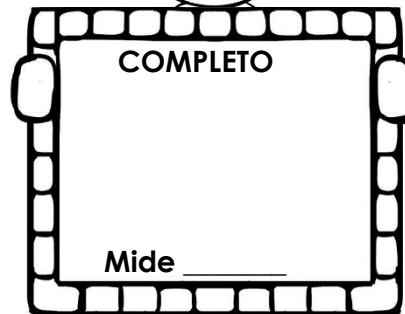




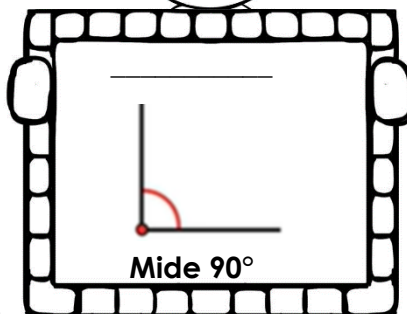



Profa. Kempis Los ángulos

Angulo

Es la medida de la _____
entre dos _____ de recta
unidas por un vértice. Esta se mide en
_____.



➤ Observa el video, recorta y pega los ángulos de acuerdo a su medida y nombre:



Anexo 3: ¿Cómo localizar puntos en un mapa?

Aprendizaje esperado: Localiza capitales, ciudades y otros lugares representativos de los continentes a partir de las coordenadas geográficas.


¿Cómo buscarlo en YouTube?



Profa. Kempis Las coordenadas geográficas

Observa el video para después completar con la información que hace falta:

<https://www.youtube.com/watch?v=voRJFbtKkwI>



Son líneas _____ verticales y horizontales, que cubren toda la _____ formando una red constituida por los _____ (líneas verticales) y los _____ (líneas horizontales). Sirven para _____ lugares en el planeta _____, para ello es necesario conocer la _____ y _____.

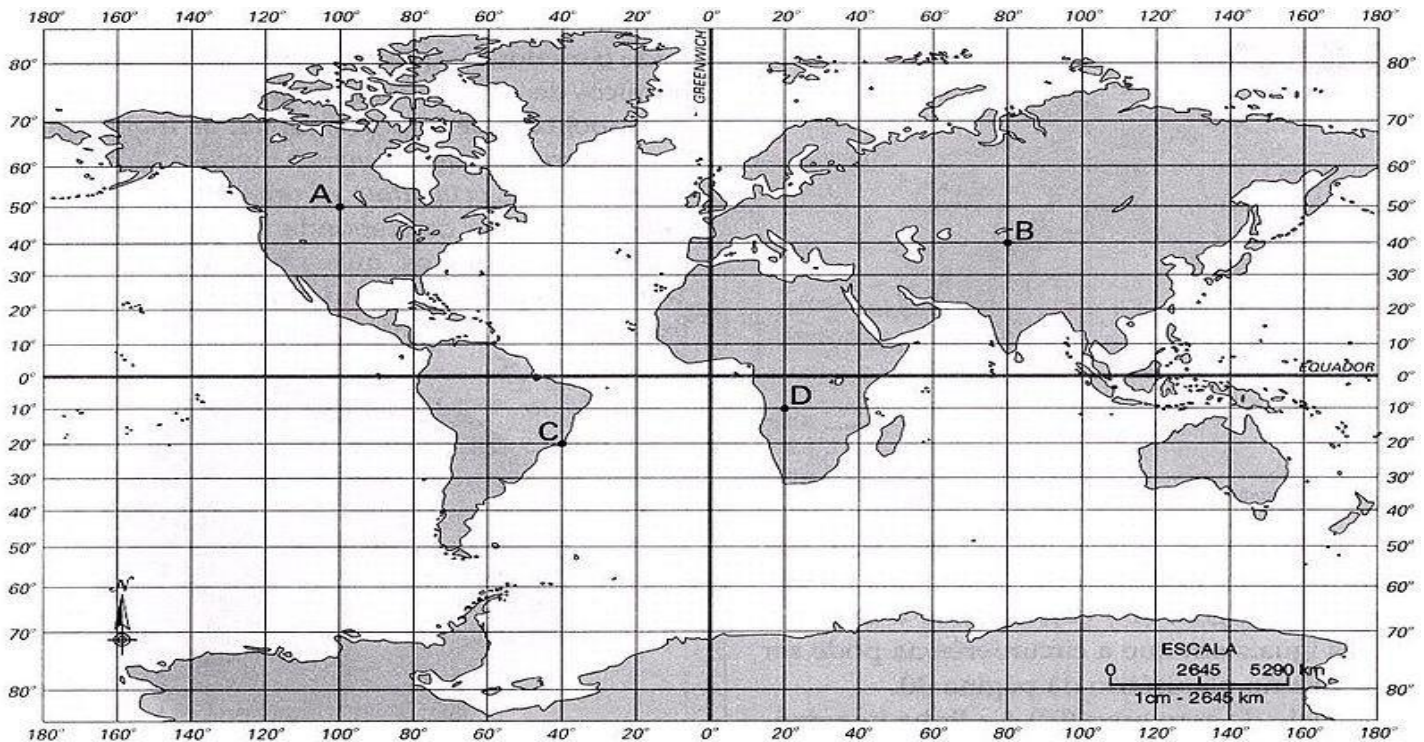
En la Tierra hay _____ paralelos y _____ meridianos.

➤ Escribe si la definición corresponde a latitud o longitud:

Es la distancia entre el ecuador y el paralelo que pasa por cualquier punto de la Tierra.

Es la distancia que hay entre el meridiano de Greenwich (0°) y el meridiano que pasa por cualquier punto de la superficie.

➤ En el siguiente mapa pinta de rojo el ecuador y de verde el meridiano cero, después escribe las coordenadas geográficas para ubicar los puntos que se te piden:



Lugar	Latitud	Longitud
Punto B		
Punto C		
Punto D		

Anexo 4: El sistema nervioso

Aprendizaje esperado: Explica los daños en los sistemas respiratorio, nervioso y circulatorio generados por el consumo de sustancias adictivas, como tabaco, inhalables y bebidas alcohólicas.


Observa el siguiente video y después responde las preguntas:
<https://www.youtube.com/watch?v=j1f-c1K5z98&t=258s>

¿Cómo buscarlo en YouTube?



Google

Profa Kempis Sistema nervioso



>El sistema _____ recibe y _____ toda la _____ que proviene del interior del _____ y así como del entorno, para _____ el _____ de los demás _____ y _____.

>El sistema _____ se divide en _____ partes. El sistema nervioso _____ y el sistema nervioso _____.

Funciones del sistema nervioso:

1. _____

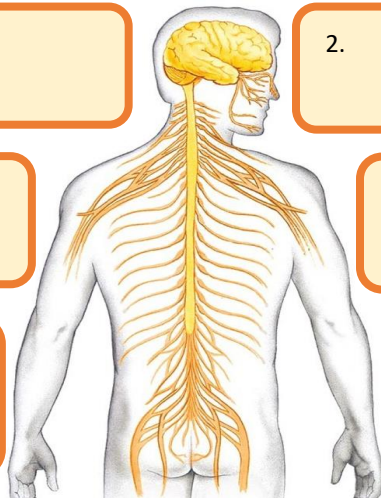
2. _____

3. _____

4. _____

5. _____

6. _____



La unidad básica del cerebro es la _____, el cerebro tiene alrededor de _____ mil millones. Las _____ se _____ entre sí. Reciben la _____ que proviene del exterior y ayudan a generar el _____ de los _____ y del resto del _____.

Anexo 5: Ángulos

Aprendizaje esperado: Identificación de rectas paralelas, secantes y perpendiculares en el plano, así como de ángulos rectos, agudos y obtusos.


Observa el video y mide los siguientes ángulos, además escribe el nombre del ángulo:

<https://www.youtube.com/watch?v=hF4gTrdrBlo>

¿Cómo buscarlo en YouTube?




Profa. Kempis Los ángulos




Mide: _____

Ángulo _____




Mide: _____

Ángulo _____




Mide: _____

Ángulo _____




Mide: _____

Ángulo _____




Mide: _____

Ángulo _____



Mide: _____

Ángulo _____



Anexo 6: Descubrimiento de América

¿Cómo buscarlo en YouTube?



Profa Kempis el descubrimiento de América

Observa el siguiente video

<https://www.youtube.com/watch?v=47f1DE2zJvU>



Observa cómo debe quedar:



Completa la información de las velas, Colorea y arma las carabelas, colocándolas de acuerdo al número de la parte superior.

1

Cristóbal Colón era:

- _____
- almirante
- _____
- Explorador

Pega aquí 2

Cristóbal Colón buscaba encontrar una _____ para llegar a _____ y traer consigo _____ y _____

Pega aquí 3

El ___ de ___ de ___ el navegante _____: Cristóbal _____, respaldado por los _____, partió de Puerto de _____ en busca de nuevas _____

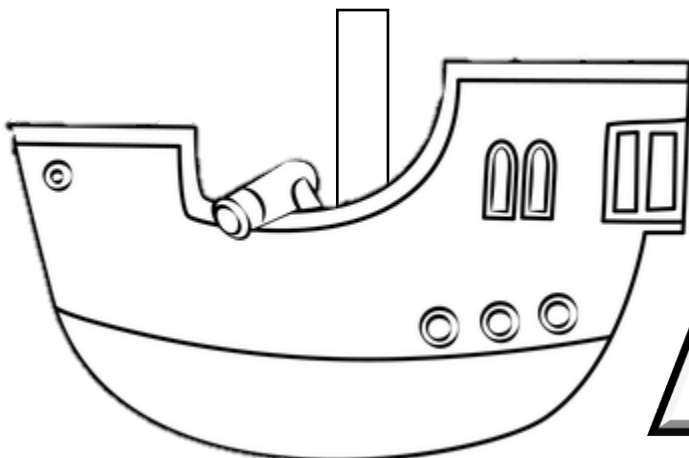
Pega aquí 4

Escribe el nombre de las carabelas y la nao en el que viajó Cristóbal Colón

Carabela: _____

Carabela: _____

Nao: _____



Pega aquí 5

El ___ de ___ de ___ llega a la isla G _____ bautizada por Cristóbal Colón como _____

Cristóbal Colón pensó que llegó a _____

Anexo 7: La separación de Texas

Aprendizaje esperado: Reconoce las causas y consecuencias de la separación de Texas y de la guerra con Estados Unidos.

¿Cómo buscarlo en YouTube?



Profa. Kempis La separación de Texas

Observa el video y contesta completando lo que se te

pide: <https://www.youtube.com/watch?v=W6QQ98QG 2I>

1.- Colorea de amarillo en el mapa lo que comprendía el territorio mexicano:



El gobierno español concedió a _____
el permiso para colonizar el territorio de _____.

El 4 de _____ de 1824 se promulgó la
_____ Federal de los Estados Unidos Mexicanos.
Se dividió a México en 19 _____ y 3 _____
siendo México una República _____.

En _____ Antonio _____ de _____ se
convirtió en _____ de la República Mexicana. En 1835 el gobierno
convirtió a México en una _____.



➤ Escribe en la línea si las características se refieren a una República Federal o República Centralista:

Solo el gobierno central tenía
el poder de tomar decisiones
políticas y administrativas.

Los estados y territorios tenían
autonomía política y
administrativa.

El 2 de _____ de 1836 una Convención en la Villa de Washington declaró la
independencia de la nueva _____ de Texas o República _____.

Nombraron como presidente de Texas al colono _____ y como
vicepresidente al mexicano Lorenzo de _____.

El ejército mexicano encabezado por _____ sometió a los
separatistas texanos, tuvieron algunos triunfos como la toma del Fuerte de
_____, pero en la Batalla de _____ fueron derrotados por
Samuel _____ y toman como prisionero a _____.

El 14 de _____ de 1836 se firma el tratado de _____ con el cual fue
reconocida la independencia de _____.

Anexo 8: Alimentos procesados


Observa el siguiente video y resuelve las actividades.

<https://www.youtube.com/watch?v=gXAPd-di728&t=81s>



¿Cómo buscarlo en YouTube?

profe carbajal alimentos procesados



Se componen de más de un _____ generalmente, suelen venir _____, enlatados o _____.

Clasificación de los alimentos procesados:

Categoría :	Tipo de alimento:
A	
B	
C	
D	
E	

Es _____ que leas las _____ de los alimentos procesados y _____ aquellos que tienen menos de _____ gramos de _____ por porción.

Anexo 9: Rectas y ángulos

Aprendizaje esperado: Identificación de rectas paralelas, secantes y perpendiculares en el plano, así como de ángulos rectos, agudos y obtusos

¿Cómo buscarlo en YouTube?



Observa los videos y responde como se te indica:

<https://www.youtube.com/watch?v=hF4gTrdrBlo>

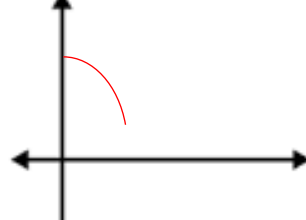
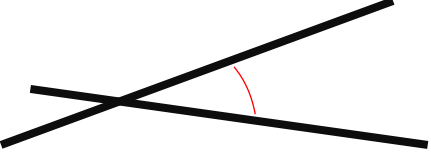
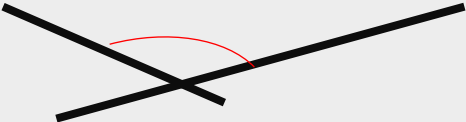


<https://www.youtube.com/watch?v=RPVIQN55PTQ>



1.- Dibuja el instrumento que se utiliza para medir ángulos:

2.- Un ángulo es la medida de la _____ entre dos _____ de recta unidas por un _____.

3.- Observa las siguientes rectas, mide el ángulo y escribe en la columna correspondiente su medida para después clasificarla de acuerdo a su medida en rectas secantes oblicuas o rectas secantes perpendiculares.

Rectas	Medida del ángulo https://www.youtube.com/watch?v=hF4gTrdrBlo	Tipo de recta https://www.youtube.com/watch?v=RPVIQN55PTQ
		
		
		
		
		

Anexo 10: Aparato circulatorio

Observa el siguiente video y completa con la información que falta:

¿Cómo buscarlo en YouTube?



<https://www.youtube.com/watch?v=ruWvznlD7HY>



Profa Kempis Aparato circulatorio

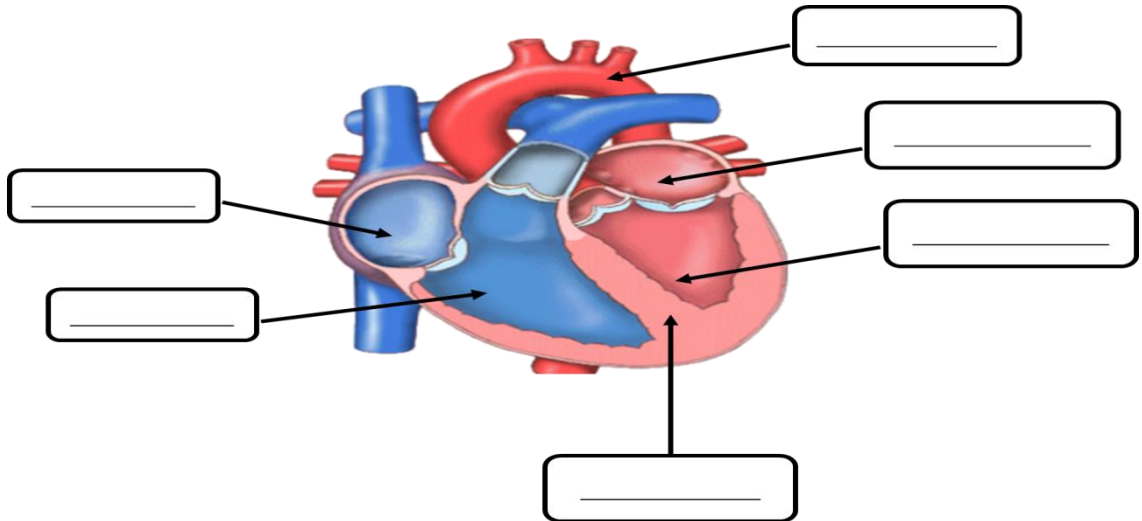
El corazón es un _____ del tamaño aproximado de un _____. Está compuesto de tejido _____ y bombea _____ a todo el cuerpo.

La sangre se transporta a todo el cuerpo a través de los _____, _____ y _____.

unos tubos llamados _____ y _____.

Las venas llevan la sangre _____ desde los _____ hacia el _____ del cuerpo.

➤ Escribe las partes que conforman el corazón:



➤ Las arterias transportan la sangre _____ desde el _____ hacia los _____ del cuerpo.

➤ Escribe en la línea cual es la sístole y la diástole:

El corazón se contrae
La sangre sale

El corazón se expande
La sangre entra

➤ Escribe dos acciones para cuidar el aparato circulatorio:

¡Síguenos en nuestras redes para más material!

<https://www.facebook.com/Profa-Kempis-105813251593792>



<https://www.youtube.com/channel/UC4mKdEYyM-zZZmkjRsaYENw>



https://www.youtube.com/channel/UC_HhJSoJRyfHVRkqoYHEi8w



¡En nuestra página de Facebook Profa Kempis encuentras material, cuadernillos y planeaciones



semanales!



Q Profa Kempis

<https://www.facebook.com/Profa-Kempis-105813251593792>