

ACTIVIDADES SEGUNDO GRADO

Semana del 15 al 19 de noviembre



Nombre: _____

Grado: _____ **Sección:** _____

MATEMÁTICAS: “Conozcamos la tabla del 2”

Completa la tabla del 2.

$2 \times 1 =$	
$2 \times 2 =$	
$2 \times 3 =$	
$2 \times 4 =$	
$2 \times 5 =$	
$2 \times 6 =$	
$2 \times 7 =$	
$2 \times 8 =$	
$2 \times 9 =$	
$2 \times 10 =$	

Colorea los cuadros de los resultados de la tabla del 2.

1	2	3	18	10
12	5	4	7	9
15	17	14	19	8
6	13	20	6	16

Relaciona


$2 \times 1 =$ 18

$2 \times 9 =$ 2

$2 \times 4 =$ 10





















$2 \times 7 =$ 14

$2 \times 5 =$ 8



LENGUA MATERNA: "Silabas inversas de S"

Haga clic en el siguiente enlace para resolver correctamente la actividad

<p>as</p>	<p>asteroide asco asno ascensor aspirina</p>	<p>ratas canasta bastón mascota máscara</p>	<p>Primero, circula las palabras que están representadas con un dibujo y luego, rellena el círculo del dibujo que NO está en la lista.</p> <div style="display: flex; justify-content: space-around;"> <div style="text-align: center;">  ○ </div> <div style="text-align: center;">  ○ </div> <div style="text-align: center;">  ● </div> <div style="text-align: center;">  ○ </div> </div>
<p>es</p>	<p>estrella espejo escoba escalera espanto</p>	<p>desván revés japonés orquesta pescado</p>	<div style="display: flex; justify-content: space-around;"> <div style="text-align: center;">  ○ </div> <div style="text-align: center;">  ○ </div> <div style="text-align: center;">  ○ </div> <div style="text-align: center;">  ○ </div> </div>
<p>is</p>	<p>Ismael isla isleño israelí</p>	<p>pianista disco revista modista mordisco</p>	<div style="display: flex; justify-content: space-around;"> <div style="text-align: center;">  ○ </div> <div style="text-align: center;">  ○ </div> <div style="text-align: center;">  ○ </div> <div style="text-align: center;">  ○ </div> </div>
<p>os</p>	<p>Oscar ostra oscuro ósmosis</p>	<p>Moscú soldado mosquito mosca rosca</p>	<div style="display: flex; justify-content: space-around;"> <div style="text-align: center;">  ○ </div> <div style="text-align: center;">  ○ </div> <div style="text-align: center;">  ○ </div> <div style="text-align: center;">  ○ </div> </div>
<p>us</p>	<p>usted uslero</p>	<p>bus susto músculo muslo</p>	<div style="display: flex; justify-content: space-around;"> <div style="text-align: center;">  ○ </div> <div style="text-align: center;">  ○ </div> <div style="text-align: center;">  ○ </div> <div style="text-align: center;">  ○ </div> </div>

CÍVICA Y ÉTICA: “Libre soy y quiero ser”

Haga clic en el siguiente enlace para resolver correctamente la actividad

<https://youtu.be/ssJ0L9IO8uE>

Complete la definición de libertad:

La libertad es _____

Según su _____ y voluntad

Complete la siguiente versión de libertad:

La libertad no es hacer lo que queramos sin responsabilidad si no _____
Ante la sociedad

La libertad me hace libre pero también _____ de mis actos

Nuestra libertad finaliza donde comienza la _____

Piensa:

A parte de un derecho la libertad también es un: _____

Escriba el nombre de cinco tipos de libertad: _____

La libertad de expresión conlleva a otros tipos de libertades como son:

¿Qué es la libertad de opinión?

¿Qué valor se debe practicar al compartir nuestras opiniones y a la vez escuchar la opinión de otros? _____

La mayor parte de los tipos de libertad está protegida por:

Cuál es el fin de la existencia de normas y leyes en la práctica del derecho a la libertad:

Complete: La libertad absoluta es casi _____

Colorea las siguientes ilustraciones sobre la libertad como un valor y un derecho de todos/as



Tengo derecho a **opinar libremente**
Pero debo respetar la opinión ajena



Tengo la **libertad de asociación** unirme con
quien yo decida, pero respetando las normas

Tenemos derecho a la libertad, pero con responsabilidad



VIDA SALUDABLE: “Oxígeno en mi cuerpo”

Haga clic en el siguiente enlace para resolver correctamente la actividad

<https://youtu.be/wH7cD7rkFcY>

¿Qué son las enfermedades transmisibles?

Escriba tres enfermedades transmisibles: -

¿Cómo se da la transmisión de una enfermedad?

Escriba tres enfermedades más conocidas y comunes del sistema respiratorio:

Qué órganos del sistema afectan las enfermedades del sistema respiratorio:

Escriba tres síntomas de las enfermedades respiratorias: _____

Escriba tres enfermedades altamente transmisibles del sistema respiratorio:

Escriba que es una alergia en el sistema respiratorio:

A qué tipo de persona se le puede presentar una alergia:

Escriba tres síntomas de una alergia en el aparato respiratorio:

¿Cuáles son algunos alérgenos causantes de las enfermedades alérgicas?

Escriba tres enfermedades alérgicas del sistema respiratorio: _____

Escriba tres medicinas naturales para mermar alergias respiratorias: _____

Escriba tres medidas para prevenir enfermedades alérgicas en el sistema respiratorio:

Observa detenidamente las imágenes Lee y Colorea los síntomas de las enfermedades respiratorias que tú has vivido o experimentado cuando tú te has enfermado:

• Tos



• Odinofagia
(dolor al tragar)



• Rinorrea (secreción nasal)



• Disfonia (Trastornos de la voz o dificultad respiratoria)



• Obstrucción nasal



• Acompañados
o no de fiebre



SISTEMA
RESPIRATORIO



Colorea el órgano
correspondiente al aparato
respiratorio:

LA REVOLUCION MEXICANA

Haga clic en el siguiente enlace para resolver correctamente la actividad

<https://youtu.be/sMfKYuTEUMc>

¿Cuándo inicio la revolución mexicana?

¿Qué acontecimiento surgió el 6 de junio de 1910?

¿Quiénes eran los candidatos a la presidencia en 1910?

¿En qué consistía el plan de san Luis?

¿Quién organiza un levantamiento en contra de Huerta?

¿Cuál fue la pronunciación de Estados Unidos el 26 de marzo de 1913?

¿En qué consistió la ley agraria?

¿Qué acontecimiento surgió el 5 de febrero de 1917?

¿Quién anunció su campaña para la presidencia de México en 1919?

COMPRESION DE CUENTOS:

Haga clic en el siguiente enlace para resolver correctamente la actividad

<https://youtu.be/RAmSQH2Dgtk>

¿Cuántos hijos tiene el sembrador?

¿Por qué se enojó el sembrador con su hijo mayor?

¿Qué problema se presentó cuando el sembrador y sus hijos iban camino a casa?

¿Cuál fue la reflexión del sembrador cuando iba camino a casa?

¿De qué se dio cuenta el sembrador al llegar a su casa?

¿Qué le dijo el hada a Antonio?

¿Qué le dijo el hada a él sembrador?

¿Qué hizo el padre para recuperar a sus hijos?

¿Cuál es la moraleja de la historia?

SUSCRÍBETE A LOS SIGUIENTES CANALES:

ESMERALDA TE ENSEÑA:

https://www.youtube.com/channel/UCToR5eo1CpfHQkB9_JJOuNg

ESMERALDA TE CUENTA UN CUENTO

<https://www.youtube.com/channel/UCimVISx73dEB1fxrn5tWrww>

PAGINA DE FACEBOOK

<https://www.facebook.com/Esmeralda-te-ense%C3%B1a-106033734606664/>

