


PROFA. KEMPIS

CUADERNILLO DE

ACTIVIDADES

Semana 9: 25 al 29 de octubre



5°



Profa. Kempis



Profe Carbajal

Nombre del alumno: _____

Grado y grupo: _____

Español "Los anuncios publicitarios"

Aprendizaje esperado: Identifica las características y la función de las frases publicitarias.

Observa el video y completa con la información que hace falta:

<https://www.youtube.com/watch?v=TzXuitldBeM>



1. Los _____ publicitarios sirven para dar a conocer o _____ algún producto, servicio o _____.
2. Tacha los medios donde encuentras anuncios publicitarios:



3. A partir de observar el video, escribe el elemento que le hace falta a cada anuncio publicitario:



- 4.- Observa el anuncio publicitario y responde las preguntas:



¿Qué tipo de anuncio es? (producto, servicio o evento)

¿Cuál es el slogan?

Dibuja cómo es la imagen real que utilizaron en el anuncio publicitario:

Matemáticas "Los ángulos"

Aprendizaje esperado: Identificación de rectas paralelas, secantes y perpendiculares en el plano, así como de ángulos rectos, agudos y obtusos

Observa los videos y responde como se te indica:

<https://www.youtube.com/watch?v=hF4gTrdrBlo>

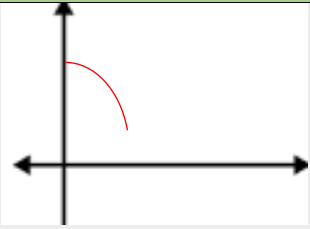
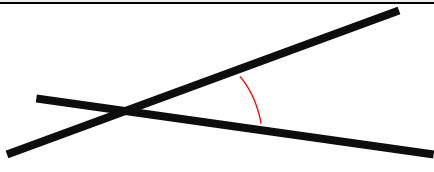
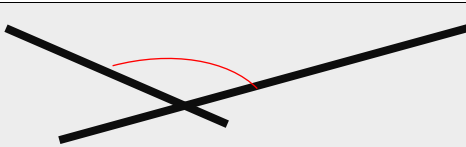
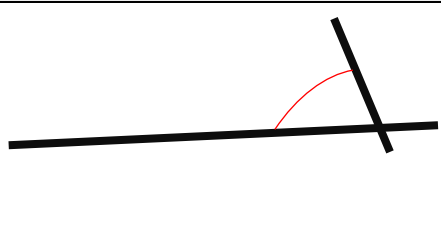
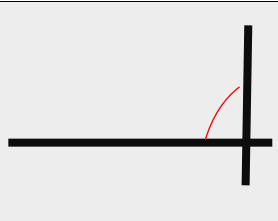
<https://www.youtube.com/watch?v=RPVIQN55PTQ>



1.- Dibuja el instrumento que se utiliza para medir ángulos:

2.- Un ángulo es la medida de la _____ entre dos _____ de recta unidas por un _____.

3.- Observa las siguientes rectas, mide el ángulo y escribe en la columna correspondiente su medida para después clasificarla de acuerdo a su medida en rectas secantes oblicuas o rectas secantes perpendiculares.

Rectas	Medida del ángulo https://www.youtube.com/watch?v=hF4gTrdrBlo	Tipo de recta https://www.youtube.com/watch?v=RPVIQN55PTQ
		
		
		
		
		

Ciencias Naturales "Sistema respiratorio"

Aprendizaje esperado: Explica los daños en los sistemas respiratorio, nervioso y circulatorio generados por el consumo de sustancias adictivas, como tabaco, inhalables y bebidas alcohólicas



Observa el siguiente video y después responde las preguntas:

<https://www.youtube.com/watch?v=GkvsYNseAT0>

1. El sistema _____ es el conjunto de _____ que poseen los seres _____, con la finalidad de _____ gases con el medio _____ por medio de la _____.

2. La _____ es una de las _____ principales de los _____ vivos, nos permite obtener _____ y _____ la energía que _____ para vivir.

3. ¿Cuáles son los movimientos que se realizan al respirar?

4. ¿En qué consiste el movimiento de inhalación? _____

5. ¿En qué consiste el movimiento de exhalación? _____

6. ¿Cuál es el nombre del músculo que ayuda a los pulmones al proceso de inhalación y exhalación? _____

7. ¿Qué nombre recibe el gas indispensable para la vida humana? _____

8. ¿Qué nombre recibe el gas que exhalamos? _____

9. Escribe 4 acciones que puedes realizar para cuidar de tu sistema respiratorio:

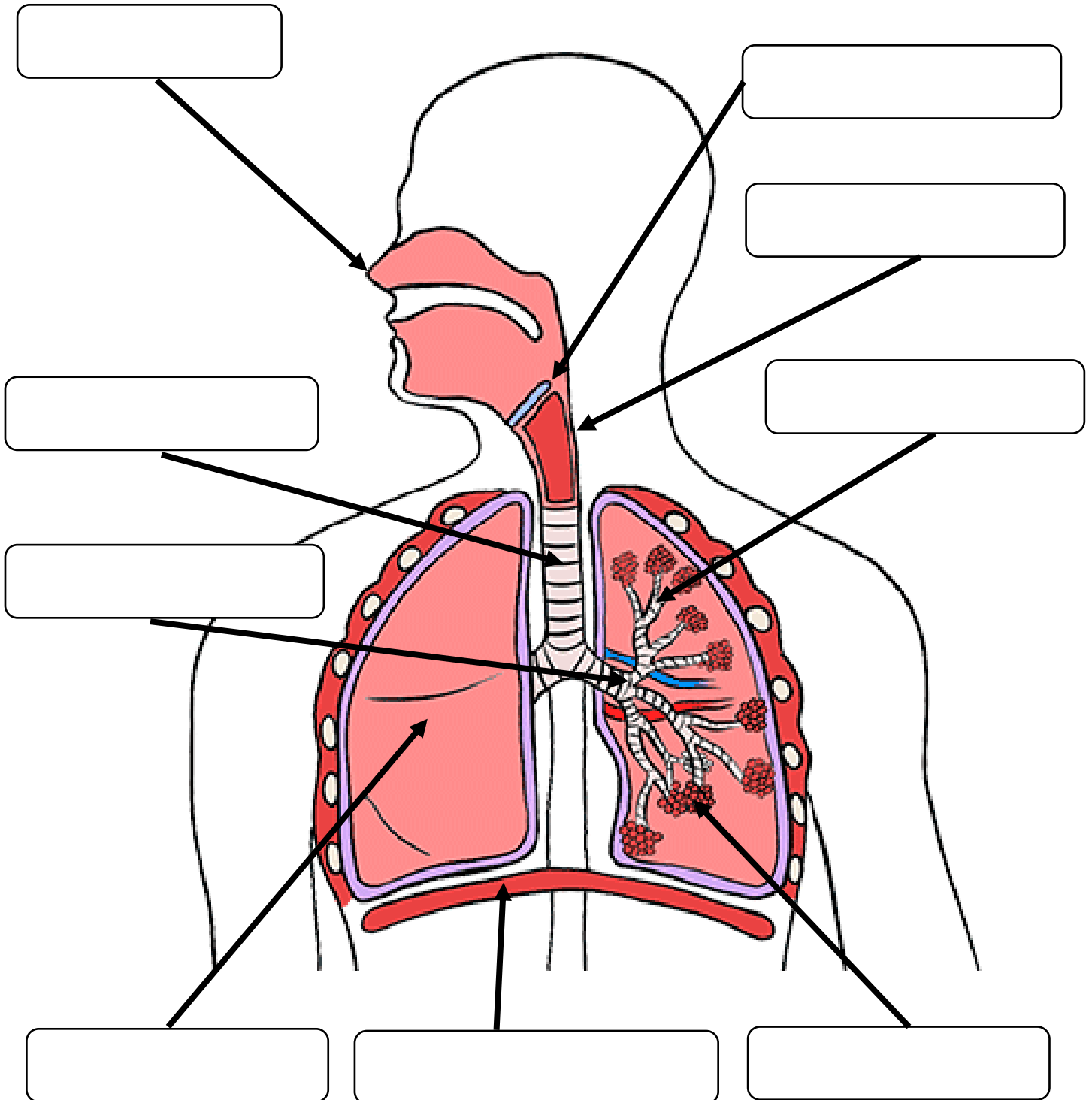
Ciencias Naturales "Sistema respiratorio"

Observa el siguiente video

<https://www.youtube.com/watch?v=GkvsYNseAT0>



Escribe el nombre de cada uno de los órganos que conforman el sistema respiratorio



Historia "La guerra de México con Estados Unidos"

Aprendizaje esperado: Reconoce las causas y consecuencias de la separación de Texas y de la guerra con Estados Unidos

Observa el video y completa con las palabras que hagan falta:

<https://www.youtube.com/watch?v=I7-BICyV00s>



1.- Escribe tres situaciones internas de México:

2.- El presidente _____, presidente de los Estados Unidos, en _____ quien se interesó en _____ y _____, comenzó a invadir el territorio Mexicano, por lo que en _____ pide al Senado Norteamericano declarar la Guerra a _____.

3.- En el recuadro escribe las fechas en las que se llevó a cabo la intervención estadounidense en territorio mexicano:

4.- En los alrededores de la Ciudad de México, en _____, _____ y Chapultepec se liberaron batallas en las que fue _____ el ejército _____.

5.- En el tratado de _____, México acepta la pérdida de Nuevo _____ y _____.

6.- Una de las consecuencias que dejó la Guerra con Estados Unidos fue la venta del territorio de _____ en 1853.



Geografía "División Política de los Continentes"

Aprendizaje esperado: Valora la diversidad de paisajes de los continentes a partir de sus componentes naturales, sociales, culturales, económicos y políticos.

Observa el video y contesta:

https://www.youtube.com/watch?v=y87lpLSjZ_Q



1.- Encierra los documentos oficiales que necesitas tramitar para viajar a otro país:



2.- Los países en el mundo se distribuyen en cinco continentes: _____,
 _____, _____, _____, _____.

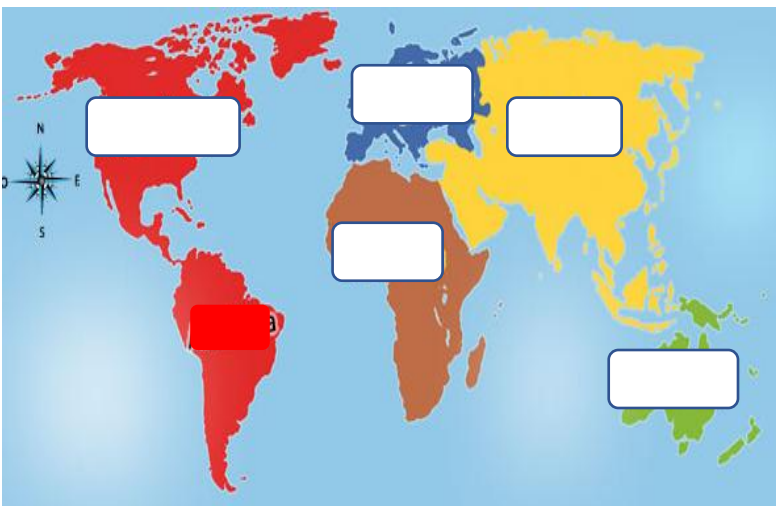
3.- El continente Americano es el más _____ del mundo y el _____ más grande.



4.- Las _____ se establecen por medio de _____ entre los países. Los límites que determinan las fronteras de los países pueden ser _____ o _____.

5.- Escribe en los recuadros los nombres de los países y océanos con los que colinda México:

6.- Escribe el nombre de los continentes



7.- Escribe las fronteras naturales y artificiales de México

Frontera natural	Frontera artificial

Formación Cívica "Los derechos para proteger la dignidad"

Aprendizaje esperado: Promueve acciones para un trato digno, justo y solidario en la escuela y la comunidad





Observa el siguiente video y completa con lo que hace falta:

<https://www.youtube.com/watch?v=sya5WcdTROl>

1.- La _____ humana es el _____ que tiene cada ser humano, de ser _____ y _____ como ser _____ como ser social, con sus características y condiciones _____, por el solo hecho de ser una _____.

2.- Escribe el nombre de los que participan para proteger tu dignidad:



3.- Escribe como las personas ayudan, cuidan y protegen tu identidad:

- ✓ Identificar _____
- ✓ Conocer _____
- ✓ Reconocer _____
- ✓ Decidir _____
- ✓ Pedir _____

4.- ¿Cuáles son las tres instituciones encargadas de protegerte y proteger tus derechos y tu dignidad?

- ✓ _____
- ✓ _____
- ✓ _____

5.- Escribe 4 derechos que tienes:

24 de octubre

Día de las Naciones Unidas

Observa el siguiente video y después responde las preguntas:

- <https://www.youtube.com/watch?v=YrdiEBPzUes>



¿En qué fecha se creó la ONU?

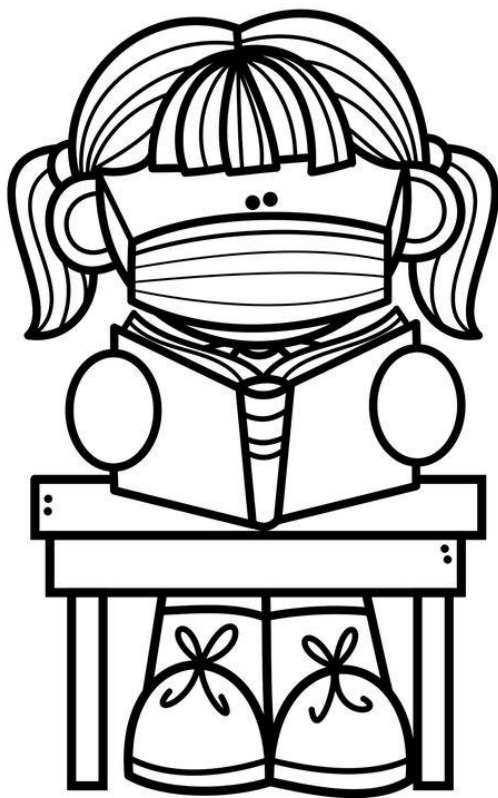
¿En qué país y ciudad se creó?




¿Cuál ha sido uno de los logros más destacados de la ONU?

ACTIVIDADES DE REFORZAMIENTO

Semana 9: 25 al 29 de octubre



5°



Profa. Kempis



Profé Carbajal

Español "Documentos que nos dan identidad"

Aprendizaje esperado: Reconoce documentos oficiales que se relacionan con su identidad. Observa el siguiente video y después responde las preguntas:

➤ <https://www.youtube.com/watch?v=dsnYaGvE-Q>



1. El acta de _____ es uno de los _____ más importantes, ya que en ella estás _____ nuestros _____. Además, es el _____ documento que reciben los niños al _____.

2. ¿Por qué es importante el acta de nacimiento?

3. Otro documento personal importante es la Cartilla de _____. Se usa para el _____ de las _____ y para tener un _____ de las mismas.

4. Te ayuda a _____ el esquema de _____ y saber qué _____ requieres de acuerdo a la _____.

5. Hay _____ diferentes cartillas de _____ y dependen de las _____.

6. La _____ de vacunación tiene tus _____, tu _____, estado de _____ y el _____ de vacunación.

7. ¿Cuántas cartillas de vacunación existen? _____

8. Anota las edades que abarcan:

Verde	Azul cielo	Rosa y azul marino	Café

Matemáticas "Sucesiones"



Observa el siguiente video y después resuelve los siguientes ejercicios:

➤ <https://www.youtube.com/watch?v=Wi7Hg591VPo>

- Una _____ es un _____ ordenado de _____ (_____, _____, _____, etcétera) que responden a una _____ o regla de _____.
- Tienen la _____ de que hay un _____ que permite obtener todas las _____ del conjunto.
- ¿Cómo se les llama a los elementos de una sucesión? _____
- Cómo se obtiene cada término?

- ¿Qué es una sucesión compuesta? _____
- Completa las siguientes sucesiones compuestas dibujando los elementos que hacen falta en cada término.



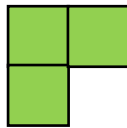
Término 1



Término 2



Término 3




Término 4




Término 5

Término 6


Término 7



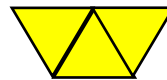
Término 1



Término 2



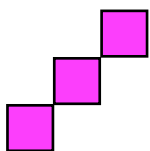
Término 3



Término 4

Término 5


Término 6



Término 1



Término 2



Término 3



Término 4

Término 5

Término 6

¡No se te olvide seguirnos en nuestras redes para más material!

<https://www.facebook.com/Profa-Kempis-105813251593792>



<https://www.youtube.com/channel/UC4mKdEYyM-zZZmkjRsaYENw>



https://www.youtube.com/channel/UC_HhjSoJRyfHVrkqoYHEi8w

