

Cuarto grado

Semana del 25 al 29 de octubre



Nombre: _____

Grado: _____ **Sección:** _____

GEOGRAFIA: "Distribución de las regiones sísmicas en México"

Haga clic en el siguiente enlace para resolver correctamente la actividad

<https://youtu.be/4nqjMOs9fqc>

Son las alteraciones o formas en las que se presenta la corteza terrestre

a) Volcanes

b) Montañas

c) Relieve

¿Cómo se le llama la capa más delgada que está en la superficie del globo terrestre?

¿Qué elementos viven y se desarrollan en la corteza terrestre?

Los relieves se encuentran en dos tipos de corteza ¿Cuáles son?

¿Cuál es la corteza que se encuentra bajo los océanos?

¿Cuál es la corteza que emerge de los océanos?

Exriba dos causas de la formación de los relieves en la corteza terrestre

¿Por qué en la corteza oceánica los relieves son redondos?

¿Por qué al relieve sierra se le llama así?

El significado etimológico de meseta es:

¿Por qué la meseta se considera una altiplanicie?

¿A qué se le llama meseta altiplano?

¿Qué permite la formación de valles?

LENGUA MATERNA: “Los trabalenguas”

Haga clic en el siguiente enlace para resolver correctamente la actividad

<https://youtu.be/C1qmUR9yX1M>

¿Cuál es la razón de llamarse los trabalenguas a este tipo de textos?

¿Por qué está caracterizado los trabalenguas?

¿Cuál es el objetivo específico de realizar trabalenguas?

Escriba literalmente el trabalenguas del huevo en el desayuno

¿Cuál es el reto final de un trabalenguas?

¿Cuál es la ventaja al practicar trabalenguas?

En el trabalenguas de los trajes, ¿Quién trae los trajes y cuántos trajo?

Según el trabalenguas ¿Cuántas planchas usa Pancha para planchar?

Completa el siguiente trabalenguas:

Un _____ muy _____ creo un _____
muy _____ ni el mejor _____ ni el mas _____
Pudo _____ aquel _____ tan _____.

LENGUA MATERNA: "La rima"

Haga clic en el siguiente enlace para resolver correctamente la actividad

https://youtu.be/perebm_dJCM

Complete la definicion de rima:

Son _____ que _____ un _____ común
al _____

¿Para que sirven las rimas?

La rima es una semejanza entre:

La rima es utilizada en:

¿Cómo podemos identificar palabras que riman?

¿Qué es un verso?

¿Por qué esta constituido un verso?

¿Qué es una cuarteta?

Escribe una rima:

MATEMATICAS:

Haga clic en el siguiente enlace para resolver correctamente la actividad

<https://youtu.be/BvvNYSoDXgc>

Complete la definicion de decimo

Es _____ Parte _____ una _____

¿Con que numero se representa el decimo?

Complete la definicion de centesimo

Es _____ de _____ en _____ partes

¿Con que numero se representa el centesimo?

Completa la definicion de milesimo

Es _____ parte _____ la _____ metro.

¿Con que numero se representa el milesimo?

¿Cuántos milesimos hay en un metro?

¿Cuántos centesimos hay en un metro?

¿Cuántos decimos hay en un metro?

¿Cómo convertir un decimo a decimal?

¿Cómo convertir un centesimo a fraccion?

¿Cómo convertir un milesimo a fraccion?

SOCIOEMOCIONAL

Haga clic en el siguiente enlace para resolver correctamente la actividad

https://youtu.be/h2lhO_qs7o0

¿Como podemos identificar nuestras fortalezas y debilidades?

Complete el siguiente cuadro identificando sus fortalezas y debilidades

MIS FORTALEZAS	MIS DEBILIDADES

¿Que se considera un conflicto?

Escribe una práctica muy importante a la hora de solucionar un conflicto:

¿Como puedes reconocer tus fortalezas y tus limitantes?

¿Qué es lo primero que NO debes hacer ante los conflictos que se te puedan presentar?

¿Qué cambios se pueden lograr enfrentar los problemas propositivamente?

¿Como podemos ayudar a otros a solucionar sus conflictos?

DIA DE LOS MUERTOS

Haga clic en el siguiente enlace para resolver correctamente la actividad

<https://youtu.be/txTGxO0zmL4>

¿Qué día se celebra el día de los santos difuntos y los difuntos niños?

¿Cuál es el objetivo de celebrar el día de los muertos?

¿Cuál es el día dedicado a los muertos adultos?

¿Cómo se llama el lugar donde según la fe católica al fallecer, las almas se purifican?

¿Cuánto tiempo utilizaban los prehispánicos en la celebración del día de los muertos?

¿Cuál era el momento y los meses más importante para los prehispánicos al celebrar el día de los muertos?

¿De quienes era la creencia que las almas de los muertos tenían cuatro destinos?

Escriba los cuatro destinos en que las almas iban después de morir:




1 _____ 2 _____

3 _____ 4 _____

¿Por quién eran amamantados los bebés muertos al llegar al chichihuacuauhco?

¿Por qué el día de los muertos sigue aún vivo en su tradición aún con la llegada de los españoles?

Coloree la siguiente ilustración:



COMPRESION DE CUENTOS:

Haga clic en el siguiente enlace para resolver correctamente la actividad

<https://youtu.be/C59NFaVSaEk>

¿Dónde vive Drácula?

¿Qué hace Drácula durante el día?

¿Qué hace Drácula durante la noche?

¿Quiénes serán sus próximas víctimas?

¿Drácula sabía que había un eclipse?

¿Por qué Drácula se queda en la casa de el panadero y su mujer?

¿Por qué Drácula se mete en el armario?

¿Quiénes también llegan a la casa?

¿Quién provoco la muerte de Drácula?

¿Qué le causó la muerte a el conde Drácula?

Elabora un resume de al menos 15 lineas

Colorea la siguiente imagen:



SUSCRIBETE A ESTOS CANALES EDUCATIVOS

ESMERALDA TE ENSEÑA:

https://www.youtube.com/channel/UCToR5eo1CpfHQkB9_JJOuNg

ESMERALDA TE CUENTA UN CUENTO

<https://www.youtube.com/channel/UCimVISx73dEB1fxrn5tWrww>

PAGINA DE FACEBOOK

<https://www.facebook.com/Esmeralda-te-ense%C3%B1a-106033734606664/>

