

# Segundo grado

*Semana del 25 al 29 de octubre*



**Nombre:** \_\_\_\_\_

**Grado:** \_\_\_\_\_ **Sección:** \_\_\_\_\_

# **LENGUA MATERNA: “Busco información y redacto notas informativas”**

Haga clic en el siguiente enlace para resolver correctamente la actividad

<https://youtu.be/4aEPMZ25GyA>

¿Qué es una nota informativa?

---

---

¿Cuál es el objetivo de las notas?

---

---

Mencione algunos elementos de la nota:

---

---

---

¿Qué tipo de notas informativas existen?

---

---

¿Qué tipo de información puede comprender una nota informativa?

---

---

¿Cuáles son los pasos para redactar una nota informativa?

1. \_\_\_\_\_
2. \_\_\_\_\_
3. \_\_\_\_\_
4. \_\_\_\_\_
5. \_\_\_\_\_
6. \_\_\_\_\_
7. \_\_\_\_\_
8. \_\_\_\_\_
9. \_\_\_\_\_
10. \_\_\_\_\_

## LENGUA MATERNA: "Elección de coplas"

Haga clic en el siguiente enlace para resolver correctamente la actividad

[https://youtu.be/perebm\\_dJCM](https://youtu.be/perebm_dJCM)

¿Qué son las coplas?

---

---

Escriba un ejemplo de copla

---

---

Lee las coplas y arrastra las palabras y la imagen que corresponda en cada una para completarlas.



Allá arriba en aquel   
Hay un pozo de agua clara  
donde se baña la virgen  
los  y la cara.

Eche coplas,  
  
échelas de tres   
que si acaso me  
ganaran  
Las  otra vez.



Los sapos en la   
Cuando sienten aguacero  
Unos piden la cachucha  
Y otros piden el

soy señora  
Yo no niego mi color  
Que entre   
Y azucenas  
La morenita es mejor.



cantamos

alto

laguna

en tres

sombrero

piecitos

Morenita

compañeros,

rosas



# INGLÉS: “Conozcamos las partes del cuerpo”

Haga clic en el siguiente enlace para resolver correctamente la actividad

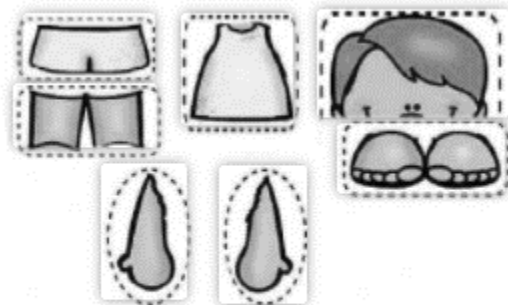

<https://youtu.be/sITIMO93R60>

Relaciona cada imagen con su palabra correspondiente



•	shoulder
•	body
•	feet
•	leg
•	arm
•	knee
•	ches
•	fingers
•	torso
•	hand

Recorta y pega las piezas en el cuerpo del niño




## MATEMÁTICAS: “Sumas de dos cifras”

Haga clic en el siguiente enlace para resolver correctamente la actividad

<https://youtu.be/IUUihvo7v5Y>

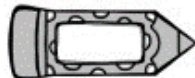
COLOREA EL SIGUIENTE DIBUJO SEGÚN EL RESULTADO DE LAS SUMAS



### INSTRUCCIONES DE DIBUJO




COLOR VERDE RESULTADO 8,4 Y 13



COLOR GRIS RESULTADO 12,5 Y 14



COLOR ROSA RESULTADO 10 Y 6



COLOR AMARILLO RESULTADO 9 Y 15



COLOR MARRÓN RESULTADO 7 Y 3



COLOR AZUL RESULTADO 16 Y 11

¿Qué es la suma?

---

---

¿Para que sirven las sumas?

---

---

$$\begin{array}{r} + 23 \\ 11 \\ \hline \end{array}$$

$$\begin{array}{r} + 24 \\ 12 \\ \hline \end{array}$$

$$\begin{array}{r} + 25 \\ 13 \\ \hline \end{array}$$

$$\begin{array}{r} + 26 \\ 42 \\ \hline \end{array}$$

$$\begin{array}{r} + 27 \\ 32 \\ \hline \end{array}$$

$$\begin{array}{r} + 28 \\ 71 \\ \hline \end{array}$$

$$\begin{array}{r} + 29 \\ 10 \\ \hline \end{array}$$

$$\begin{array}{r} + 30 \\ 21 \\ \hline \end{array}$$

$$\begin{array}{r} + 31 \\ 68 \\ \hline \end{array}$$

$$\begin{array}{r} + 32 \\ 35 \\ \hline \end{array}$$

$$\begin{array}{r} + 33 \\ 36 \\ \hline \end{array}$$

$$\begin{array}{r} + 34 \\ 37 \\ \hline \end{array}$$

SOCIOEMOCIONAL

Haga clic en el siguiente enlace para resolver correctamente la actividad

[https://youtu.be/h2lhO\\_qs7o0](https://youtu.be/h2lhO_qs7o0)

¿Como podemos identificar nuestras fortalezas y debilidades?

Complete el siguiente cuadro identificando sus fortalezas y debilidades

MIS FORTALEZAS	MIS DEBILIDADES

¿Que se considera un conflicto?

Escribe una práctica muy importante a la hora de solucionar un conflicto:

¿Como puedes reconocer tus fortalezas y tus limitantes?

¿Qué es lo primero que NO debes hacer ante los conflictos que se te puedan presentar?

¿Qué cambios se pueden lograr enfrentar los problemas propositivamente?

¿Como podemos ayudar a otros a solucionar sus conflictos?

## **DIA DE LOS MUERTOS**

Haga clic en el siguiente enlace para resolver correctamente la actividad

<https://youtu.be/txTGxO0zmL4>

¿Qué día se celebra el día de los santos difuntos y los difuntos niños?

---

¿Cuál es el objetivo de celebrar el día de los muertos?

---

¿Cuál es el día dedicado a los muertos adultos?

---

¿Cómo se llama el lugar donde según la fe católica al fallecer, las almas se purifican?

---

¿Cuánto tiempo utilizaban los prehispánicos en la celebración del día de los muertos?

---

¿Cuál era el momento y los meses más importante para los prehispánicos al celebrar el día de los muertos?

---

¿De quienes era la creencia que las almas de los muertos tenían cuatro destinos?

---

Escriba los cuatro destinos en que las almas iban después de morir:

1 \_\_\_\_\_ 2 \_\_\_\_\_

3 \_\_\_\_\_ 4 \_\_\_\_\_

¿Por quién eran amamantados los bebés muertos al llegar al chichihuacuauhco?





---

¿Por qué el día de los muertos sigue aún vivo en su tradición aún con la llegada de los españoles?

---



Coloree la siguiente ilustración:



## **COMPRESION DE CUENTOS:**

Haga clic en el siguiente enlace para resolver correctamente la actividad

<https://youtu.be/C59NFaVSaEk>

**¿Dónde vive Drácula?**

---

**¿Qué hace Drácula durante el día?**

---

**¿Qué hace Drácula durante la noche?**

---

**¿Quiénes serán sus próximas víctimas?**

---

**¿Drácula sabía que había un eclipse?**

---

**¿Por qué Drácula se queda en la casa de el panadero y su mujer?**

---

**¿Por qué Drácula se mete en el armario?**

---

**¿Quiénes también llegan a la casa?**

---

**¿Quién provoco la muerte de Drácula?**

---

**¿Qué le causó la muerte a el conde Drácula?**

---

Elabora un resume de al menos 15 lineas

---

---

---

---

---

---

---

---

---

---

---

---

---

---

---

---

---

---

---

---

---

---

---

Colorea la siguiente imagen:



# SUSCRIBETE A ESTOS CANALES EDUCATIVOS

## **ESMERALDA TE ENSEÑA:**

[https://www.youtube.com/channel/UCToR5eo1CpfHQkB9\\_JJOuNg](https://www.youtube.com/channel/UCToR5eo1CpfHQkB9_JJOuNg)

## **ESMERALDA TE CUENTA UN CUENTO**

<https://www.youtube.com/channel/UCimVISx73dEB1fxrn5tWrww>

## **PAGINA DE FACEBOOK**

<https://www.facebook.com/Esmeralda-te-ense%C3%B1a-106033734606664/>

