



APRENDE EN 



CUADERNO

De actividades

Cuarto grado

Semana 33:

Del 10 al 14

de mayo  



TERCER

TRIMESTRE



MTROJP





Mis actividades




Lunes 10 de mayo.

Materia/Área	Programa de TV	Anexos
Vida saludable	Mi actividad física	Anexo: Mi actividad física
Formación Cívica y Ética.	¿Para qué sirve el pago de impuestos?	Anexo: Los impuestos
Ed. Socioem.	¡En la torre del miedo!	Anexo: Mis miedos
Ciencias Naturales	Los efectos del calor en los materiales	Anexo: El calor
Artes	Instalación: Las raíces que se instalan en mi corazón	Anexo: Para mamá



PIENSO:

Tenia \$125, si me gasté \$66. ¿Cuánto dinero me sobró?



R:

Anexo: Mi actividad física V. Saludable

● Lee la explicación:

Los beneficios de la actividad física se observan en la vida diaria, por ejemplo, cuando caminamos o corremos, mejoramos nuestra respiración.

● Realiza la actividad:

Escribe cómo te sientes física y emocionalmente después de cada actividad.

Actividad	¿Cómo me siento después de practicarlo?
Correr	
Caminar	
Andar en bicicleta	
Bailar	
Nadar	

● Reflexiona

Comenta con tu familia sobre los beneficios de mantenernos activos durante el día.




Anexo: Los impuestos Formación C. y É.

● Lee la explicación:

Todos pagamos impuestos, estos sirven para que vivamos en un lugar mejor. El gobierno es el encargado de administrarlo en las necesidades de la sociedad.

● Realiza la actividad:

Escribe por qué consideras que es importante que nuestros impuestos se inviertan en:

 <p>Educacion</p>	
 <p>Salud</p>	
 <p>Parques y espacios públicos</p>	

● Lee la explicación:

El miedo se caracteriza por una sensación de peligro, esta puede ser real o imaginaria. Se presenta en distinta intensidad como lo es el terror, el susto, horror o pánico.

● Realiza la actividad:

Relaciona correctamente la definición con la intensidad del miedo. Colorea del mismo color.

Temor

Es una impresión momentánea producida por algo inesperado y repentino.

Susto

Es una forma mas intensa del miedo y es causado por algo terrible y espantoso.

Miedo

Es una sospecha de que algo desagradable o perjudicial puede suceder.

Horror

Es el miedo más grande, una ansiedad intensa que hace que el cerebro se active de manera involuntaria.

Pánico

Emoción caracterizada por una intensa sensación desagradable provocada por la percepción de un peligro.

● Lee la explicación:

Desde tiempos antiguos la humanidad ha buscado la manera de sobrevivir aprovechando los recursos naturales para obtener alimentos, protegerse y vivir mejor.

● Realiza la actividad:

Con la información de la página 117-119 de tu libro, contesta las siguientes preguntas.

Pregunta	Respuesta
Durante la revolución industrial se inventaron distintas máquinas ¿con qué funcionaban?	
Un ejemplo de estas máquinas fue:	
¿En qué consistía la marmita, inventada por Denis Papin?	
¿Cuál fue la sustitución de las maquinas de vapor?	

● Realiza la actividad:

¿Qué es la Eolípila? _____

● Lee la explicación:

Hoy es 10 de mayo, día en que celebramos a nuestra mamá, para reconocerle todo su esfuerzo, realiza una manualidad, dibujo u obra para este día. Trata de utilizar materiales reciclados o que tengas a tu alcance. Observa los ejemplos.





Mis actividades




Martes 11 de mayo.

Materia/Área	Programa de TV	Anexos
Historia	El descontento social en Nueva España I	Anexo: El descontento social
Matemáticas	Contorno y superficie	Anexo: Área
Español	¡Cada recurso gráfico con su texto!	Anexo: Nota enciclopédica final
Geografía	¡Mira lo que me encontré viajando por la región Sureste de México	Anexo: El sureste

PIENSO:



Una fuerte tormenta rompió 89 tejas del techo de una casa, si el techo tenía 243 tejas ¿Cuántas tejas le quedaron?



R:

● Lee la explicación:

Debido a que la sociedad novohispana estaba dividida en grupos dependiendo de su origen, esto originó que hubiera una sociedad muy desigual.

● Realiza la actividad:



Lee la información de la página 139 y 140 de tu libro y colorea las afirmaciones que sean correctas.

Durante el tiempo que duró el Virreinato hubo diversas rebeliones organizadas por indígenas, esclavos africanos y criollos.

Las rebeliones se originaron porque los indígenas gozaban de privilegios.

El descontento social fue causado porque los indígenas dominaban el gobierno y a la sociedad.

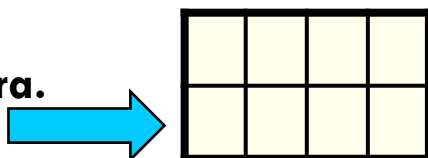
Los esclavos africanos lograron negociar establecerse de manera libre en el poblado que llamaron San Lorenzo de los Negros.

En la península de Yucatán estallaron rebeliones mayas permanentes contra los españoles.

Algunas rebeliones propiciaron el establecimiento de acuerdos entre las autoridades españolas y los indígenas.

● Analiza la explicación:

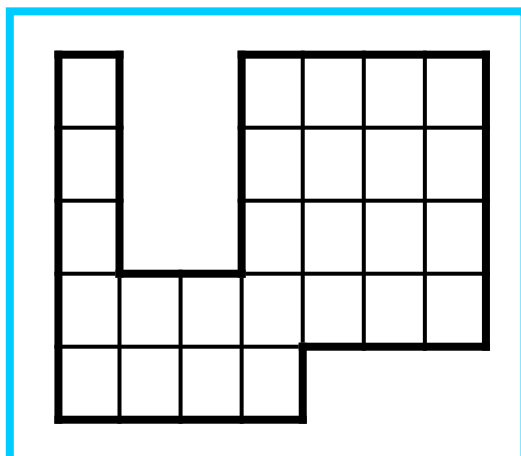
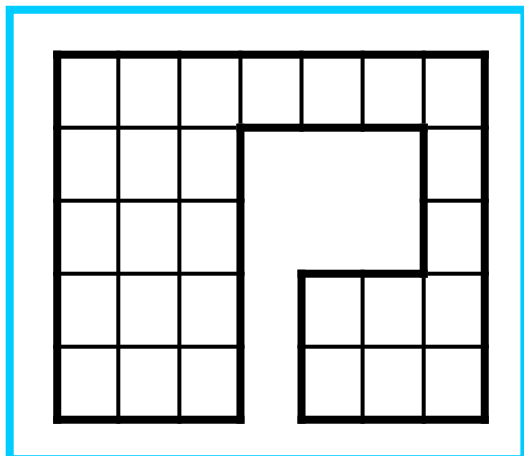
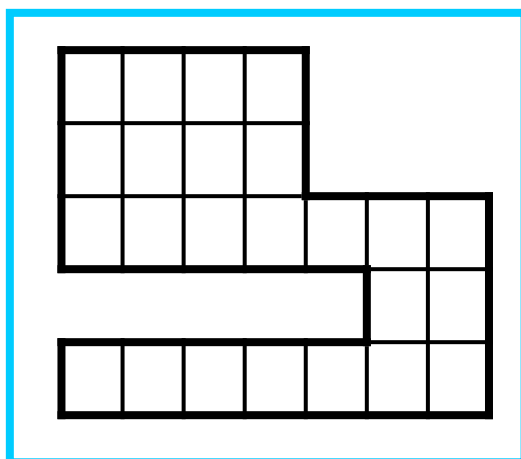
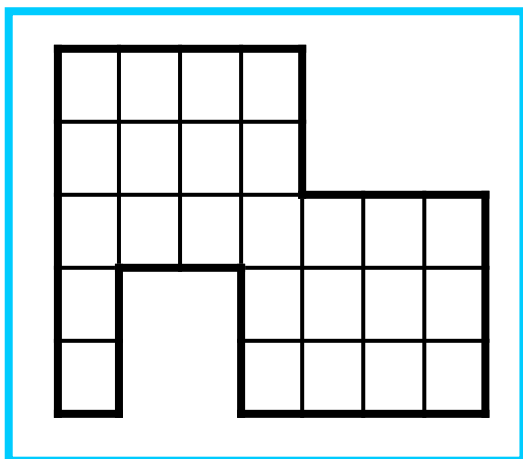
El área es la superficie de una figura.
Lo que está coloreado de amarillo.



● Resuelve la actividad:



Colorea de amarillo la figura que tiene el área mayor y de rojo la que tiene el área menor.



Anexo: Nota enciclopédica final **Español**

● **Lee la explicación:**

El objetivo de una nota enciclopédica es describir un hecho, objeto o concepto. Pueden incluir gráficos, fotografías o ilustraciones para completar la información.

● **Realiza la actividad:**

Con la información que has obtenido del tema que seleccionaste, arma tu nota enciclopédica. Verifica que cuente con los siguientes elementos. En caso que te falte uno, agrégalo.

Indicador	Si	No
Mi nota enciclopédica tiene un título.		
La información esta organizada en subtemas.		
La información es clara.		
Utilizo recursos gráficos como imágenes o diagramas.		

● **Contesta**

Hay un error ortográfico en la explicación. Encuéntralo y corrígelo.

● Lee la explicación:

La Región Sureste comprende a los estados de Oaxaca, Veracruz, Chiapas, Tabasco, Campeche, Yucatán y Quintana Roo. Considera el sur y este del país.

● Realiza la actividad:

Ubica y colorea en el mapa los estados que comprenden el sureste de México.



● Contesta

¿Has visitado alguno de los estados del noroeste de México? ¿Cuál? _____



Mis actividades




Miércoles 12 de mayo.

Materia/Área	Programa de TV	Reforzamiento
Matemáticas	Relación perímetro- área	Anexo: Perímetro área
Ciencias Naturales	Calor: funcionamiento de aparatos y conservación de alimentos	Anexo: Funcionamiento con calor
Historia	El descontento social en Nueva España II	Anexo: El descontento social II
Español	La Llorona en la tradición oral	Anexo: Narraciones

PIENSO:



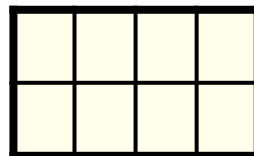
Adrián tiene 98 figuritas y le va a regalar 49 a su hermanito. ¿Con cuántas figuritas se va a quedar Adrián?



R:

● Analiza la explicación:

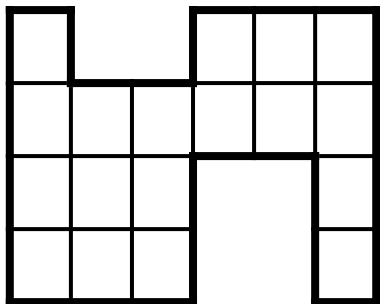
El perímetro es el contorno de una figura.  Se obtiene sumando la longitud de sus lados.



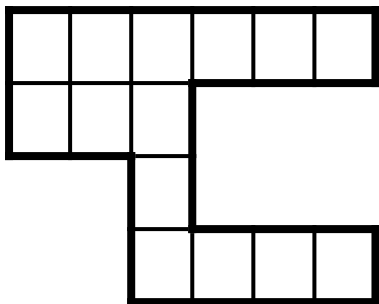
● Resuelve la actividad:



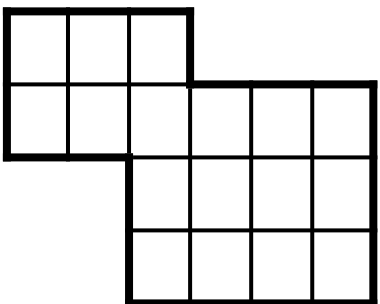
Considerando que cada cuadro mide 1 cm de cada lado, determina el perímetro de cada figura.



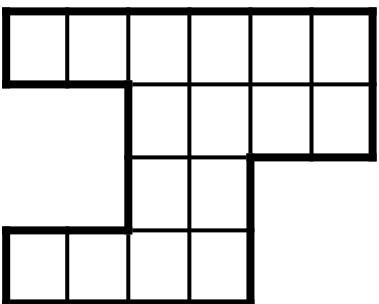
Perímetro: _____ cm



Perímetro: _____ cm



Perímetro: _____ cm



Perímetro: _____ cm

Anexo: Funcionamiento con calor Ciencias N.

● Lee la explicación:

Como hemos visto, la energía permite que los aparatos funcionen. La energía se transforma en calor y esto hace posible que los objetos cumplan su función.

● Realiza la actividad:

Encierra los aparatos que en su funcionamiento interviene el calor.



● Reflexiona

¿En qué otro proceso de la vida diaria necesitamos el calor?

○ Lee la explicación:

A pesar que la mayoría de las rebeliones fueron para exigir mas derechos para los grupos indígenas, también hubo rebeliones de grupos privilegiados que exigían más derechos.

○ Realiza la actividad:

Lee la información de la página 140 de tu libro y contesta las preguntas.

Pregunta	Respuesta
Él encabezó una rebelión en la que alegaba que los hijos de los conquistadores no gozaban de los privilegios que tenían sus padres.	
¿Qué significa la palabra motín?	
¿Cuál fue la causa de las protestas que hubo en 1692 en la Ciudad de México?	
En la época novohispana ¿Cómo podían obtener su libertad los esclavos?	

● Lee la explicación:

Un texto narrativo presenta una historia que tiene un inicio o planteamiento, un desarrollo o nudo y un desenlace.

● Realiza la actividad:



Elije una leyenda, léela y después completa la siguiente tabla.

Nombre de la leyenda	
----------------------	--

Características	Leyenda
Tipo de personajes	
Lugar donde se desarrolla la historia.	
Planteamiento	
Nudo	
Desenlace	



Mis actividades




Jueves 13 de mayo.

Materia/Área	Programa de TV	Reforzamiento
Geografía	¿Calidad de vida? ¿Con qué se mide?	Anexo: La calidad de vida
Matemáticas	Memorama	Anexo: Áreas y perímetros
Español	Fábulas de fábula	Anexo: Narraciones: cuentos

PIENSO:



En la primera semana de primavera a una planta le nacen 42 hojas, en la segunda 27 hojas y en la tercera 83 hojas. ¿Cuántas hojas le han nacido en total?



R:

Anexo: La calidad de vida Geografía

● Lee la explicación:

La calidad de vida esta relacionada con los ingresos, vivienda, seguridad, empleo, educacion, salud y ambiente limpio. Estas condiciones son imprescindibles para tener una calidad de vida adecuada.

● Realiza la actividad:

Ubica en cada imagen el nombre del factor al que hace referencia.



Salud

Medio Ambiente

Empleo

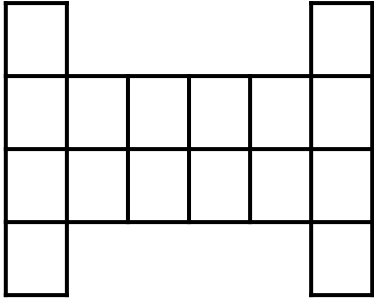
Vivienda

Ingresos

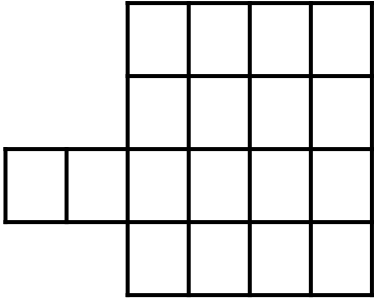
Educación

Resuelve la actividad:

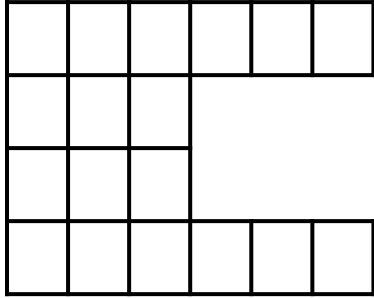
Considerando que cada cuadro mide 1 cm de cada lado, determina el área y perímetro de cada figura.



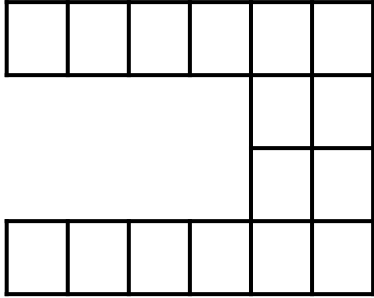
Área: _____ cm²
Perímetro: _____ cm



Área: _____ cm²
Perímetro: _____ cm



Área: _____ cm²
Perímetro: _____ cm



Área: _____ cm²
Perímetro: _____ cm

● Lee la explicación:

Un cuento es una narración breve que puede ser basado en hechos reales o ficticios. Cuenta con una trama y personajes.

● Realiza la actividad:



Elige un cuento, léelo y completa la siguiente tabla.

Nombre del cuento:	
¿De qué trata?	
¿Quiénes son los personajes?	
¿En donde sucede la historia?	
¿Cuál es el conflicto?	
¿Cómo se resuelve?	
¿La historia se narra en presente, pasado o futuro?	



Mis actividades




Viernes 14 de mayo.

Materias	Programa de TV	Anexos
Vida saludable	Mejoro mi salud	Anexo: Mejor mi salud
Matemáticas	Las costuras de Paula	Anexo: Perímetro de rectángulo
Lengua Materna	Mi glosario de neologismos	Anexo: Narraciones: leyendas
Artes	El corno francés de Gerardo Díaz	Anexo: ¿Cuál es?
Educación Socioem.	La intensidad del miedo	Anexo: Cuando tengo miedo



PIENSO:

Valeria compró 3 bolsas de caramelos. Si cada bolsa le costó \$45 ¿Cuánto pagó en total?



R:


● Lee la explicación:

La actividad física beneficia nuestra salud.

Conforme vamos creciendo podemos practicar más actividades físicas que requieren mayor esfuerzo.

● Realiza la actividad:

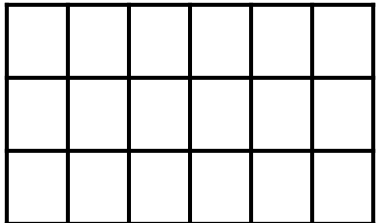
Dibuja y describe una actividad física que antes no podías o se te dificultaba realizar y que ahora ya puedes hacerlo.



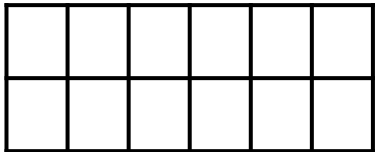
Anexo: Perímetro de rectángulo

● **Resuelve la actividad:** 


Encuentra el perímetro de los siguientes rectángulos.
Considera que cada cuadro mide 1 cm de cada lado.




Perímetro: ____ cm



Perímetro: ____ cm



Perímetro: ____ cm



Perímetro: ____ cm

● Lee la explicación:

Una leyenda es una narración sobre hechos naturales, sobrenaturales o una mezcla de ambos que se transmite de generación en generación de forma oral o escrita.

● Realiza la actividad:



Lee la leyenda de las páginas 111-112 de tu libro y describe a cada uno de los personajes.

Personaje	Descripción
Doña Carmen	
Don Luis	
El padre de doña Carmen	
Doña Brígida	
¿Cómo es el lugar donde están?	

● Leo y corrijo:



Hay un error ortográfico en la explicación. Busca y corrige.

● Lee la explicación:

La gran variedad de instrumentos hace posible una gran variedad de sonidos. Esto lo podemos identificar al escuchar a una orquesta de música.

● Realiza la actividad:



Encierra del color que se te indica de acuerdo a la clasificación de los instrumentos. Puedes apoyarte de la información del anexo de la semana pasada.

Idiófonos

De cuerdas

Membranófono

Aerófono



Anexo: Cuando tengo miedo Ed. Socioem.

● Lee la explicación:


El miedo puede ponerte alerta ante situaciones de amenaza o peligro. Es importante aprender a controlar el miedo, esto nos permitirá reaccionar ante un peligro.

● Realiza la actividad:

Escribe una situación que te haya causado temor, susto, horror o pánico. Describe lo que sentiste y cómo lograste controlar tus miedos o como lo podrías haber controlado.

¡Felicidades!

Has terminado las actividades de la semana.



Continúa esforzándote y te irá muy bien en cuarto grado.

Valora tu desempeño, colorea según tu percepción.



Colorea **“me encanta”** si lograste terminar todas las actividades.