
















# ANTERIOR Y POSTERIOR


¡UNO MÁS, UNO MENOS!

LAS FICHAS DE DOMINÓ TE INDICAN UN NÚMERO. LA PARTE DE LA IZQUIERDA INDICA LAS DECENAS Y LA DE LA DERECHA, LAS UNIDADES. DE ACUERDO A ESTO, COLOCA EN LA LÍNEA PUNTEADA DE LA IZQUIERDA EL NÚMERO ANTERIOR Y EN LA DERECHA EL POSTERIOR.





RECORRE LOS NÚMEROS CON TU DEDO ÍNDICE SIGUIENDO LAS DIRECCIONES INDICADAS. LUEGO COLORÉALOS. POR ÚLTIMO, DELINEA LOS NÚMEROS Y COMPLETA LOS RENGLONES.



70 70 70

71 71 71

72 72 72

73 73 73

74 74 74


75 75 75

76 76 76

77 77 77

78 78 78


79 79 79





## ¡CUMPLEAÑOS!

LA MAMÁ DE MARTÍN HIZO CUPCAKES PARA ENTREGAR A LOS 76 INVITADOS AL CUMPLEAÑOS. AYÚDALA A CALCULAR SI TODAVÍA LE FALTA HACER ALGUNOS MÁS. PARA ESTO, SEPÁRALOS EN GRUPOS DE A 10 ENCERRÁNDOLOS EN UN CÍRCULO. LUEGO, COMPLETA LAS ORACIONES. AL FINALIZAR PUEDES COLOREARLOS.



HAY EN TOTAL  GRUPOS DE 10 CUPCAKES


Y  CUPCAKES QUEDAN SIN AGRUPAR.

EN TOTAL HAY  CUPCAKES

Y FALTAN  PARA COMPLETAR TODOS LOS INVITADOS.




# NÚMEROS ESCRITOS



¡A COMPLETAR!









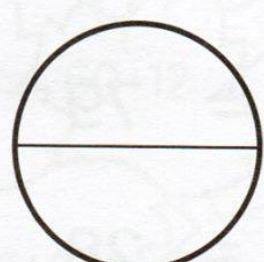
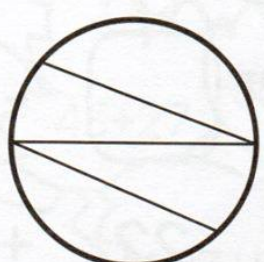

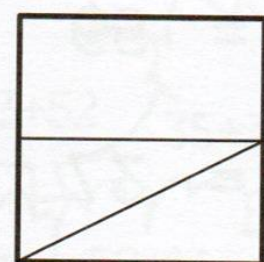


COMPLETA EL CRUCIGRAMA CON LOS NÚMEROS DEL 70 AL 79 ESCRITOS EN LETRAS. TE DEJAMOS COMO AYUDITA LOS NÚMEROS, PARA QUE VAYAS TACHANDO A MEDIDA QUE LOS UBIQUES ¡Y NO OLVIDES NINGUNO!






# PARTES IGUALES

EN CADA CATEGORÍA, HAZ UN CÍRCULO AZUL ALREDEDOR DE LA FIGURA QUE TENGA SUS PARTES IGUALES, Y A LAS QUE NO TENGAN PARTES IGUALES HAZLES UNA CRUZ ROJA.



# COMPLETAR OPERACIONES



¿QUÉ NÚMERO FALTA?

EN ESTAS OPERACIONES FALTAN ALGUNOS NÚMEROS.  
COMPLETA PARA QUE PUEDA ALCANZAR EL RESULTADO.

$$\square + 9 = 59$$

$$15 + \square = 37$$


$$24 + \square = 46$$

$$\square + 11 = 79$$

$$\square + 17 = 28$$

$$8 + \square = 64$$

$$\square + 47 = 68$$



$$\square - 12 = 76$$

$$22 + \square = 41$$


$$79 - \square = 63$$


$$\square + 11 = 70$$

$$\square - 22 = 57$$

$$39 + \square = 74$$

$$\square - 17 = 35$$







# COLOREA SEGÚN REFERENCIA


¡LLEGÓ EL OTOÑO!

LAS HOJAS DE LOS ÁRBOLES COMIENZAN A CAMBIAR SU COLOR.  
COLORÉALAS SEGÚN LA REFERENCIA QUE ENCUENTRAS DEBAJO.



AMARILLO: 70, 74, 76   VERDE: 73, 77   MARRÓN: 71, 72, 79   ROJO: 75, 78






¡HALLOWEEN!

EN CADA SECUENCIA DE NÚMEROS, UNO DE ELLOS HA DESAPARECIDO Y EN SU LUGAR SE HA COLOCADO UNA ILUSTRACIÓN DE HALLOWEEN. COLOCA JUNTO A CADA DIBUJO EL NÚMERO QUE CORRESPONDE.

49, 50, , 52

53, 54, 55, 

38, 39, , 41

, 38, 39, 40


21, , 23, 24

67, 68, 69, 

62, , 64, 65







, 77, 78, 79







58, , 60, 61


69, 70, 71, 

45, 46, , 48


, 30, 31, 32








# NÚMEROS DEL 80 AL 89

RECORRE LOS NÚMEROS CON TU DEDO ÍNDICE SIGUIENDO LAS DIRECCIONES INDICADAS. LUEGO COLORÉALOS. POR ÚLTIMO, DELINEA LOS NÚMEROS Y COMPLETA LOS RENGLONES.



80 80 80

81 81 81

82 82 82

83 83 83

84 84 84

85 85 85


86 86 86

87 87 87

88 88 88

89 89 89






¡CADA ABEJA EN SU PANAL!  
SEPARA LAS ABEJAS EN GRUPOS DE 10 CON UN CÍRCULO AZUL,  
PARA QUE HAYA LA MISMA CANTIDAD PARA CADA PANAL.  
LUEGO COMPLETA LAS ORACIONES.




HAY ..... PANALES DE ABEJAS, CON 10 ABEJAS  
CADA UNO.  
EN TOTAL SON ..... ABEJAS.





# UNIR PUNTOS


SIGUE EL ORDEN NUMÉRICO Y UNE LOS PUNTOS PARA DESCUBRIR LA ILUSTRACIÓN. LUEGO ESCRIBE EN LETRAS EL ÚLTIMO NÚMERO AL QUE LLEGASTE.



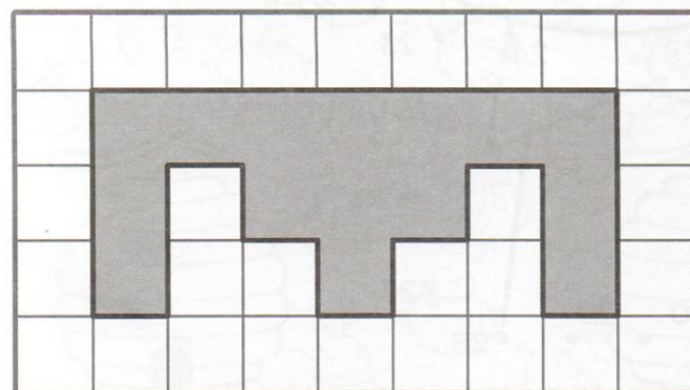


LLEGUÉ  
HASTA EL  
NÚMERO:




# DIBUJAR FORMAS



COPIA LAS FIGURAS DE LA IZQUIERDA EN LA GRILLA QUE ESTÁ A LA DERECHA.





# SUMA Y RESTA

¡COMPLETA LA HISTORIETA!

COMPLETA EL FINAL DE CADA HISTORIETA  
CON EL NÚMERO QUE CORRESPONDE.



TENGO 67  
CARAMELOS



ME COMÍ 5



ME QUEDAN .....  
CARAMELOS



TENGO 54  
LÁPICES



ME REGALARON  
35 MAS



EN TOTAL TENGO  
..... LÁPICES



TENGO 72  
FIGURITAS




LE REGALÉ 28  
A MI HERMANO



EN TOTAL TENGO  
..... FIGURITAS




# ANTERIOR Y POSTERIOR





COMPLETA SEGÚN CORRESPONDA DONDE ESTÉ UBICADA LA LÍNEA PUNTEADA, EL ANTERIOR O EL POSTERIOR DE CADA NÚMERO.





# NÚMEROS DEL 90 AL 99

RECORRE LOS NÚMEROS CON TU DEDO ÍNDICE SIGUIENDO LAS DIRECCIONES INDICADAS. LUEGO COLORÉALOS. POR ÚLTIMO, DELINEA LOS NÚMEROS Y COMPLETA LOS RENGLONES.



90 90 90

91 91 91

92 92 92

93 93 93

94 94 94

95 95 95



96 96 96

97 97 97

98 98 98

99 99 99





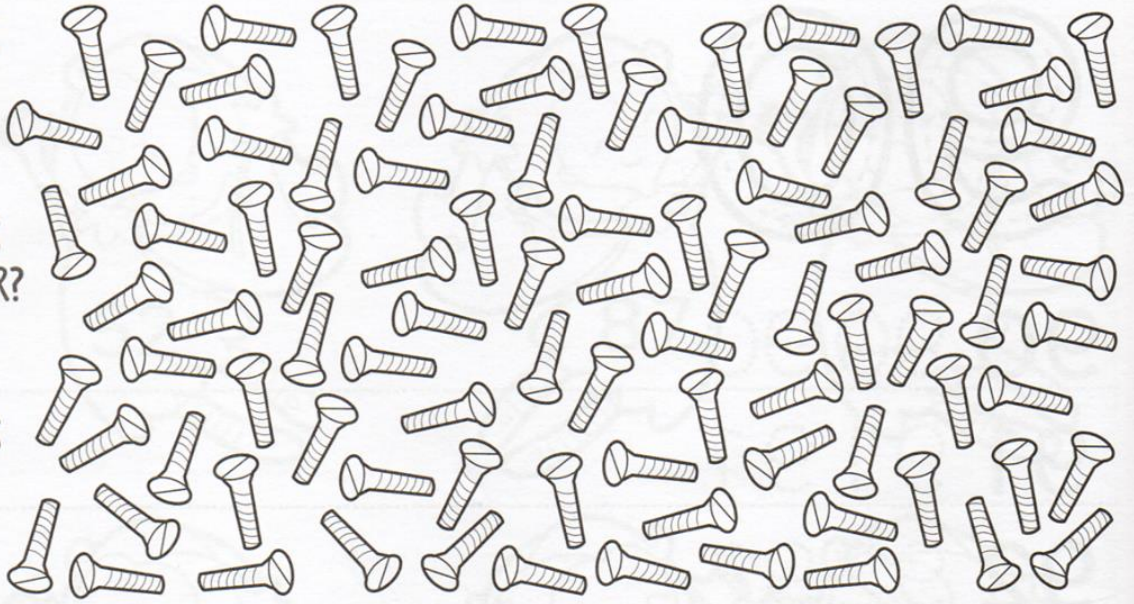
## ¡TORNILLOS DESORDENADOS!

AL CARPINTERO SE LE HAN DESORDENADO TODOS LOS TORNILLOS Y NO SABE SI LE ALCANZAN PARA LA BIBLIOTECA QUE TIENE QUE ARMAR. AGRÚPALOS DE A 10. AL FINAL COMPLETA LAS PREGUNTAS:


¿CUÁNTOS GRUPOS DE 10 HAS ARMADO?

¿CUÁNTOS TORNILLOS QUEDARON SIN AGRUPAR?

¿CUÁNTOS TORNILLOS HAY EN TOTAL?



RECORTA LOS NÚMEROS QUE ESTÁN INCLUIDOS EN EL LIBRO Y COMPLETA LA SECUENCIA DE LOS SOMBREROS.







¡CAMBIAMOS FIGURITAS!  
SEÑALA CON UNA X LA QUE ESTÁN PIDIENDO.



NOVENTA Y OCHO




SESENTA Y DOS



TREINTA Y CINCO








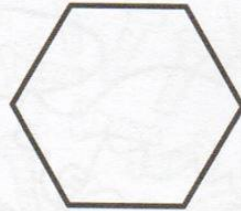


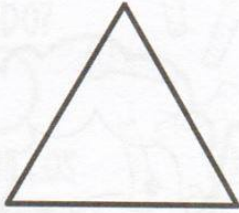



# DIBUJA FORMAS



¡A DIBUJAR!

UTILIZA LA PIZARRA DE REFERENCIA PARA PODER DIBUJAR LAS SIGUIENTES FORMAS, Y LOS PUNTOS PARA PODER DIBUJAR CADA ARISTA.





# FAMILIA DE NÚMEROS



COMPLETA LOS NÚMEROS DE CADA CAMINO, TENIENDO EN CUENTA EL PRIMERO INDICADO. LUEGO PINTA CON COLOR ROJO LOS NÚMEROS QUE DEN COMO RESULTADO LAS SIGUIENTES OPERACIONES.

$35 + 4$

$5 + 6$

$66 - 24$

$95 - 8$


$46 - 14$

$15 + 29$

A grid of 10 rows of numbers for a number line activity. Each row starts with a number and ends with an illustration. The numbers are: 10, 20, 30, 40, 50, 60, 70, 80, 90. The illustrations are: a dog, a worm, a chick, a bee, a cat, a mouse, a squirrel, a chick in a nest, and a monkey. Each number is followed by a path of 10 empty circles, each containing a dotted line for a number to be filled in.








# ANTERIOR Y POSTERIOR



¿QUÉ NÚMERO SE ESCONDE EN LA CAMISETA DEL MEDIO?

COLOCA EL NÚMERO QUE CORRESPONDA TENIENDO EN CUENTA EL ANTERIOR Y EL POSTERIOR.




59		61	21		23
37		39	45		47
14		16	62		64
70		72	93		95
89		91	56		58





RECORRE LOS NÚMEROS CON TU DEDO ÍNDICE SIGUIENDO LAS DIRECCIONES INDICADAS. LUEGO COLORÉALOS. POR ÚLTIMO, DELINEA LOS NÚMEROS Y COMPLETA LOS RENGLONES.



100 100 100

100 100 100

100 100 100

100 100 100

100 100 100

100 100 100

100 100 100

100 100 100


100 100 100

100 100 100






DIBUJA A CADA LEOPARDO LAS MANCHAS QUE LE FALTAN  
PARA LLEGAR A 10.  
LUEGO COMPLETA LAS PREGUNTAS.



¿CUÁNTAS MANCHAS EN TOTAL  
TIENEN TODOS LOS LEOPARDOS?







UNE LOS PUNTOS SIGUIENDO EL ORDEN NUMÉRICO Y DESCUBRE  
¡UN PERSONAJE MISTERIOSO!





CUENTA DE 10 EN 10, Y COLOCA EL NÚMERO QUE CORRESPONDA DENTRO DE CADA GALLETA.







ESCRIBE EL NOMBRE DE CADA NÚMERO EN LA LÍNEA PUNTEADA.






COLOREA RESPETANDO EL SIGUIENTE CÓDIGO.



- DEL 1 AL 10: AMARILLO
- DEL 11 AL 20: NARANJA
- DEL 21 AL 30: ROJO
- DEL 31 AL 40: ROSA
- DEL 41 AL 50: VIOLETA
- DEL 51 AL 60: AZUL
- DEL 61 AL 70: CELESTE
- DEL 71 AL 80: VERDE CLARO
- DEL 81 AL 90: VERDE OSCURO
- DEL 91 AL 100: MARRÓN




# MAYOR A MENOR



ORDENA LOS SIGUIENTES NÚMEROS DE MAYOR A MENOR  
DENTRO DE LAS TAZAS.



53 15 69 27 71 45 99 36  
82 100 24 47 73 91 50 39





# SUMA, RESTA, ANTERIOR Y POSTERIOR



¡DIEZ MÁS, DIEZ MENOS, UNO MÁS, UNO MENOS!  
COMPLETA SEGÚN CORRESPONDA TENIENDO EN CUENTA  
EL NÚMERO CENTRAL.

1	2	3	4	5	6	7	8	9	10
11	12	13	14	15	16	17	18	19	20
21	22	23	24	25	26	27	28	29	30
31	32	33	34	35	36	37	38	39	40
41	42	43	44	45	46	47	48	49	50
51	52	53	54	55	56	57	58	59	60
61	62	63	64	65	66	67	68	69	70
71	72	73	74	75	76	77	78	79	80
81	82	83	84	85	86	87	88	89	90
91	92	93	94	95	96	97	98	99	100

DIEZ MENOS

UNO MENOS

32

UNO MÁS

DIEZ MENOS

UNO MENOS

87

UNO MÁS

DIEZ MÁS

DIEZ MÁS

UNO MENOS

14

UNO MÁS

DIEZ MENOS

UNO MENOS

66

UNO MÁS

DIEZ MÁS

DIEZ MENOS

DIEZ MENOS

DIEZ MENOS

DIEZ MÁS

DIEZ MENOS

UNO MENOS

38

UNO MÁS

UNO MENOS

25

UNO MÁS

UNO MENOS

43

UNO MÁS


DIEZ MÁS

DIEZ MÁS

DIEZ MÁS



# SUMAS Y RESTAS




USANDO LA TABLA SUPERIOR, COMPLETA EL CUADRO INFERIOR.

1	2	3	4	5	6	7	8	9	10
11	12	13	14	15	16	17	18	19	20
21	22	23	24	25	26	27	28	29	30
31	32	33	34	35	36	37	38	39	40
41	42	43	44	45	46	47	48	49	50
51	52	53	54	55	56	57	58	59	60
61	62	63	64	65	66	67	68	69	70
71	72	73	74	75	76	77	78	79	80
81	82	83	84	85	86	87	88	89	90
91	92	93	94	95	96	97	98	99	100




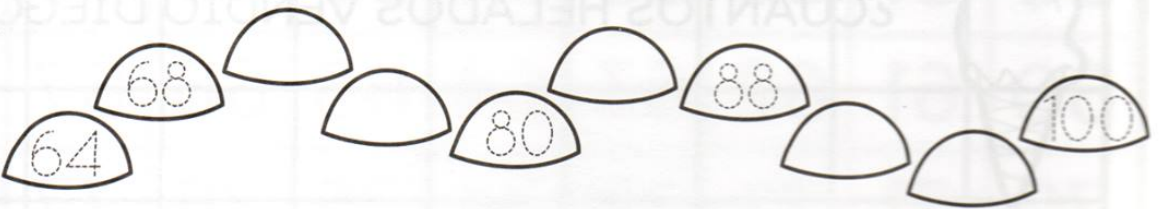

SI EMPIEZO EN EL	Y LE SUMO	LLEGO AL NÚMERO
15	32	
39	27	
57	43	
SI EMPIEZO EN EL	Y LE RESTO	LLEGO AL NÚMERO
98	46	
81	55	
73	15	






# SECUENCIAS

AYUDA A ESTOS GRILLOS A LLEGAR A SU CASITA  
RESPECTANDO LA SECUENCIA.

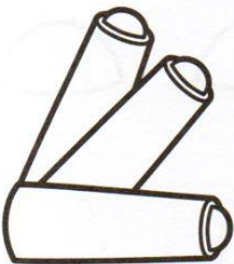


# PROBLEMAS



RESUELVE LOS SIGUIENTES PROBLEMAS MATEMÁTICOS.

LA MAESTRA TENÍA UNA CAJA DE 30 TIZAS  
Y EN LA SEMANA UTILIZÓ 6.  
¿CUÁNTAS TIZAS LE QUEDAN?



MARÍA TENÍA \$ 50 Y SU MAMÁ LE REGALÓ \$ 10 MÁS.  
¿CUÁNTO TIENE AHORA?



DIEGO VENDE HELADOS. LLEVÓ 50.  
AL FINAL DEL DÍA LE QUEDABAN 12.  
¿CUÁNTOS HELADOS VENDIÓ DIEGO?





MARTÍN ESTABA EN EL PISO 9 ESPERANDO EL ASCENSOR.  
TENÍA QUE SUBIR 14 PISOS. ¿A QUÉ PISO IBA?







# NÚMEROS DEL 1 AL 100



¡A JUGAR!

RECORTA LOS NÚMEROS INCLUIDOS EN ESTE LIBRO PARA HACER ESTE JUEGO. PONLOS BOCA ABAJO. CADA PARTICIPANTE DEBE COLOCAR UN PAPELITO DE COLOR O FICHITA EN LA SALIDA. POR TURNOS, DEBEN DAR VUELTA UNO DE LOS NÚMEROS. SI EL NÚMERO TIENE RAYITAS, AVANZAS, Y SI TIENE CIRCULITOS, RETROCEDES. SI TOCA RETROCEDER Y NO ALCANZAN LOS LUGARES, VUELVE A LA SALIDA. A MEDIDA QUE SE VAN USANDO, LOS NÚMEROS SE VAN DESCARTANDO. SI SE TERMINAN, SE VUELVEN A MEZCLAR Y A UTILIZAR. GANA EL QUE PRIMERO LLEGA AL CASILLERO DE LLEGADA.



	1	2	3	4	5	6	7	8	9
10	11	12	13	14	15	16	17	18	19
20	21	22	23	24	25	26	27	28	29
30	31	32	33	34	35	36	37	38	39
40	41	42	43	44	45	46	47	48	49
50	51	52	53	54	55	56	57	58	59
60	61	62	63	64	65	66	67	68	69
70	71	72	73	74	75	76	77	78	79
80	81	82	83	84	85	86	87	88	89
90	91	92	93	94	95	96	97	98	99

100  
LLEGADA



RECORTES

11



12



13



14



15



16



17



18



19



20



16



17



18



19



20



21



22



23



24



25



26



27



28



29



30



31



32



33



34



35



36



37



38



39



40



# RECORTES



41

42

43

44

44

46

46

47

48

49

1

2

3

4

5

1

2

3

4

5

6

7

8

9

10

6

7

8

9

10

11

12

13

14

15